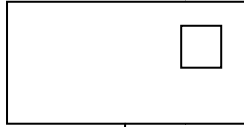


التمرين 1:

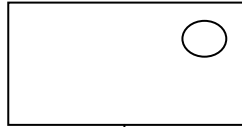
ألون النجمة الموجودة أسفل الخط باللون الأخضر وأون النجمة الموجودة فوق الخط باللون الأصفر




التمرين 2 : ألاحظ العدد وأكمل الرسم :



2




3




4

التمرين 3:


أعد الدجاج و ألون العدد المناسب :




1 2 5




3 1 2



1 4 3




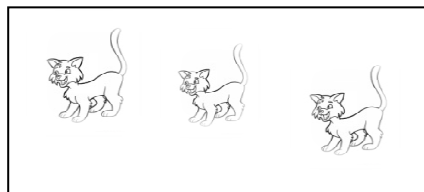

4 2 1



2 3 4

التمرين 4:

أكتب في كل بطاقة عدد القطط:



التمرين 5:

4
---	-------	-------

2
---	-------	-------

3
---	-------	-------

4
.....
.....

1
---	-------	-------

5
---	-------	-------

التمرين 6:

أكمل كتابة الأعداد مرتبة في الشريط

1	5
---	-------	-------	-------	---

التمرين 7:

ألون الإجابة الصحيحة :



اليسار

اليمين

السهم متجه إلى



اليسار

اليمين

السهم متجه إلى

