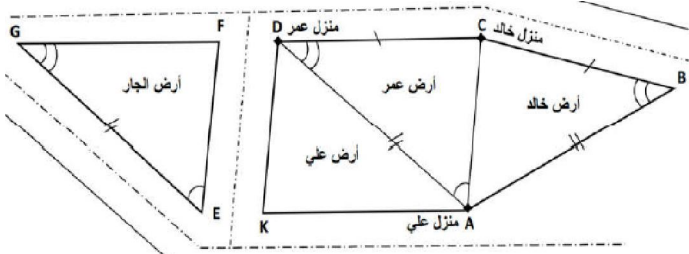
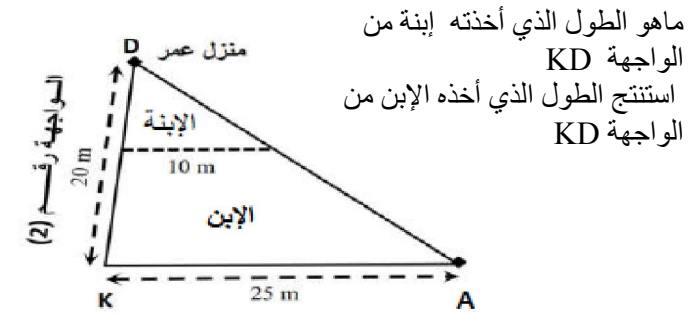


وضعية ادماج كلي : ورث ثلاثة إخوة خالد , علي وعمر قطعة أرض عن أبيهم فتقاسموها كما هو الشكل موضح في الشكل



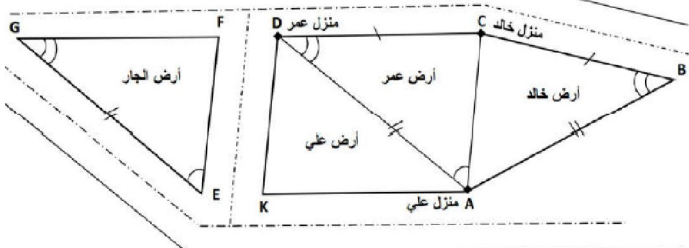
- 1/ هل الأراضي الثلاث (قطعة خالد , عمر و الجار) متقايصة ؟ علل
- 2/ يريد عمر حفر بئر لتزويد منزله و منزل أخويه خالد وعلي بالماء حيث يدفع الإخوة الثلاثة نفس تكلفة التوصيل ويريد خالد تركيب رشاش محوري في أرض بحيث يتمكن من سقي أكبر جزء دائري من قطعتة
- 3/ ساعد عمر في تحديد موقع حفر البئر و خالد في تحديد موقع وضع الرشاش المحوري بكتابة الخطوات اللازمة لذلك ثم حدد الموقعين على مخطط السابق ؟

أراد علي تقسيم قطعة أرضه على ابنه و إبنته بوضع جدار موازي للواجهة KA كما هو موضح في الشكل المقابل :



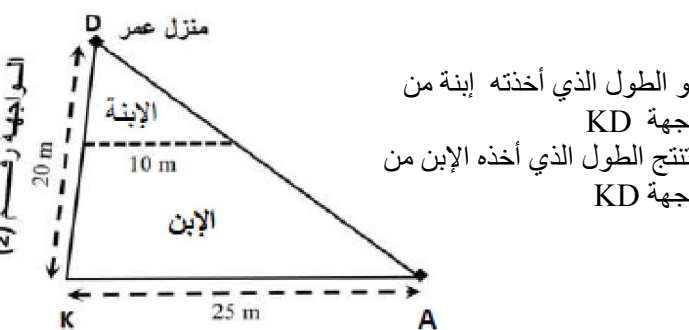
- ماهو الطول الذي أخذته إبنة من الواجهة KD
- استنتج الطول الذي أخذه الإبن من الواجهة KD

وضعية ادماج كلي : ورث ثلاثة إخوة خالد , علي وعمر قطعة أرض عن أبيهم فتقاسموها كما هو الشكل موضح في الشكل



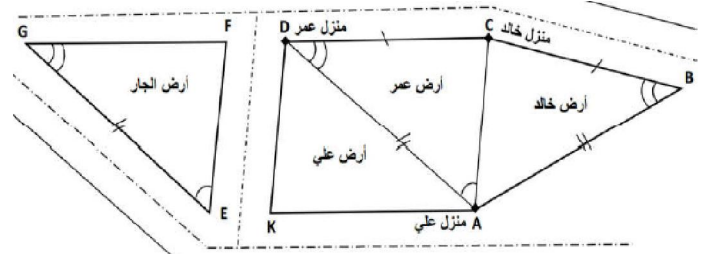
- 1/ هل الأراضي الثلاث (قطعة خالد , عمر و الجار) متقايصة ؟ علل
- 2/ يريد عمر حفر بئر لتزويد منزله و منزل أخويه خالد وعلي بالماء حيث يدفع الإخوة الثلاثة نفس تكلفة التوصيل ويريد خالد تركيب رشاش محوري في أرض بحيث يتمكن من سقي أكبر جزء دائري من قطعتة
- 3/ ساعد عمر في تحديد موقع حفر البئر و خالد في تحديد موقع وضع الرشاش المحوري بكتابة الخطوات اللازمة لذلك ثم حدد الموقعين على مخطط السابق ؟

أراد علي تقسيم قطعة أرضه على ابنه و إبنته بوضع جدار موازي للواجهة KA كما هو موضح في الشكل المقابل :



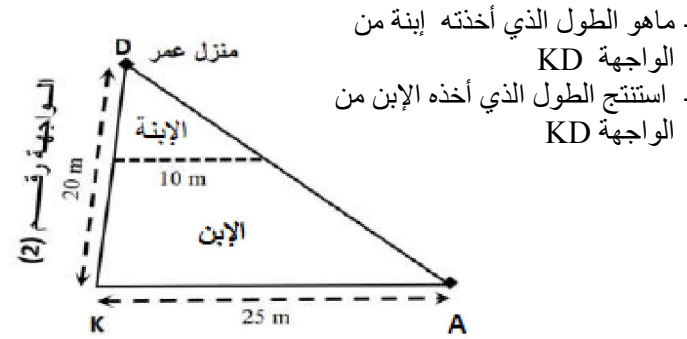
- ماهو الطول الذي أخذته إبنة من الواجهة KD
- استنتج الطول الذي أخذه الإبن من الواجهة KD

وضعية ادماج كلي : ورث ثلاثة إخوة خالد , علي وعمر قطعة أرض عن أبيهم فتقاسموها كما هو الشكل موضح في الشكل



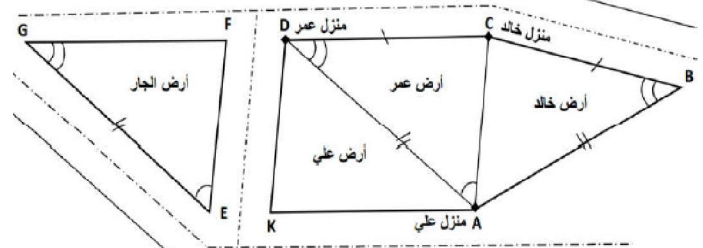
- 1/ هل الأراضي الثلاث (قطعة خالد , عمر و الجار) متقايصة ؟ علل
- 2/ يريد عمر حفر بئر لتزويد منزله و منزل أخويه خالد وعلي بالماء حيث يدفع الإخوة الثلاثة نفس تكلفة التوصيل ويريد خالد تركيب رشاش محوري في أرض بحيث يتمكن من سقي أكبر جزء دائري من قطعتة
- 3/ ساعد عمر في تحديد موقع حفر البئر و خالد في تحديد موقع وضع الرشاش المحوري بكتابة الخطوات اللازمة لذلك ثم حدد الموقعين على مخطط السابق ؟

أراد علي تقسيم قطعة أرضه على ابنه و إبنته بوضع جدار موازي للواجهة KA كما هو موضح في الشكل المقابل :



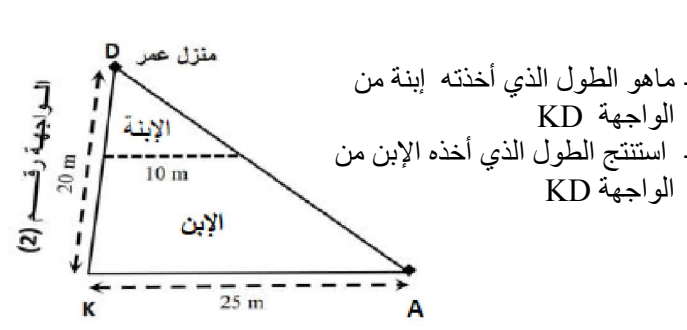
- ماهو الطول الذي أخذته إبنة من الواجهة KD
- استنتج الطول الذي أخذه الإبن من الواجهة KD

وضعية ادماج كلي : ورث ثلاثة إخوة خالد , علي وعمر قطعة أرض عن أبيهم فتقاسموها كما هو الشكل موضح في الشكل



- 1/ هل الأراضي الثلاث (قطعة خالد , عمر و الجار) متقايصة ؟ علل
- 2/ يريد عمر حفر بئر لتزويد منزله و منزل أخويه خالد وعلي بالماء حيث يدفع الإخوة الثلاثة نفس تكلفة التوصيل ويريد خالد تركيب رشاش محوري في أرض بحيث يتمكن من سقي أكبر جزء دائري من قطعتة
- 3/ ساعد عمر في تحديد موقع حفر البئر و خالد في تحديد موقع وضع الرشاش المحوري بكتابة الخطوات اللازمة لذلك ثم حدد الموقعين على مخطط السابق ؟

أراد علي تقسيم قطعة أرضه على ابنه و إبنته بوضع جدار موازي للواجهة KA كما هو موضح في الشكل المقابل :



- ماهو الطول الذي أخذته إبنة من الواجهة KD
- استنتج الطول الذي أخذه الإبن من الواجهة KD

