

لعبة ترتيب الصورة

أحسب ناتج كل خانة ثم قم بقص و لصق الصورة الصغيرة التي تحمل نفس النتيجة داخل هذه الخانة، ثم أتمم بنفس الطريقة لتملكك مع ترتيب الصورة الكبيرة بشكل صحيح .

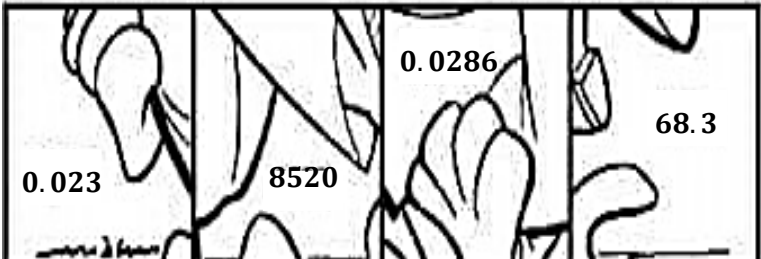
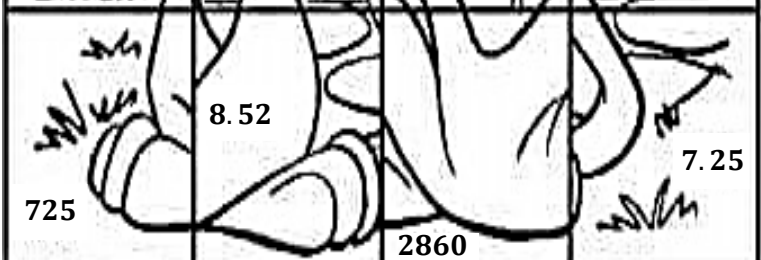
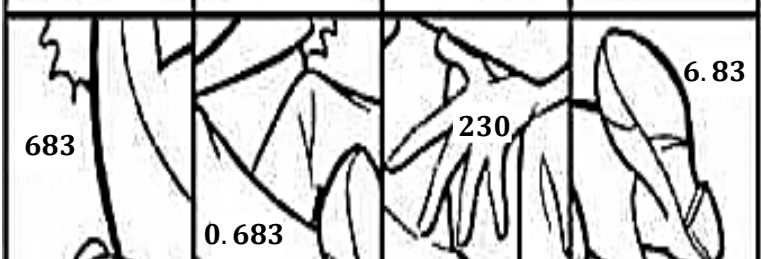

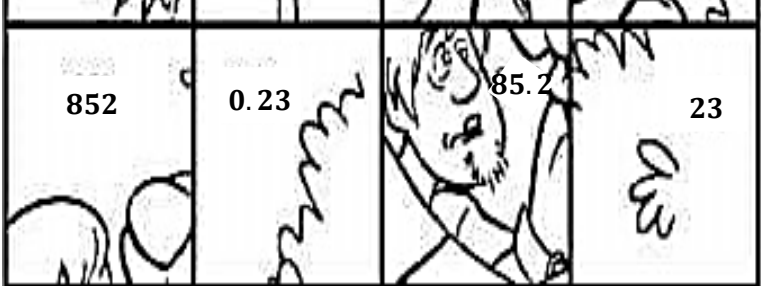


ممنوع استعمال الآلة الحاسبة



متوسط

①

7.25×10	85.2×10	$2.86 \div 10$	$2.3 \div 10$	
=	=	=	=	0.023 8520 0.0286 68.3
$72.5 \div 10$	$852 \div 10$	2.86×10	2.3×10	
=	=	=	=	725 8.52 2860 7.25
68.3×10	2.3×100	$6.83 \div 10$	$68.3 \div 10$	
=	=	=	=	683 0.683 230 6.83
$2.3 \div 100$	$2.86 \div 100$	85.2×100	0.683×100	
=	=	=	=	72.5 0.286 7.25 28.6
0.725×1000	2.86×1000	$852 \div 100$	$725 \div 100$	
=	=	=	=	852 0.23 85.2 23



الفوج الذي ينهي ترتيب الصورة أولا بشكل صحيح ، مرفقا بالحسابات .. يكون الفوج الفائز