

السنة الدراسية : 2022.2023

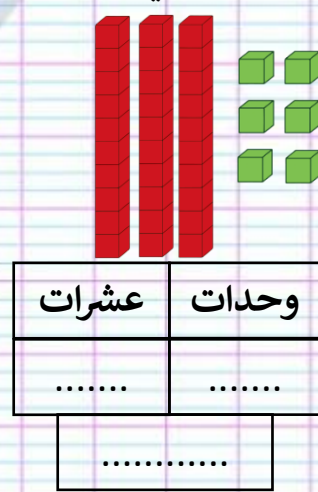
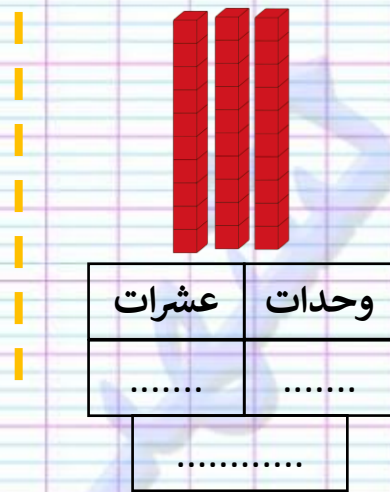
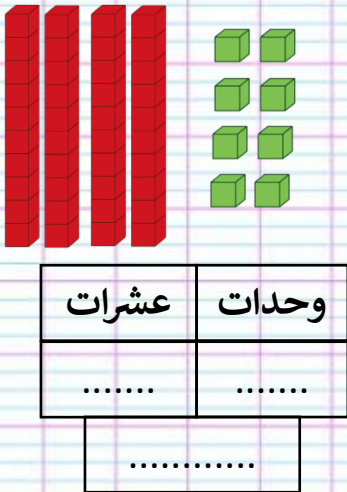
مراجعة في الرياضيات للسنة الأولى ابتدائي

الأستاذ لشهب يونس

التمرين الأول : أكمل ملأ الجدول :

العدد	كُتِبَتْهُ بِالْحُرُوفِ
34
.....	وَاحِدٌ وَثَلَاثُونَ
.....	تِسْعَةٌ وَعِشْرُونَ
26

التمرين الثاني : اكْتُبُ العددَ بِاسْتِعْمَالِ الوَحَدَاتِ وَالْعَشَرَاتِ :



التمرين الثالث : ألاحظُ ثُمَّ اكْمِلُ مُتَتَالِيَةَ الأَعْدَادِ التَّالِيَةِ:



التمرين الرابع : أَنْجِزْ مَا يَلِي:

$27 + 3 = \dots$

$32 + 8 = \dots$

$39 - 4 = \dots$

$34 - \dots = 30$

أَكْتُبُ العددَ الَّذِي يَسْبِقُ وَالعددَ الَّذِي يَلِي:

.....	37
-------	----	-------

.....	29
-------	----	-------

.....	24
-------	----	-------

الوضعية: عِنْدَ لُقْمَانَ 10 دَنَائِرٍ ، وَعِنْدَ أُخْتِهِ سَارَةَ نِصْفُ الْمَبْلَغِ.

كَمْ عَدَدُ دَنَائِرٍ سَارَةُ؟

تنشر الإجابات على قناتي في اليوتيوب وأيضا حلول التقويمات والإختبارات



اسم القناة / الأستاذ لشهب يونس

رابط القناة للاشتراك

<https://www.youtube.com/channel/UCLAuplp2fGUjoyR2DhvFrOg>

للتواصل مع صفحتنا في الفيسبوك



اسم الصفحة / صفحة الرفيق للتعليم للأستاذ لشهب يونس

رابط الصفحة للاشتراك

<https://www.facebook.com/RafikEducation/>