

1 - أكمل كتابة الأعداد :

110 - - - - - 101

2 - أرتب الأعداد ترتيبا تصاعديا :

156 - 125 - 143 - 136 - 167

3 - أحسب ما يلي :

23 + 35	57 + 42	35 + 32	48 + 31	26 + 43

إختبار شهر أكتوبر في اللغة

- كتابة -

إن الصدق يهدي إلى البر و إن البر يهدي إلى الجنة .

- إملاء -

أنا تلميذ ذكي و عاقل ، أمشي على الرصيف و لا أمشي وسط الشارع .

- تمرين -

1 - أضع (أنا) ، (نحن) ، (هو) ، (أنت) ، (هي) :

- أغسل الأواني و ترتيبها في الصيهور .

- ينظف أسنانه قبل النوم . - نزور أقاربنا . - ترسم منزلا .

2 - أكتب بكل حرف كلمتين :

ث : - - - - - ذ : - - - - - س : - - - - - ع : - - - - -
ص : - - - - - ض : - - - - - ح : - - - - -

- تعبير -

1 - أرتب الجمل :

- في - تضع - الصيهور - الأم - الأواني .

- أدواتي - أنا - في - أرتب - المحفظة .

- المجتهد - يراجع - التلميذ - دروسه .

2 - أضع كل كلمة في مكانها المناسب :

- التعب - أنا - تعاون - تشكو - أبي - مرتاحة - سبب .

كانت أُمي سعيدة ، لا من سألتها عن ذلك فقالت :

اختبار شهر نوفمبر في اللغة

كتابة (7 ن)

- س - مسلم - المسلم من سلم المسلمون من لسانه و يده .

إملاء (10 ن)

زرنا مختلف أروقة المتحف ، ثم استمعنا إلى أحد المجاهدين و هو يتحدث عن الثورة .

تمرين (10 ن)

- 1 - أضع : عن - هم - ل - أنتم - على .
- تحسنون لفقراء . - يحافظون نظافة القسم . تعلمنا اليوم درسا ... النظافة .
2 - أكون من الشبكة كلمات :

ز	ج	د	غ	جاء
و	ب	و	ء	رق

- صغير الكلب
- طائر أسود اللون
- ينالها المجتهد
- نتناوله حين نمرض
- مركب الصياد

تعبير (8 ن)

- 1 - أرتب الجمل لأكون فقرة :
- أتمنى أن يعود عليك .
- أن أكتب لك هذه الكلمات لأهنتك .
- وأن يلقالك كل سنة بخير .
- يسعدني بمناسبة عيد الفطر .
- هذا العيد بالصحة و العافية .
2 - أوظف كل كلمة في جملة : منبر - حصالة .

اختبار شهر نوفمبر في الرياضيات

1 - أنجز العمليات التالية : (4 ن)

$\begin{array}{r} 242 \\ + \dots \\ \hline \end{array}$	$\begin{array}{r} 243 \\ + 154 \\ \hline \end{array}$	$\begin{array}{r} 126 \\ + \dots \\ \hline \end{array}$	$\begin{array}{r} 145 \\ + 236 \\ \hline \end{array}$
375		468	

2 - أكمل كتابة الأعداد : (2 ن)

285 - 290 - - - - - 315

3 - أضع العلامة المناسبة : (4 ن) = < - >

442 442 - 287 387 - 125 289 - 156 145

العام الدراسي : 07 - 08 .

المدرسة : ابتدائية شمني الهاشمي بسكرة .
المستوى : السنة الثانية ابتدائي .

إختبارات الثلاثي الأول

الرياضيات

1- أنجز : (3 ن)

$\begin{array}{r} 35 \\ + 24 \\ \hline \end{array}$	$\begin{array}{r} 245 \\ + 234 \\ \hline \end{array}$	$\begin{array}{r} 158 \\ + 337 \\ \hline \end{array}$

2 - أكتب الأعداد التالية في الجدول . (2 ن)

أ	ع	م

461 - 187 - 204 - 320

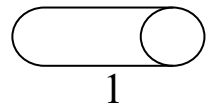
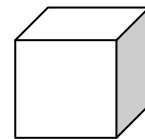
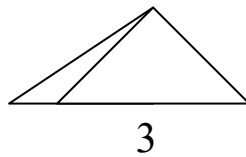
3- أضع العلامة المناسبة : < - > - = (1.5 ن)

156 287 - 300 300 - 412 415

4 - أكمل كتابة الأعداد : (2 ن)

..... - - - - 200 - 100

5 - أسمى المجسمات : (1.5 ن)



2

ت . اسلامية

1 - أكتب صحيح أو خاطئ (3 ن)

- أبدأ بالتحية قبل الكلام . - أقطع المتحدث . - أتكلم كلاما سيئا .

2 - أضع خطأ تحت صفات المسلم الحسنة . (2 ن)

الصدق - الخيانة - الكذب - الأمانة .

3 - أكمل سورة المسد ب : نارا - أبي لهب - حبل - امرأته - ماله . (5 ن)

بِسْمِ اللَّهِ الرَّحْمَنِ الرَّحِيمِ

« تبت يدا لهب وتب ما أغنى عنه و ما كسب سيصلى ذات لهب و حمالة
الخطب في جديها من مسد . »
صدق الله العظيم

ت . مدنية

1 - أجب : (2.5 ن)

- ما ذا يسمى والد الأب ؟
- ما ذا يسمى أخ الأب ؟
- ما ذا يسمى أخ الأم ؟
- ما ذا تسمى أخت الأم ؟
- ما ذا تسمى أخت الأب ؟

2 - أضع العبارة المناسبة : تلميذ فوضوي - تلميذ كسول - تلميذ مجتهد - تلميذ مواظب . (4 ن)

- تلميذ يراجع دروسه دائما
- تلميذ لا ينجز واجباته
- تلميذ يحضر في الوقت
- تلميذ لا يرتب أدواته

3 - أكمل : (2 ن)

- اسم مدرستي
- توجد في المدرسة مرافق متعددة هي : ، ،

4 - ماذا يتعلم التلميذ في المدرسة؟ (1.5 ن)

ت . ع . وتك

1 - سمي أنواع الأسنان ؟ (3 ن)

2 - أكمل الفراغ بما يناسب : (4 ن)

- عندما يرتفع الصدر الهواء .
- عندما ينخفض الصدر الهواء .
- بالأذن الموسيقى .
- ألاحظ الأشياء .

3 - أضع علامة (x) في المكان المناسب : (3 ن)

القدرة	رضيع	طفل عمره 7 سنوات
الضحك		
القراءة		
الحركة		

اللغة

كتابة (7 ن)

- من كان يؤمن بالله فليحسن إلى جاره .

إملاء (10 ن)

قالت العين : أنا جوهرة ثمينة ، بواسطتي تشاهد المناظر الجميلة ، لولاي لعشت في ظلام .

تمرين (10 ن)

- 1 - أضع : هذا - أنتم - هذه - هم. (4 ن)
- يمارسون الرياضة . - تلميذة مجتهدة . - ... تغرسون الأشجار . - كتاب مفيد .
- 2 - أكمل الكلمات بالحرف الناقص : ع - م - ص - ق . (3.5 ن)
- نحي الـ...لـ.. باحترام..... - لم.... البر..... و تبعهوت الـ...د .
- 3 - أكون من الشبكة كلمات . (2.5 ن)

أذ	بح	قل	بي	ثع
ر	ن	لب	ض	م

- عضو نسمع به _____
- نكتب به _____
- تقدمه لنا الدجاجة _____
- نسبح فيه _____
- حيوان متوحش _____

تعبير (8 ن)

- 1- أرتب الجمل لأكون فقرة : (5 ن)
- أتلس حذائي و بذلتي الجديدة .
- لم أنم الليلة الماضية .
- و هما يرقدان معي .
- بل بقيت مستيقظا أنتظر طلوع النهار .
- 2 - أوظف كل كلمة في جملة : لم - قبل. (3 ن)

اختبار شهر جانفي في اللغة

كتابة (7 ن)

الريف هادئ لا يوجد فيه ازدحام ، ولا دخان السيارات . ما أجمل الحياة فيه !

إملاء (10 ن)

زار التلاميذ المطار ، فوقفوا مع المعلمة و أحد الموظفين على الشرفة . اندهش التلاميذ لما رأوا على المدارج طائرات من مختلف الأحجام و حافلات و سيارات كثيرة .

تعبير (8 ن)

1 - أرتب الجمل لأكون فقرة :

- ألقى نظرة عليه .
- فجأة توقف المحرك .
- ركبنا السيارة و توجهنا إلى منزل خالتي .
- نزل أبي و رفع غطاء المحرك .
- حاول تشغيل المحرك عدة مرات ، لا فائدة .

.....

.....

.....

.....

.....

.....

2 - أضع التاء المفتوحة (ت) أو المربوطة (ة) في الفراغ المناسب :

- اشترى .. خديج .. دمي .. جميل .. .
- رسم .. فاطم .. شاحن .. طويل .. .

إمضاء الولي :

اختبار شهر جانفي في الرياضيات

1 - أنجز العمليات التالية : (2 ن)

$\begin{array}{r} 316 \\ - 213 \\ \hline \end{array}$	$\begin{array}{r} 69 \\ - 34 \\ \hline \end{array}$	$\begin{array}{r} 105 \\ + \dots \\ \hline 405 \end{array}$	$\begin{array}{r} 136 \\ + 229 \\ \hline \end{array}$

2 - أكمل : (2 ن)

في السنة شهرا و هي

3 - أضع العلامة المناسبة : > - < - = (2 ن)

329 325 - 498 498 - 256 267 - 354 236

4 - مسألة (4 ن)

عند طارق 298 دينار و زاده والده 267 دينار .

- كم دينارا صار معه ؟

اشترى لعبة بـ 243 دينار .

- كم دينارا بقي عنده ؟

اختبار شهر فيفري في اللغة

كتابة (7 ن)

بعد قضاء ليلة هادئة ، استيقظت زينب و سلمى باكرا لترافقا الجد و الفلاحين إلى الحقل .

إملاء (10 ن)

يراقب النحال عمل النحلات داخل الخلية و يعتني بها . وعندما تمتلئ الأقراص بالعسل ، يخرجها بهدوء بعد أن يغطي وجهه ببرقع رقيق كي لا تلسعه .

تعبير (8 ن)

1 - أرتب الجمل التالية لأكون فقرة :

- ليعرفهما بمرافق المزرعة .
- خرجت زينب و سلمى مع جدهما .
- دخلت البنتان مع الجد إلى الحوش ،
- فرأوا الديك يتبختر كأنه سيد الحوش .
- قالت زينب : أريد أن أزور حوش الطيور .

2 - أكتب فقرة تصف فيها حيوانا .

اختبار شهر فيفري في الرياضيات

1 - أنجز العمليات التالية : (2 ن)

479 - 235	685 - 263	342 + ...	347 + 478
		796	

2 - أتم : (2 ن)

$$5 \times 3 = \dots = \dots$$

$$5 \times 3 = \dots = \dots$$

$$2 + 2 + 2 + 2 = \dots \times \dots = \dots$$

$$6 + 6 + 6 = \dots \times \dots = \dots$$

3 - أضع العلامة المناسبة : (2 ن)

$$504 \dots 624 - 752 \dots 836 - 549 \dots 549 - 785 \dots 758$$

4 - أكتب الأعداد بالحروف : (2 ن)

: 309

: 642

: 265

: 570

5 - مسألة (2 ن)

عند عامر 86 دينار .

اشترى كتابا بـ 76 دينار .

- كم دينارا بقي عنده ؟

العام الدراسي : 07 - 08 .

المدرسة : ابتدائية شمعي الهاشمي بسكرة .

المستوى : السنة الثانية ابتدائي .

إختبارات الثلاثي الثاني

الرياضيات

1 - أضع العلامة المناسبة : (2 ن)

$$476 \dots 207 - 957 \dots 957 - 236 \dots 458 - 503 \dots 603$$

2 - أفكك أو أركب الأعداد. (3 ن)

$$500 + 40 + 7 = \dots$$

$$200 + 60 + 3 = \dots$$

$$900 + 90 + 9 = \dots$$

$$478 = \dots + \dots + \dots$$

$$650 = \dots + \dots + \dots$$

$$803 = \dots + \dots + \dots$$

3 - أرتب الأعداد ترتيبا تنازليا : (2 ن)

مسألة (3 ن)

عند ليلى 145 ديناراً و تريد شراء كتاباً بـ 365 ديناراً .
كم ديناراً ينقصها لشراء الكتاب

التربية الاسلامية

1 - أكتب اسم السورة المأخوذة منها كل آية. (3 ن)

- ألم يجعل كيدهم في تضليل. - سلام هي حتى مطلع الفجر. - إن الإنسان لفي خسر .

2 - أربط بين الجملة و الجملة المناسبة لها . (2 ن)

- الاسلام حثنا على التحلي
- المسلم من سلم المسلمون من
- الجار المحترم
- ليس منا من
- لا يؤذي جيرانه .
- لم يحترم كبيرنا .
- لسانه و يده .
- بالخلق الحسن .

3 - كيف يكون الرفق بالحيوان ؟ (2 ن)

4 - اكتب الآية التي حثنا فيها الله تعالى بآداب الطريق . (3 ن)

التربية المدنية

1 - ما هو الحوار ؟ (2 ن)

2- أملأ الفراغ بالكلمة المناسبة : يساند - الصعبة - المحبة . (3 ن)

التعاون يجعل الأمور سهلة ، و يعمل على زرع و الأخوة بين الأفراد .
فالقوي الضعيف إذا احتاج إليه

3 - عن ماذا تكون مسؤولاً في البيت ؟ (2 ن)

4 - أكتب (ص) أو (خ) (3 ن)

- و أنا أتجاوز مع غيري أتكلم أكثر مما أستمع .
- أكون مسؤولاً في المدرسة عن انجاز واجباتي .
- أقول لمن أخطأت معه : سامحني .
- لا أتعاون مع زملائي على العناية بالحديقة .
- التسامح يزيل المحبة بين الناس .
- العمل التطوعي منفعة للجميع .

التربية العلمية

- 1 - أكمل الفراغ بما يناسبه : (3.5 ن)
النبات يحتاج في تغذيته إلى و عند غيابه و
- تحتوي كل البذور على و عند الإنبات تكبر و تعطي نباتا يحتوي على تدخل في التربة .
و يخرج من التربة و يحمل
- 2 - مم ينشأ النبات ؟ (2 ن)
- 3 - ارسم مرحلة من مراحل إنبات البذرة . (2 ن)
- 4 - أرتب مراحل نمو النبات : (2.5 ن)
- تعطي نباتا صغيرا .
- يزداد سمك و طول الجذر و الساق ، تتفرع الأغصان و تكثر .
- تنتش البذور .
- تظهر الأزهار و تعطي ثمارا بداخلها بذور .

اللغة

كتابة (7 ن)

- الحمام طائر يكسو جسمه ريش ناعم له منقار قصير و جناحان قويان .

إملاء (10 ن)

الأسماك حيوانات تستطيع التنفس تحت الماء بواسطة خياشمها . و لها زعانف على شكل أجنحة تساعدها على السباحة و تتغذى الأسماك الصغيرة بالنباتات التي تعيش في قاع البحر .

تعبير (8 ن)

- 1 - أحول إلى المثني :
- الفلاح يغرس الأشجار و يعتني بها .
- التلميذ يراجع دروسه .
1- أكتب فقرة تتكلم فيها عن حكاية الأرنب والأسد .

اختبار شهر أفريل في اللغة

كتابة (7 ن)

استطاع الإنسان أن يصل إلى القمر ، فمشى عليه ، والتقط له الصور ، ثم عاد إلى الأرض .

إملاء (10 ن)

استطاع العلماء أن يصنعوا مركبة فضائية هبطت على سطح القمر ، وعلى شاشة التلفاز شاهد الناس رواد الفضاء ، و هم يمشون على سطح القمر ، و يجمعون من ترابه و حجارته .

تعبير (8 ن)

- 1 - أصح كتابة الهمزة في الكلمات التالية:
- الشتاء - جريؤ - هدوأ - مليؤ
- 2 - أحول إلى صيغة المثني :
- الولد يكتب الدرس .
- يفتح الحارس الباب .
- 3 - أكتب فقرة أتحدث فيها عما قمت به في العطلة .

اختبار شهر أفريل في الرياضيات

1 - أفكك أو أركب الأعداد : (2 ن)

$$\begin{array}{l|l} 300 + 20 + 15 = & 265 = \\ 400 + 30 + 26 = & 750 = \end{array}$$

2 - أرتب المدد الزمنية من أقصر مدة إلى أطول مدة : (2 ن)

3 أسابيع - 48 ساعة - 19 يوما - نصف شهر

3 - أكمل : (1.5 ن)

للمكعب حد و رؤوس و وجوه

4 - أكمل : (2 ن)

8 ضعف 10 نصف
50 ضعف 15 نصف

5 - أرسم شكلا هندسيا له 6 أضلاع : (2.5 ن)

المدرسة : . العام الدراسي : 07 – 08 . المستوى : السنة الثانية ابتدائي .

إختبارات الثلاثي الثالث

الرياضيات

1 - أضع العلامة المناسبة : > - < - = (2 ن)
658 748 - 534 536 - 890 809 - 456 465

2 - أكتب الأعداد بالحروف. (2 ن)
596 - 247 - 608 - 490

3- أنجز العمليات التالية : (2 ن)

645 - 239	789 - 354	456 + 289	478 + 235

4 - أكمل (2 ن)

20 نصف
10 ضعف
100 نصف
40 ضعف

مسألة (2 ن)

اشترت ليلي 3 كتب ثمن الكتاب الواحد 230 دينارا .
ما هو ثمن كل الكتب ؟

التربية الإسلامية

1 - أكتب اسم السورة المأخوذة منها كل آية. (3 ن)

- تنزل الملائكة و الروح فيها بإذن ربهم من كل أمر . - الذين هم عن صلاتهم ساهون . - فليعبدوا رب هذا البيت .

2 - هل تصح الصلاة بدون وضوء ؟ (1.5 ن)

3 - ما هو دعاء الدخول إلى المسجد ؟ (1.5 ن)

4 - أضع خطا تحت حقوق الوالدين : (2.5 ن)

التكبر عليهما - الإحسان إليهما - التواضع لهما - عقوقهما - طاعتهما .

5- أكتب عدد الركعات لكل صلاة : (1.5 ن)

- الصبح - العصر - المغرب .

التربية المدنية

1 - أكمل : (2.5 ن)

- الماء ضروري لحياة و و
- الأشجار نوعان منها و

2- متى نحتفل بعيد الشجرة ؟ (1.5 ن)

3 - أضع خطأ تحت كل فائدة من فوائد للشجرة (1.5 ن)

- أعطيكم الظلال الوافرة . - أنقص ماءكم . - أحمي تربتكم من الانجراف .

4 - من يقوم بإنشاء المساحات الخضراء ؟ (1.5 ن)

5 - أصحح الخطأ في الجمل : (3 ن)

- لا أحرص على نظافتي جسمي و ثيابي .
- الماء الملوث مفيد للجسم .
- للشجرة فوائد كثيرة لهذا لا أحرص على غرسها .

التربية العلمية

1 - أربط اسم كل حيوان بغذائه المفضل : (2 ن)

- | | |
|-----------|----------|
| - الخروف | - الحبوب |
| - القط | - الجزر |
| - الدجاجة | - اللحم |

2 - أملأ الفراغ بما يناسب : (4 ن)

- المقص القماش . - المنشار الخشب . - المفك البرغي . - المفتاح الصامولة في اللولب .
- الزلزال هو و إنه ظاهرة طبيعية لا يجب أن ، أقف أمام أعمدة البيت أو

3 - ماذا يشترط عند التكاثر ؟ (2 ن)

4 - أسم مواد تشكل باليد و أخرى بالقالب . (2 ن)

اللغة

- في مساء يوم الخميس ، قدم تلاميذ مدرسة الزهور حفلا رائعا في قاعة ابن خلدون بمناسبة نهاية السنة الدراسية .

إملاء (10 ن)

هكذا قضى الرعاة يومهم مع أغنامهم ، حتى حل المساء جمعوها ثم سلكوا بها طريق العودة إلى القرية. و كم كان منظر القطيع جميلا مع الغروب .

تعبير (9 ن)

1 - أستعمل أ - لمن - كم لأكتب أسئلة للأجوبة التالية : (3)

- اشتريت الهدية لأختي.

- عمري سبع سنوات .

- نعم ، راجعت دروسي .

1- أصحح كتابة الكلمات : (2)

- مليؤ - هاكذا - اكتبو - كذاك .

3 - أعبر كتابيا عن الشجرة وفوائدها (4)