



أحسنّت وبارك  
الله فيك يا بني

## مراجعة رقم 03 في الرياضيات للسنة الأولى ابتدائي


### (1) شَطِّبْ عَلَى الْأَشْيَاءِ الزَّائِدَةَ فِي كُلِّ مَجْمُوعَةٍ :



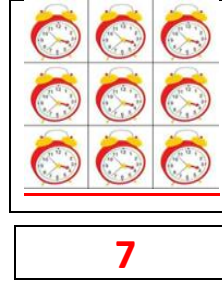
8



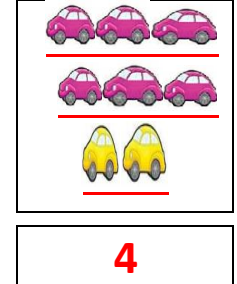
5



0



7



4

### (2) لَوْن (فوق ) أو (تحت ) :

الطَّائِلَة	تحت	فوق	المُزْهَرِيَّة	✓
الطَّائِلَة	تحت	فوق	القَلَم	✓
الطَّائِلَة	تحت	فوق	الْكُرَّة	✓
الطَّائِلَة	تحت	فوق	الْكِتَاب	✓
الطَّائِلَة	تحت	فوق	الْقَط	✓
الطَّائِلَة	تحت	فوق	حَوْضُ السَّمَك	✓



### (3) ارْسُمْ فَرَاشَةَ أَمَامَ الْبَيْتِ وَوَرْدَةً وَرَاءَهَا



### (4) لَوْن بِالْأَحْمَرِ الْأَقْرَاصَ الْمَوْجُودَةَ فِي أَعْلَى الْبُطَاقَةِ وَبِالْأَخْضَرِ الْأَقْرَاصَ الْمَوْجُودَةَ فِي أَسْفَلِهَا:







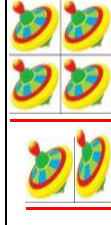

✓ لَوْن بِالْأَخْضَرِ النُّجُومَ الْمَوْجُودَةَ فِي أَعْلَى الْبُطَاقَةِ وَبِالْأَزْرَقِ الْمَوْجُودَةَ فِي أَسْفَلِهَا :

○	☆	○	☆	☆	○	○
○	☆	☆	○	☆	○	☆






### (5) أَحْصِ عَدَدَ الْأَشْكَالِ ثُمَّ اكْتُبْهُ فِي الْجَدْوَلِ

	<table> <tr> <th>الاشكال</th><th>العدد</th></tr> <tr> <td>☆</td><td></td></tr> <tr> <td>○</td><td></td></tr> <tr> <td>△</td><td></td></tr> <tr> <td>□</td><td></td></tr> </table>	الاشكال	العدد	☆		○		△		□	
الاشكال	العدد										
☆											
○											
△											
□											

(6) اكْمَلِ الْبُطَاقَاتِ وَقَارِنْ الْأَعْدَادَ ثُمَّ لَوِّنْ خَانَةَ الْإِجَابَةِ الصَّحِيحَةَ :

							
<input type="radio"/>	<input type="radio"/>	<input type="radio"/>	<input type="radio"/>	<input type="radio"/>	<input type="radio"/>	<input type="radio"/>	<input type="radio"/>
أكبر من	أكبر من	أكبر من	أكبر من	أكبر من	أكبر من	أكبر من	أكبر من
أصغر من	أصغر من	أصغر من	أصغر من	أصغر من	أصغر من	أصغر من	أصغر من
يساوي	يساوي	يساوي	يساوي	يساوي	يساوي	يساوي	يساوي





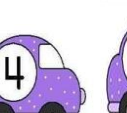
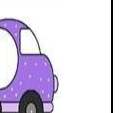










(7) رَتِّبْ أَشْجَارَ النَّخِيلِ مِنَ الْأَقْصَرِ إِلَى الْأَطْوَلِ :

				
<input type="radio"/>	<input type="radio"/>	<input type="radio"/>	<input type="radio"/>	<input type="radio"/>

(8) لَاحِظْ وَرَتِّبْ الْأَعْدَادَ مِنَ الْأَكْبَرِ إِلَى الْأَصْغَرِ :

9 5 8 4	10 2 1 8	1 7 4 9	8 3 10 1
<input type="radio"/>	<input type="radio"/>	<input type="radio"/>	<input type="radio"/>

(9) اكْتُبْ عَنِ الْيَسَارِ الْعَدَدَ الَّذِي يَسْبِقُ وَعَنِ الْيَمِينِ الْعَدَدَ الَّذِي يَلِي (لاحظ المثال):

(10) أَحْسِبْ مَا يَلِي :

4 + 1 = ...	8 + 1 = ....	6 + 4 = ....	5 + 3 = ....	7 + 2 = ....	9 + 0 = ....
9 - 2 = .....	2 - 1 = .....	10 - 0 = ...	8 - 5 = ....	7 - 6 = ....	3 - 2 = .....
5 + 1 = ....	7 + 3 = ....	9 + 1 = ...	8 - 8 = .....	9 - 7 = ....	6 - 4 = ...

إن أحسنت فمن الله وإن أسأت أو أخطأت فمن نفسي والشيطان