
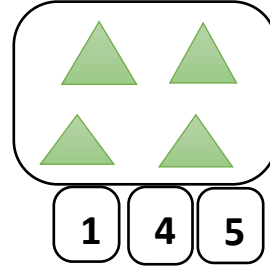

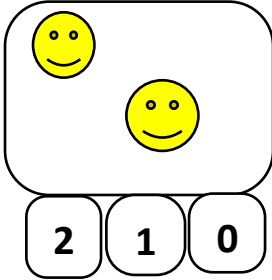
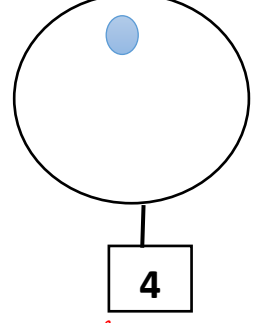
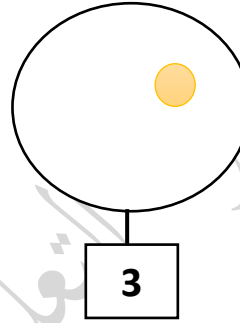
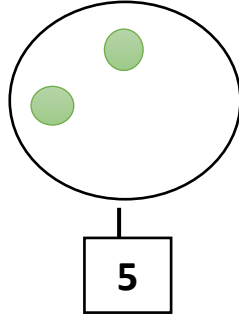
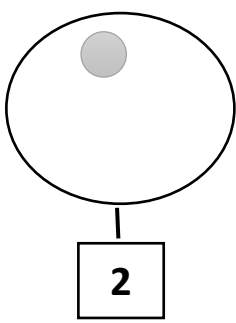


مراجعة رقم 01 في الرياضيات  
للسنة الأولى ابتدائي


(1) أَحْسِبْ وَأَلَوْنُ الْعَدَدَ الصَّحِيحَ :



(2) أَرَسِّمُ الْقَرِئَصَاتِ النَّاقِصَةَ :



(3) أَرِطْ بَسْهَمِ كُلِّ عَدَدٍ بِمَا يُنَاسِبُهُ :



3

5

2

4

1

(4) أَلَوْنُ الْعَدَدِ الْأَكْبَرِ فِي كُلِّ مَجْمُوعَةٍ :

0	2	5	1	5	2	3	1
3		4		3		4	

(5) أَكْتُبْ :

							1	1	1
							2	2	2
							3	3	3
							4	4	4
							5	5	5