

مدرسة الشيخ البشير الابراهيمى . سيدى عيسى .

العام الدراسى :

المعلم : محمود العمرى

قسم السنة الأولى – أ –

# واجبات منزلية

## للعطلة الربيعية

التلميذ(ة) : .....

بالتوفيق إن شاء الله

 **محمود العمرى**

## مادة التربية الإسلامية

### التمرين الأول:

#### أربط بما يناسب:

سورة الإخلاص	الحمد لله رب العالمين
سورة الفاتحة	قل هو الله أحد
سورة الفلق	طلب العلم فريضة
على كل مسلم .	ومن شر غاسق إذا وقب

### التمرين الثاني:

#### أعيد كتابة الصلوات كتابة مرتبة :

المغرب - الصبح - العصر - الظهر - العشاء

(.....) (.....) (.....) (.....) (.....)

### التمرين الثالث:

ضع كلمة (نعم) أو (لا) في المكان المناسب.

- 1- أطيع الله ورسوله (.....)
- 2- أطيع الشيطان (.....)
- 3- أطيع أبي وأمي ومعلمتي (.....)
- 4- أصلي 6 صلوات في اليوم (.....)

## مادة اللغة العربية

(1) أكمل الحرف الناقص : ( ع - ج - ك )

.....رَاسٌ.

.....قَطِيبٌ.

.....رَسٌ.

(2) كون من الحروف الآتية كلمات:

ج - م - د - س

ق - ف - و

س - ن - م - ي

ي - ج - ر

.....

.....

.....

.....

(3) ضع كل كلمة في الإطار المناسب

- يغسل - كثير - مكتب - بئر - غرس - رداء .

غ
.....
.....

أ
.....
.....

ك
.....
.....

(4) رتب الكلمات التالية :

صغيرة - رضا - يحمل - قفة.

.....

(5) اكتب بخط واضح وجميل :

- فِي الْغَابَةِ أَشْجَارٌ كَثِيرَةٌ.

.....

## تربية علمية والتكنولوجية

### 1) أربط بسهم :

- الببيض .
- الماء .
- البرتقال .
- . مصدر نباتي
- . مصدر حيواني
- . مصدر معدني

### 2) أكمل بالكلمات المناسبة :

- السمع – الذوق – النظر – الشم – اللمس .
- العين (.....)
- الأذن (.....)
- الأنف (.....)
- اللسان (.....)
- اليـد (.....)

### 3 ) صنف المواد التالية:

حليب – خبز – جبن – مشروبات – زيت- ماء – برتقالة – طبشور.

ص ا ب ة	س ا ئ ا ة
.....	.....
.....	.....
.....	.....
.....	.....

## مادة التربية المدنية

### (1) أكمل أيام الأسبوع :

الأحد	.....	.....	.....	.....	.....	.....
-------	-------	-------	-------	-------	-------	-------

### (2) أربط بسهم:

(3)

- |          |               |
|----------|---------------|
| الطبيب . | . يعلم الصغار |
| المعلم . | . ينظم المرور |
| الشرطي . | . يعالج المرض |

### (4) أكمل بالكلمات الآتية :

( المدرسة – المنزل – الشارع )

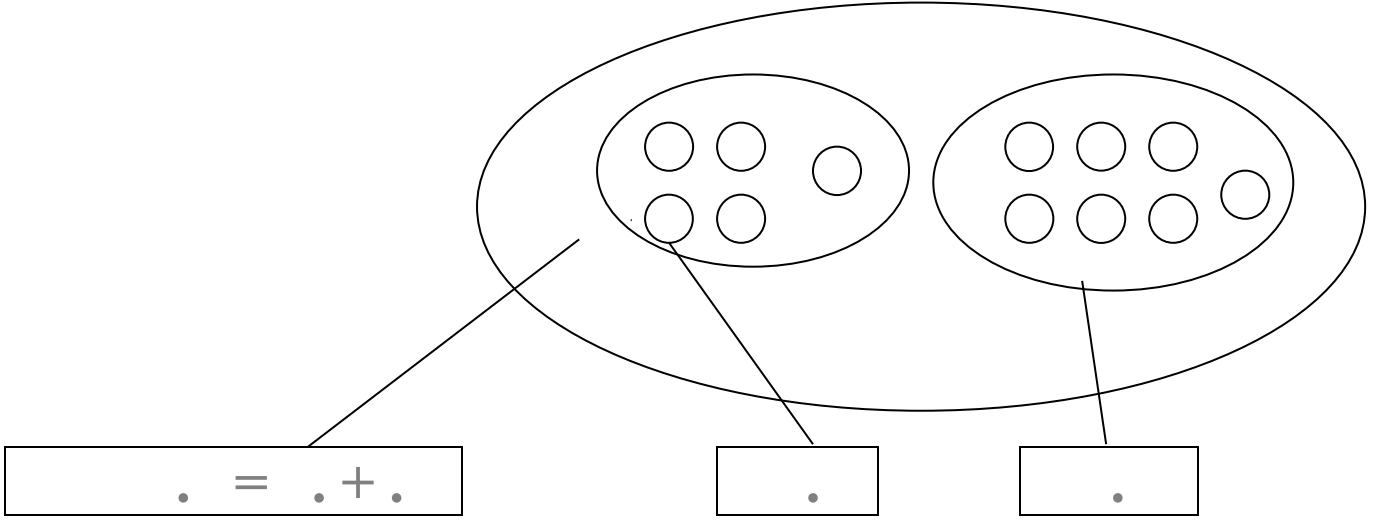
السكين من أخطار .....

الشجار من أخطار.....

اللعب في الطريق من أخطار.....

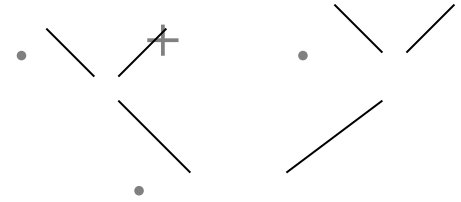
## مادة الرياضيات

(1) أكتب الأعداد المناسبة داخل كل بطاقة

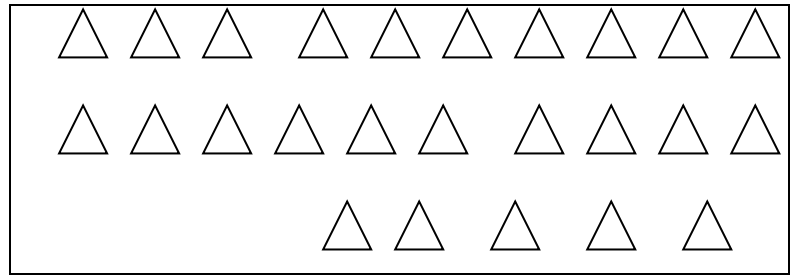


(2) أكمل مايلي:

$$11 + 3 + 0 + 21$$



الوحدات	العشرات
.	.
.	.



(3) أكمل الأعداد الناقصة:

60	.....	...	....	.....	....	....	....	....	....	70
----	-------	-----	------	-------	------	------	------	------	------	----

(4) - أحسب مايلي :

$12 + 1 = .$	$8 + 6 = .$
$19 + 0 = .$	$17 + 5 = .$
	$10 + 10 = .$

--	--	--	--	--	--	--	--	--	--	--	--	--	--	--

(5) - لون أكثر من 10  
خانات

--	--	--	--	--	--	--	--	--	--	--	--	--	--	--

- لون 12 خانة

--	--	--	--	--	--	--	--	--	--	--	--	--	--	--

- لون أقل من 13 خانة

(6) أكمل كتابة الأعداد المناسبة:

	75	
--	----	--

23		
----	--	--

		80
--	--	----

	25	
--	----	--

(7) - رتب الأعداد الآتية تنازليا من الأكبر إلى الأصغر :

12 , 14 , 23 , 19, 8 , 1 , 27 , 25

.	.	.	.	.	.	.	.
---	---	---	---	---	---	---	---