

السنة الدراسية : 2022.2023

واجب منزلي في الرياضيات للأسبوع الثالث من فيفري للسنة ثانية ابتدائي
الفصل الثاني
الأستاذ لشهب يونس

التمرين الأول : أَكْتُبِ الْمَعْلُومَاتِ الْآتِيَةَ فِي الْجَدُولِ :

الْأَدَوَاتُ	الثَّمَنُ
	
	
	
	

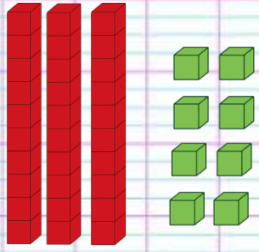
ثَمَنُ عُلْبَةِ الْأَلْوَانِ 90 دِينَارًا

ثَمَنُ الْغِرَاءِ 50 دِينَارًا


ثَمَنُ الْمِبْرَةِ 35 دِينَارًا

ثَمَنُ قَلَمِ الرِّصَاصِ 25 دِينَارًا

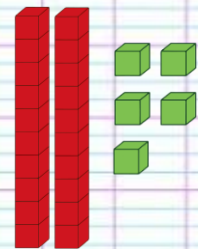
التمرين الثاني : أَكْتُبِ الْعَدَدَ بِاسْتِعْمَالِ الْوَحَدَاتِ وَالْعَشَرَاتِ :



وحدات	عشرات
.....
.....	



وحدات	عشرات
.....
.....	



وحدات	عشرات
.....
.....	

التمرين الثالث : أَلِحِظْ ثُمَّ اكْمِلْ مُتَتَالِيَةَ الْأَعْدَادِ التَّالِيَةِ:

24 26 38

$$24 = 10 + 10 + 4$$

التمرين الرابع : اكْمِلْ مَا يَلِي حَسَبِ الْمِثَالِ :

$$27 = \dots + \dots + \dots$$

$$32 = \dots + \dots + \dots + \dots$$

$$34 = \dots + \dots + \dots + \dots$$

الوضعية:

لَدَى فَاطِمَةَ 30 وَرْدَةً وَأَعْطَتْ لِصَدِيقَتِهَا 6 وَرُودٍ فِي عِيدِ مِيلَادِهَا.

كَمْ وَرْدَةً بَقِيَتْ لَدَى فَاطِمَةَ ؟

تنشر الإجابات على قناتي في اليوتيوب وأيضا حلول التقويمات والإختبارات



اسم القناة / الأستاذ لشهب يونس

رابط القناة للاشتراك

<https://www.youtube.com/channel/UCLAuplp2fGUjoyR2DhvFrOg>



للتواصل مع صفحتنا في الفيسبوك

اسم الصفحة / صفحة الرفيق للتعليم للأستاذ لشهب يونس

رابط الصفحة للاشتراك

<https://www.facebook.com/RafikEducation/>