



اللقب : .....

الاسم : .....

عبرة الابتدائي

مراجعة شاملة

قسم السنة الأولى ابتدائي

العام الدراسي 2023/2022

السند :

أَرَادَتْ سُعَادُ أَنْ تُقَدِّمَ لِأُمِّهَا هَدِيَّةً بِمُنَاسَبَةِ الْعِيدِ اشْتَرَتْ سُعَادُ عُلْبَةَ حَلَوِيَّاتٍ مِنَ الدُّكَّانِ ، وَفِي صَبَاحِ يَوْمِ الْعِيدِ قَامَتْ سُعَادُ مُبَكَّرًا مِنْ فِرَاشِهَا وَقَدَّمَتْ لِأُمِّهَا عُلْبَةَ الْحَلَوِيَّاتِ فَرِحَتْ بِهَا وَقَالَتْ لَهَا : ” هَذِهِ هَدِيَّةٌ جَمِيلَةٌ . “

الأسئلة :

← ماذا اشترت سعاد لأُمِّها ؟


← متى قدّمت سعاد عُلْبَةَ الْحَلَوِيَّاتِ لِأُمِّهَا ؟


← أَكْمِلْ مَلَأَ الْجَدْوَلَ

م	س	هـ	ف	ح

استخرج من السند :

لام شمسيّة : .....

لام قمرية : .....

















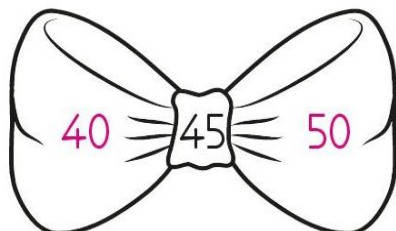
← أضع : ؟ / ! في المكان المناسب

ما أروع العيد ..... ماذا قدّمت سعاد لِأُمِّهَا ...

هل أنت صائم ..... ما أجمل فُستائكِ .....






← أخصر الأعداد بين عشرين متتاليتين





← أقارن الأعداد بالرمز المناسب : < , = , >

		
♥ 25 ☁ 36	♥ 73 ☁ 73	♥ 35 ☁ 75
♥ 48 ☁ 27	♥ 42 ☁ 63	♥ 29 ☁ 92
♥ 35 ☁ 35	♥ 20 ☁ 82	♥ 38 ☁ 38
♥ 64 ☁ 27	♥ 14 ☁ 10	♥ 46 ☁ 64
♥ 100 ☁ 96	♥ 25 ☁ 34	♥ 71 ☁ 17
♥ 84 ☁ 82	♥ 43 ☁ 28	♥ 63 ☁ 36
♥ 73 ☁ 65	♥ 57 ☁ 63	♥ 95 ☁ 85
♥ 33 ☁ 21	♥ 82 ☁ 28	♥ 23 ☁ 32
♥ 17 ☁ 66	♥ 77 ☁ 66	♥ 58 ☁ 85
♥ 58 ☁ 24	♥ 30 ☁ 60	♥ 79 ☁ 97
♥ 89 ☁ 92	♥ 25 ☁ 52	♥ 94 ☁ 49



← أكمل الشريط العددي :

	29						
	48			45			
	56						
	35			32			
	19						

← أكمل بالعدد الذي يلي والذي يسبق

25		27		58		69		
		20	25			15		
	45			14			20	
	12			30			17	

← أكتب الأعداد بالحروف

..... :15  
..... :39  
..... :48

قسم السنة الأولى ابتدائي  
العام الدراسي 2023/2022

عابرة الابتدائي  
مراجعة شاملة

اللقب: .....  
الاسم: .....



أنجز العمليات الآتية :

$\begin{array}{ c c } \hline 5 & 5 \\ \hline 3 & 4 \\ \hline \end{array}$	$\begin{array}{ c c } \hline 1 & 6 \\ \hline 5 & 3 \\ \hline \end{array}$	$\begin{array}{ c c } \hline 6 & 2 \\ \hline 1 & 1 \\ \hline \end{array}$	$\begin{array}{ c c } \hline 4 & 2 \\ \hline 3 & 5 \\ \hline \end{array}$	$\begin{array}{ c c } \hline 3 & 3 \\ \hline 4 & 3 \\ \hline \end{array}$
---	---	---	---	---

$\begin{array}{ c c } \hline 7 & 9 \\ \hline 1 & 0 \\ \hline \end{array}$	$\begin{array}{ c c } \hline 6 & 2 \\ \hline 2 & 5 \\ \hline \end{array}$	$\begin{array}{ c c } \hline 2 & 8 \\ \hline 5 & 1 \\ \hline \end{array}$	$\begin{array}{ c c } \hline 7 & 0 \\ \hline 2 & 6 \\ \hline \end{array}$	$\begin{array}{ c c } \hline 1 & 7 \\ \hline 8 & 2 \\ \hline \end{array}$
---	---	---	---	---

$\begin{array}{ c c } \hline 8 & 4 \\ \hline 1 & 2 \\ \hline \end{array}$	$\begin{array}{ c c } \hline 6 & 6 \\ \hline 2 & 2 \\ \hline \end{array}$	$\begin{array}{ c c } \hline 4 & 0 \\ \hline 2 & 6 \\ \hline \end{array}$	$\begin{array}{ c c } \hline 5 & 4 \\ \hline 2 & 2 \\ \hline \end{array}$	$\begin{array}{ c c } \hline 3 & 8 \\ \hline 4 & 1 \\ \hline \end{array}$
---	---	---	---	---

$\begin{array}{ c c } \hline 5 & 1 \\ \hline 2 & 8 \\ \hline \end{array}$	$\begin{array}{ c c } \hline 3 & 6 \\ \hline 6 & 3 \\ \hline \end{array}$	$\begin{array}{ c c } \hline 7 & 4 \\ \hline 2 & 4 \\ \hline \end{array}$	$\begin{array}{ c c } \hline 3 & 9 \\ \hline 4 & 0 \\ \hline \end{array}$	$\begin{array}{ c c } \hline 2 & 3 \\ \hline 3 & 6 \\ \hline \end{array}$
---	---	---	---	---

$\begin{array}{ c c } \hline 4 & 7 \\ \hline 1 & 2 \\ \hline \end{array}$	$\begin{array}{ c c } \hline 1 & 5 \\ \hline 3 & 4 \\ \hline \end{array}$	$\begin{array}{ c c } \hline 5 & 2 \\ \hline 2 & 4 \\ \hline \end{array}$	$\begin{array}{ c c } \hline 2 & 7 \\ \hline 7 & 1 \\ \hline \end{array}$	$\begin{array}{ c c } \hline 4 & 0 \\ \hline 4 & 0 \\ \hline \end{array}$
---	---	---	---	---