

السنة 1 ابتدائي

ورقة عمل




الأستاذة عرفي أمال

مدرسة : .....

نصف عدد أصغر من 20

الاسم و اللقب: .....

النشاط 01 :أكمل رسم النصف حسب المثال







نصف 8 هو 4

نصف 12 هو ...

نصف 4 هو ...

نصف 6 هو ...





نصف 16 هو ...

نصف 2 هو ...







نصف 10 هو ...

نصف 14 هو ...

النشاط 02 :أحوط نصف عدد الأشياء




النشاط 03 : ألون نصف عدد الأشياء

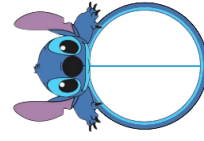


|                     |                                |
|---------------------|--------------------------------|
| الاستاذة عرفى آمال  | السنة<br>ابتدائي               |
| الاسم واللقب: ..... | ورقة عمل<br>نصف عدد أصغر من 20 |
| مدرسة : .....       |                                |

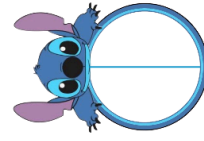
### النشاط 01 :أكمل رسم النصف حسب المثال



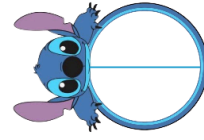
نصف 8 هو 4



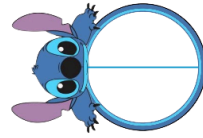
نصف 12 هو ...



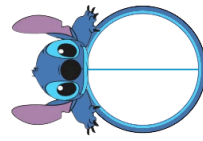
نصف 4 هو ...



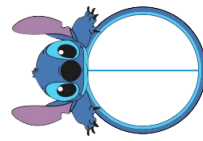
نصف 6 هو ...



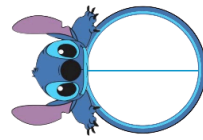
نصف 16 هو ...



نصف 2 هو ...





نصف 10 هو ...









نصف 14 هو ...

### النشاط 02 :أحط نصف عدد الأشياء

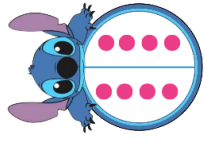


### النشاط 03 : ألون نصف عدد الأشياء

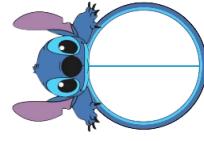


|                     |                                |
|---------------------|--------------------------------|
| الاستاذة عرفى آمال  | السنة<br>ابتدائي               |
| الاسم واللقب: ..... | ورقة عمل<br>نصف عدد أصغر من 20 |
| مدرسة : .....       |                                |


### النشاط 01 :أكمل رسم النصف حسب المثال



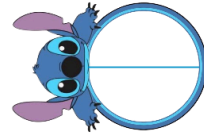
نصف 8 هو 4



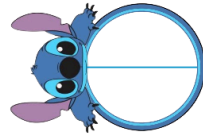
نصف 12 هو ...



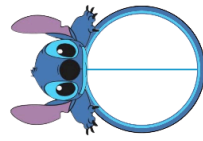
نصف 4 هو ...




نصف 6 هو ...



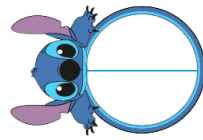
نصف 16 هو ...



نصف 2 هو ...




نصف 10 هو ...



نصف 14 هو ...

### النشاط 02 :أحط نصف عدد الأشياء



### النشاط 03 : ألون نصف عدد الأشياء

