








المعلّمة
نقاز خديجة

التّعليم على مرصوفة

السّنة الأولى 1









لاحظ المرصوفة ثمّ ضع حيّزا حول الإجابة الصحيحة.

7				
6				
5				
4				
3				
2				
1				
	1	2	3	4

عمود

- يوجد في السّطر 7 و العمود 4  
- يوجد في السّطر 6 و العمود 2  
- يوجد في السّطر 4 و العمود 1  
- يوجد في السّطر 1 و العمود 4  
- يوجد في السّطر 3 و العمود 3  

لاحظ واستخرج المعطيات من المرصوفة.

7				
6				
5				
4				
3				
2				
1				
	1	2	3	4




عمود

- في السّطر..... و العمود..... 
- في السّطر..... و العمود..... 
- في السّطر..... و العمود..... 
- في السّطر..... و العمود..... 
- في السّطر..... و العمود..... 
- في السّطر..... و العمود..... 
- في السّطر..... و العمود..... 
- في السّطر..... و العمود..... 

5			
4			
3			
2			
1			
	1	2	3

عمود

عيّن الأشكال الثّالية على المرصوفة.

- أرسم  في السطر 2 و العمود 4 .
- أرسم  في السطر 4 و العمود 2 .
- أرسم  في السطر 3 و العمود 5 .

المعلّمة نقاز خديجة





المعلمة
نقاز خديجة

التعليم على مر صوفية

السنة الأولى



لاحظ المرصوفة ثم ضع جيزا حول الإجابة الصحيحة.

المعلمة نقاز خديجة

7							
6							
5							
4							
3							
2							
1							

→ سطر
↑ عمود

يوجد في السطر 7 و العمود 4		4
يوجد في السطر 6 و العمود 2		2
يوجد في السطر 4 و العمود 1		1
يوجد في السطر 1 و العمود 4		4
يوجد في السطر 3 و العمود 3		3

لاحظ واستخرج المعطيات من المرصوفة.

المعلمة نقاز خديجة

7							
6							
5							
4							
3							
2							
1							

→ سطر
↑ عمود

في السطر.....و العمود	
في السطر.....و العمود	
في السطر.....و العمود	
في السطر.....و العمود	
في السطر.....و العمود	
في السطر.....و العمود	
في السطر.....و العمود	

عين الأشكال التالية على المرصوفة.

المعلمة نقاز خديجة

5							
4							
3							
2							
1							

→ سطر
↑ عمود

- أرسم ▲ في السطر 2 و العمود 4.
- أرسم ■ في السطر 4 و العمود 2.
- أرسم ● في السطر 3 و العمود 5.



المعلمة
نقاز خديجة

التعليم على مر صوفية

السنة الأولى



لاحظ المرصوفة ثم ضع جيزا حول الإجابة الصحيحة.

المعلمة نقاز خديجة

7							
6							
5							
4							
3							
2							
1							

→ سطر
↑ عمود

يوجد في السطر 7 و العمود 4		4
يوجد في السطر 6 و العمود 2		2
يوجد في السطر 4 و العمود 1		1
يوجد في السطر 1 و العمود 4		4
يوجد في السطر 3 و العمود 3		3

لاحظ واستخرج المعطيات من المرصوفة.

المعلمة نقاز خديجة

7							
6							
5							
4							
3							
2							
1							

→ سطر
↑ عمود

في السطر.....و العمود	
في السطر.....و العمود	
في السطر.....و العمود	
في السطر.....و العمود	
في السطر.....و العمود	
في السطر.....و العمود	
في السطر.....و العمود	

عين الأشكال التالية على المرصوفة.

المعلمة نقاز خديجة

5							
4							
3							
2							
1							

→ سطر
↑ عمود

- أرسم ▲ في السطر 2 و العمود 4.
- أرسم ■ في السطر 4 و العمود 2.
- أرسم ● في السطر 3 و العمود 5.

