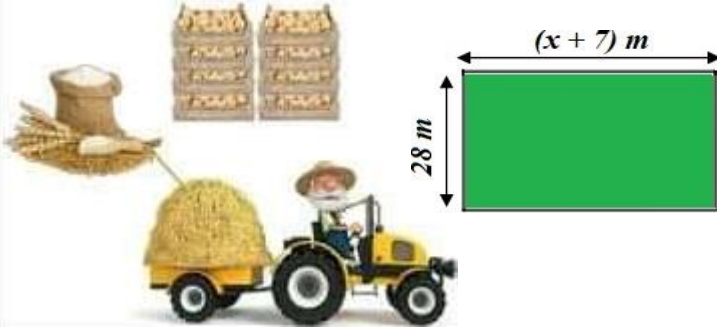


الوضعية الانطلاقية للمقطع الخامس

يملك عمي أحمد حقل على شكل مستطيل مساحته $5800m^2$ ، أراد أن يزرع $\frac{3}{10}$ من مساحته بطاط ، و يزرع خمسة أعشار قمحا ، والباقي شعير.



- 1- أوجد الكسر الذي يمثل مساحة الشعير.
- 2- أوجد المساحة المخصصة كل من البطاطا ، القمح والشعير.
- 3- عبر بدلالة x عن محيط الحقل.

النقط A ، B ، C و D حدود القطعة الخاصة بالحقل.

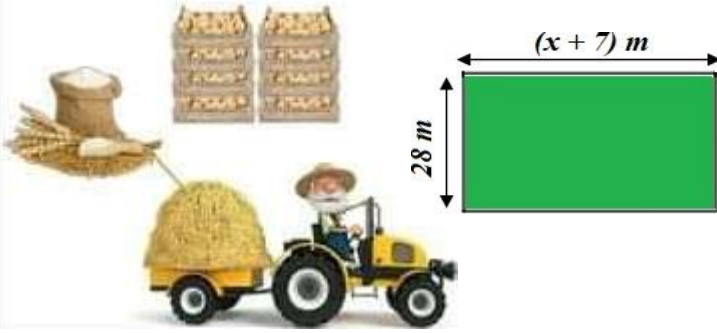
4- علم على معلم متعامد للمستوي النقاط التالية:

A (3;3) ؛ B(-3;3) ؛ C(-3;-1) ؛ D(3;-1)

- 5- يريد عمي أحمد حفر بئر الممثل في نقطة تقاطع قطري المستطيل.
- ساعده في تحديد إحداثيتي النقطة M موقع البئر.

الوضعية الانطلاقية للمقطع الخامس

يملك عمي أحمد حقل على شكل مستطيل مساحته $5800m^2$ ، أراد أن يزرع $\frac{3}{10}$ من مساحته بطاط ، و يزرع خمسة أعشار قمحا ، والباقي شعير.



- 1- أوجد الكسر الذي يمثل مساحة الشعير.
- 2- أوجد المساحة المخصصة كل من البطاطا ، القمح والشعير.
- 3- عبر بدلالة x عن محيط الحقل.

النقط A ، B ، C و D حدود القطعة الخاصة بالحقل.

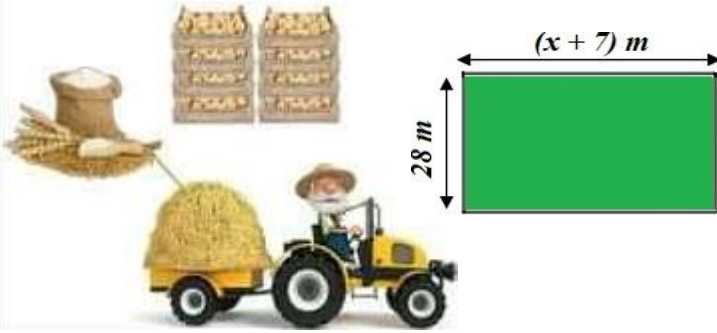
4- علم على معلم متعامد للمستوي النقاط التالية:

A (3;3) ؛ B(-3;3) ؛ C(-3;-1) ؛ D(3;-1)

- 5- يريد عمي أحمد حفر بئر الممثل في نقطة تقاطع قطري المستطيل.
- ساعده في تحديد إحداثيتي النقطة M موقع البئر.

الوضعية الانطلاقية للمقطع الخامس

يملك عمي أحمد حقل على شكل مستطيل مساحته $5800m^2$ ، أراد أن يزرع $\frac{3}{10}$ من مساحته بطاط ، و يزرع خمسة أعشار قمحا ، والباقي شعير.



- 1- أوجد الكسر الذي يمثل مساحة الشعير.
- 2- أوجد المساحة المخصصة كل من البطاطا ، القمح والشعير.
- 3- عبر بدلالة x عن محيط الحقل.

النقط A ، B ، C و D حدود القطعة الخاصة بالحقل.

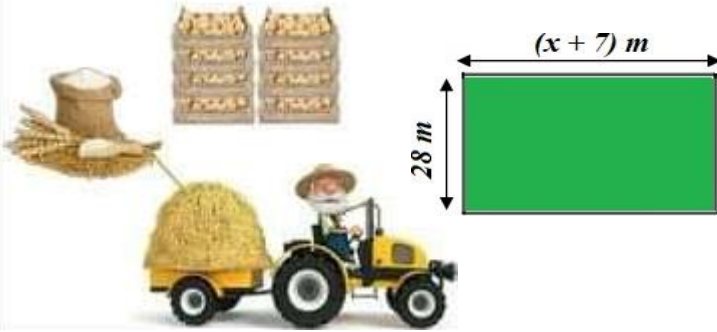
4- علم على معلم متعامد للمستوي النقاط التالية:

A (3;3) ؛ B(-3;3) ؛ C(-3;-1) ؛ D(3;-1)

- 5- يريد عمي أحمد حفر بئر الممثل في نقطة تقاطع قطري المستطيل.
- ساعده في تحديد إحداثيتي النقطة M موقع البئر.

الوضعية الانطلاقية للمقطع الخامس

يملك عمي أحمد حقل على شكل مستطيل مساحته $5800m^2$ ، أراد أن يزرع $\frac{3}{10}$ من مساحته بطاط ، و يزرع خمسة أعشار قمحا ، والباقي شعير.



- 1- أوجد الكسر الذي يمثل مساحة الشعير.
- 2- أوجد المساحة المخصصة كل من البطاطا ، القمح والشعير.
- 3- عبر بدلالة x عن محيط الحقل.

النقط A ، B ، C و D حدود القطعة الخاصة بالحقل.

4- علم على معلم متعامد للمستوي النقاط التالية:

A (3;3) ؛ B(-3;3) ؛ C(-3;-1) ؛ D(3;-1)

- 5- يريد عمي أحمد حفر بئر الممثل في نقطة تقاطع قطري المستطيل.
- ساعده في تحديد إحداثيتي النقطة M موقع البئر.