



مراجعة شاملة الفصل الدراسي الاول عطلة الشتاء السنة الأولى

لغة
عربية



أربط بين الصورة والكلمة المناسبة

جَمَلٌ

حَاسُوبٌ

دَجَاجَةٌ

رَجُلٌ

هَذُودٌ

حِصَانٌ

أضع كل كلمة في مكانها المناسب

عَيْنٌ - ثَوْتُ - هَتَافٌ - حَيَوَانٌ - سَاعَةٌ - شَلَالٌ - ضَابِطٌ - صُورٌ - مَسْجِدٌ - هَذُودٌ - رَسُولٌ - دُمِيَّةٌ -

لَيْمُونٌ بَيْتٌ

هـ

ت

ل

د

ر

ب

م

ض

ص

ش

س

ع

ح

ج

أكمل بالمقطع المناسب



سَيَّارَ ...

دَ....جَةٌ

سَاعَةٌ....

عَ...لٌ

شَ.....رَةٌ

عَلَّمَ...

اجزئ الكلمات الى مقاطع صوتية

السكون يتبع الحركة َ ُ ِ ً

../../..

شَمْسٌ

../../..

هَلَالٌ

../../..

لُعْبَةٌ

../../..

جَمِيلٌ

../../..

جَبَلٌ

../../..

ضَابِطٌ

../../..

عُصْفُورٌ

../../..

مَلْعَبٌ

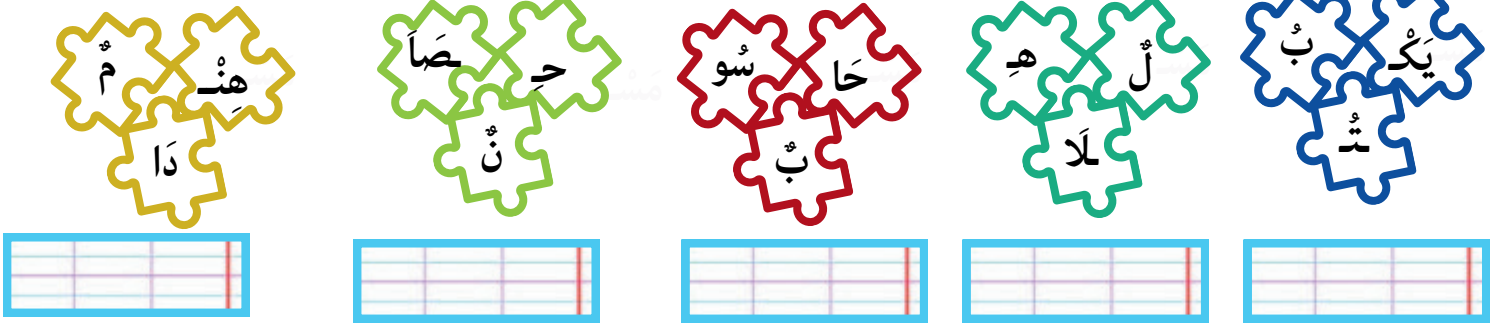
والمدود لا تقطع لا و ي



ألون بالأخضر عندما تسمع صوت الميم و بالأصفر عندما تسمع صوت العين وبالأصفر عندما تسمع صوت ل





أرتب ثم أدمج المقاطع لأحصل على كلمة



أكمل بالصيغة المناسبة





..... رَسَمْتُ زَهْرَةً البيوتُ في القرية
..... كَتَبْتُ الدرس أزوُرُ بيتَ جدي وَ عَدَا أَلْعَبُ مَعَ أَصْدِقَائِي

أرتب الكلمات لأتحصل على جمل مفيدة





أعد وأكتب العدد المناسب



أحسب مايلي

$$5 + 4 = ..$$

$$9 + 1 = ..$$

$$4 + 2 = ..$$

$$6 + 3 = ..$$

$$3 - 2 = ..$$

$$10 - 6 = ..$$

$$8 - 3 = ..$$

$$9 - 5 = ..$$

أكمل بالرقم المناسب

$$... + 3 = 6$$

$$... + 2 = 8$$

$$3 + ... = 10$$

$$6 + = 9$$

أربط بما يناسب

13

16

14

17

سِتَّةَ عَشَرَ

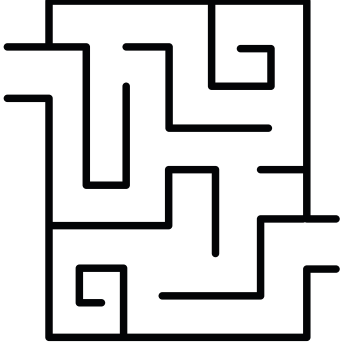
أَرْبَعَةَ عَشَرَ

سَبْعَةَ عَشَرَ

ثَلَاثَةَ عَشَرَ



أرسم مسلك الدجاجة الى ابنها الصوص



رتب باستعمال الارقام من الاكبر الى الأصغر



يَسَارَ

يَمِينَ

فَوْقَ

تَحْتَ

أكمل بالعبارات التالية

العَصِيرُ الطاولة .

الأب الولد .

القِطَّةُ الطاولة .

الأم الولد .




وضعية إدماجية

عِنْدَ إِيَادَ 5 دَنَانِيرَ زَادَهُ أَبُوهُ 5 دَنَانِيرُ

كَمْ أَصْبَحَ عِنْدَ إِيَادَ ؟

..... =







مراجعة شاملة الفصل الدراسي الاول عطلة الشتاء السنة الأولى

الأستاذ أمين للإبتدائي



أرتب الأعداد التالية من الأصغر الى الأكبر



ألون العملية و نتيجتها بنفس اللون

19

سِتَّةَ عَشْرَ

$10 + 4$

16

أَرْبَعَةَ عَشْرَ

$11 + 5$

14

تِسْعَةَ عَشْرَ

$12 + 7$

لون الحلزون الرابع بالأحمر و الحلزون التاسع باللون الأخضر



أكمل الشريط العددي



هات ضعف ونصف الاعداد التالية

الضعف
العدد	2	4	6	8	10
النصف



إربط بما يناسب

- أَقُولُ بَعْدَ الْأَكْلِ

بِسْمِ اللَّهِ

- أَقُولُ قَبْلَ الْأَكْلِ

- أَقُولُ قَبْلَ الْوُضُوءِ

- أَقُولُ بَعْدَ الْعَطْسِ

- أَقُولُ بَعْدَ شُرْبِ الْمَاءِ

الْحَمْدُ لِلَّهِ

- أَقُولُ عِنْدَ الدُّخُولِ إِلَى الْمَسْجِدِ

أكمل الفراغات بما يناسب

التَّحِيَّةُ - صَبَاحُ الْخَيْرِ - مَسَاءُ الْخَيْرِ - بِسْمِ اللَّهِ - الْحَمْدُ لِلَّهِ

- أَقُولُ فِي الصَّبَاحِ ، أَقُولُ فِي الْمَسَاءِ

- أَنَا طِفْلٌ مُهَذَّبٌ أَلْقِي ، أَقُولُ قَبْلَ الْأَكْلِ

- أَقُولُ عِنْدَ دُخُولِ الْمَسْجِدِ ، أَقُولُ بَعْدَ الْأَكْلِ

إربط كل آية بسورتها

سُورَةُ الْفَاتِحَةِ

الْحَمْدُ لِلَّهِ رَبِّ الْعَالَمِينَ

مَنْ شَرَّ الْوَسْوَاسِ الْخَنَاسِ

لَمْ يَلِدْ وَلَمْ يُولَدْ

مِنَ الْجَنَّةِ وَالنَّاسِ

قُلْ هُوَ اللَّهُ أَحَدٌ

إِلَهَ النَّاسِ

سُورَةُ النَّاسِ

سُورَةُ الْإِحْلَاصِ

رتب الجملة المشوشة

غَيْرِي

طِفْلٌ

مُهَذَّبٌ

أَنَا

أَسْتَأْذِنُ

أكمل الفراغات بما يناسب

الْبِرُّ - الإِثْمُ - التَّقْوَى - الْعُدْوَانُ .

قَالَ رَسُولُ اللَّهِ صَلَّى اللَّهُ عَلَيْهِ وَسَلَّمَ

وَتَعَاوَنُوا عَلَى وَ وَلَا تَعَاوَنُوا عَلَى وَ

حوط على الصورة التي تدل على طاعة الوالدين بالأخضر



ضع (ص) أمام الاجابة الصحيحة و (خ) امام الاجابة الخاطئة

عِنْدَ دُخُولِ إِلَى بُيُوتِ النَّاسِ لَا أَسْتَأْذِنُ.

عِنْدَ دُخُولِ إِلَى الْمَسْجِدِ أَقُولُ بِسْمِ اللَّهِ.

عِنْدَ الْعَطْسِ أَقُولُ الْحَمْدُ لِلَّهِ.

أَقُولُ عِنْدَ التَّحِيَّةِ وَعَلَيْكُمْ السَّلَام.