





ورقة عمل الرياضيات رقم 1

النشاط 1: أربط بالعدد المناسب:




5

3




8

4

النشاط 2: لون الحيوان الذي أمام الدب بالأحمر والذي وراءه بالأخضر، والذي بجانبه بالأصفر:



النشاط 3: لون الشريط الأطول بالأزرق والشريط الأقصر بالأحمر.

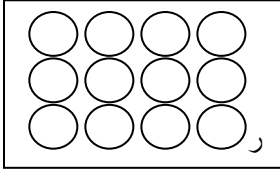


النشاط 4: لاحظ الجدول وأكمل ملء الفراغ.

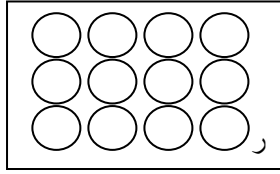
.....

ورقة عمل الرياضيات رقم 2

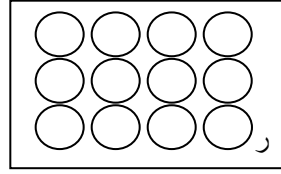
النشاط 1: لَوْنُ الْقُرَيْصَاتِ بِقَدَرِ الْعَدَدِ الْمَكْتُوبِ تَحْتَ الْبِطَاقَةِ:



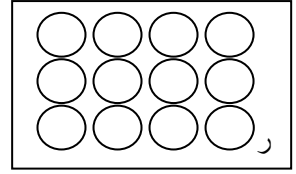
7



10



4

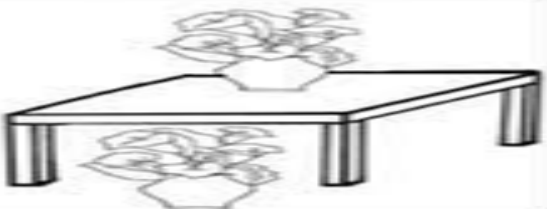


6

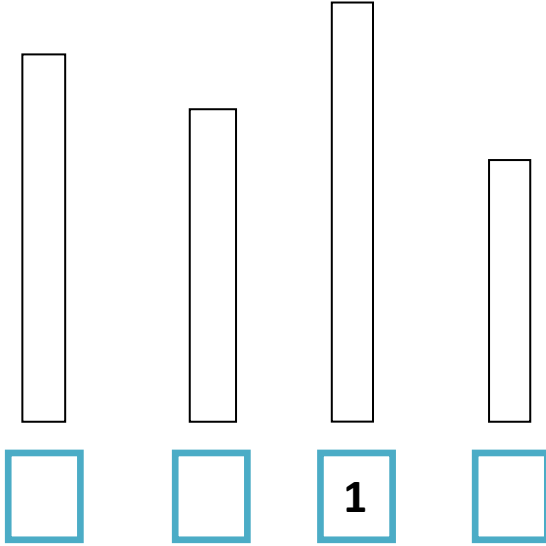
النشاط 2:

- لَوْنُ الْحَيَوَانِ الَّذِي عَلَى يَمِينِ الْوَلَدِ:

- أَلَوْنُ الْمِزْهَرِيَّةِ الَّتِي عَلَى الطَّائِلَةِ.



النشاط 3: أَكْمِلْ تَرْتِيبَ الْأَشْرَاطِ.



النشاط 4: لَاحِظْ الصُّورَةَ وَأَكْمِلْ مَلَأَ الْفَرَاغِ.



عدد الكريات الحمراء هو:


..... + =

ورقة عمل الرياضيات رقم 3

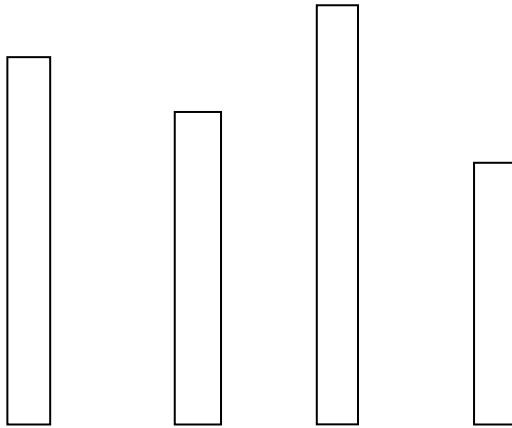
النشاط 1: أْحْسُبْ:

$5 + 3 = \dots$	$3 + 2 = \dots$	$6 + 4 = \dots$	$7 + 2 = \dots$	$8 + 1 = \dots$
$5 - 3 = \dots$	$3 - 2 = \dots$	$6 - 2 = \dots$	$7 - 2 = \dots$	$8 - 1 = \dots$

النشاط 2: لَوْن طَرِيقَ الْبَنْتِ لِلْوُصُولِ إِلَى الْكُتُبِ:



النشاط 3: لَوْن الْأَشْرَاطَةَ مِنَ الْأَقْصَرِ إِلَى الْأَطْوَلِ:



النشاط 4: لَاحِظْ وَأَكْمِلْ مَلَأَ الْفَرَاغِ.



$9 = \dots + \dots$



$9 = \dots + \dots$



$9 = \dots + \dots$