



1- ماهو عدد الحيوانات في المزرعة؟  
- لون العدد على جدول الأعداد.



1	2	3	4
5	6	7	8
9	10	11	12
13	14	15	16
17	18	19	20

2: أكمل بالعدد المناسب:

عدد الأبقار: ..... عدد الصيغان: ..... عدد الدجاجات: .....

- عدّ الأدوات المدرسيّة:

	أقلام التلوين
	المساطر
	الممحاة
	الغراء اللاصق
	المبراة
	مجموع كل الأدوات



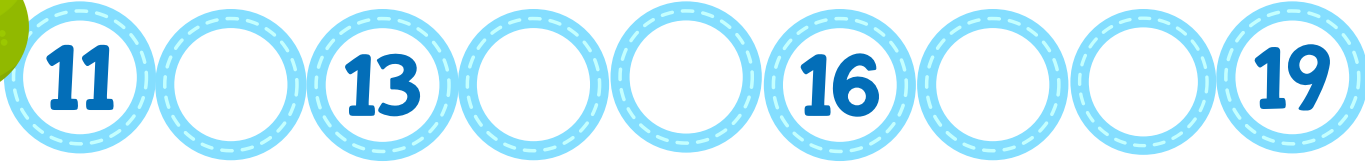
- أحفظ الأعداد من 10 إلى 19 :





أكمل سلسلة الأعداد التالية:

النشاط 1:



أعدّ وأربط بالعدد المناسب:

النشاط 2:



19

12

18

15

نقاز خديجة

نقاز خديجة

أعدّ وأشطب الزائد:

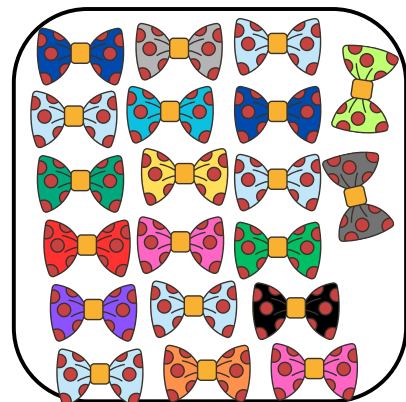
النشاط 3:



14



11




19





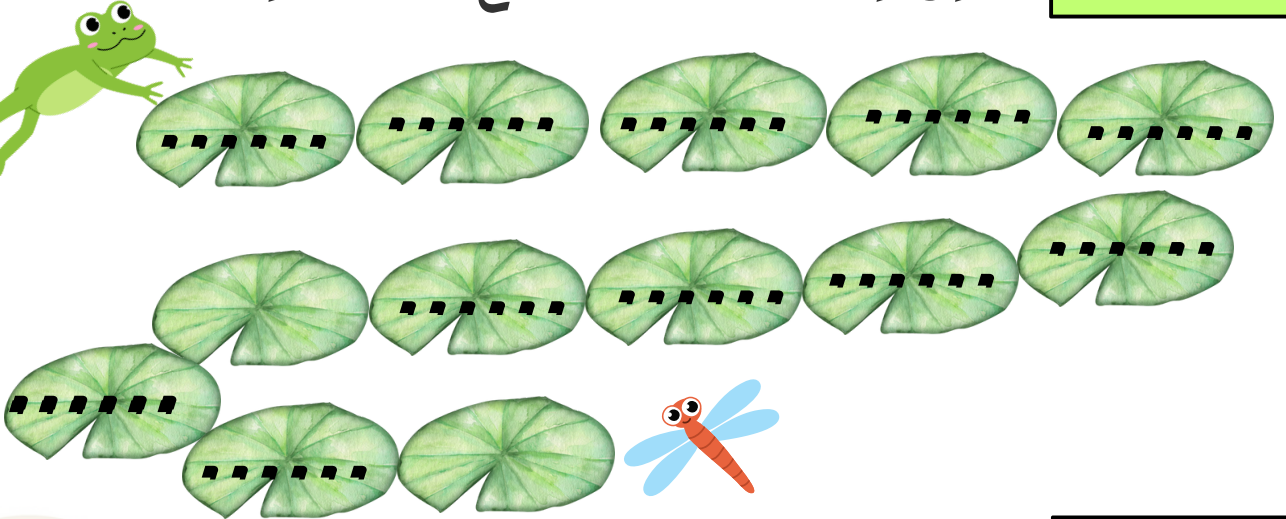
أكمل سلسلة الأعداد:

النشاط 1:



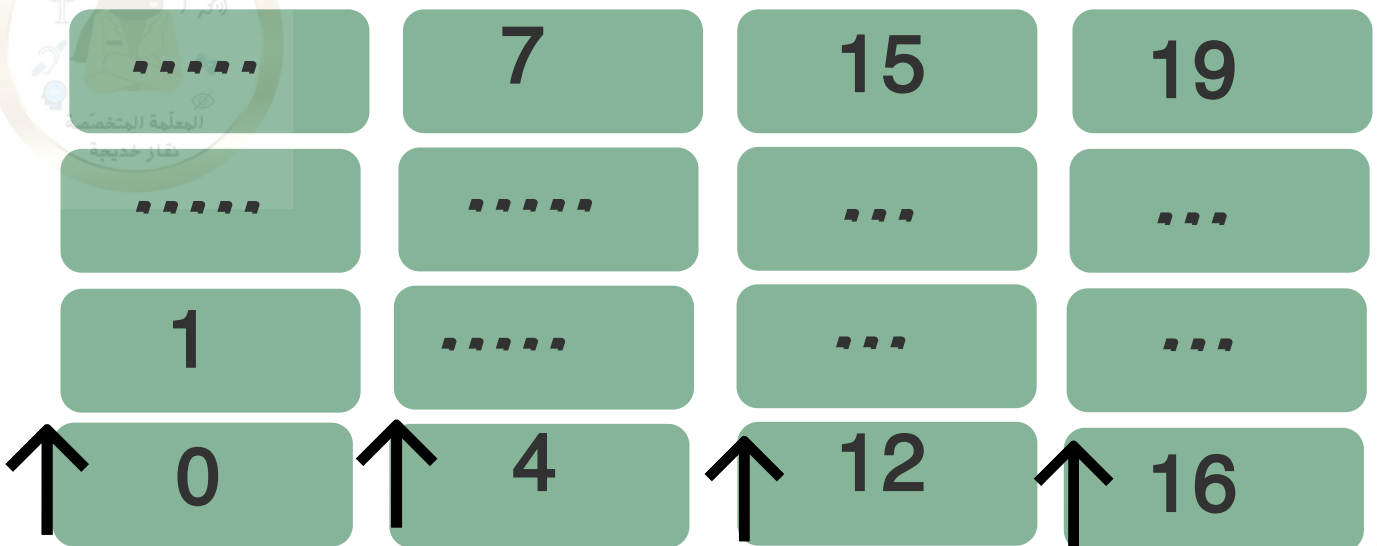
أكمل كتابة مسار الضفدع إلى طعامه.

النشاط 2:



أكمل ترتيب الأعداد تصاعديًا:

النشاط 3:





اربط كل رقم وعدد بكتابتة:

ثمانية عشر

14

تسعة

13

عشرة

9

أحد عشر

12

أربعة عشر

10

ثلاثة عشر

11

اثنا عشر

19

سبعة عشر

16

تسعة عشر

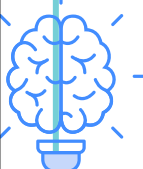
15

خمس عشر

17

ستة عشر

18



نقاز خديجة

نقاز خديجة







الاستاذة  
نفاز خديجة

الأعداد من 0 إلى 19

السنة الأولى  
ابتدائي



1	2	3	4
5	6	7	8
9	10	11	12
13	14	15	16
17	18	19	20

1- ماهو عدد الحيوانات في المزرعة؟  
- لون العدد على جدول الأعداد.

2: أكمل بالعدد المناسب:


عدد الأبقار: ..... عدد الصيوان: ..... عدد الدجاجات: .....



أقلام التلوين	
المساطر	
الممحاة	
الفراء اللاصق	
المبراة	
مجموع كل الأدوات	

- عد الأدوات المدرسية:

- أحفظ الأعداد من 10 إلى 19 :



نفاز خديجة

نفاز خديجة

نفاز خديجة



الاستاذة  
نفاز خديجة

الأعداد من 0 إلى 19

السنة الأولى  
ابتدائي



1	2	3	4
5	6	7	8
9	10	11	12
13	14	15	16
17	18	19	20

1- ماهو عدد الحيوانات في المزرعة؟  
- لون العدد على جدول الأعداد.

2: أكمل بالعدد المناسب:


عدد الأبقار: ..... عدد الصيوان: ..... عدد الدجاجات: .....



أقلام التلوين	
المساطر	
الممحاة	
الفراء اللاصق	
المبراة	
مجموع كل الأدوات	

- عد الأدوات المدرسية:

- أحفظ الأعداد من 10 إلى 19 :



نفاز خديجة

نفاز خديجة

نفاز خديجة



الاستاذة  
نقاز خديجة

الأعداد من 0 إلى 19

السنة الأولى  
ابتدائي

أكمل سلسلة الأعداد التالية:

النشاط 1:



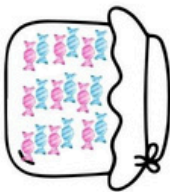

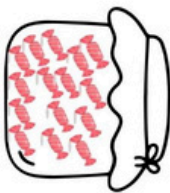
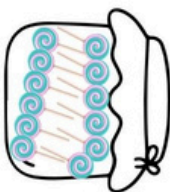
11

13

16

19

النشاط 2: أعدد وأربط بالعدد المناسب:



نقاز خديجة

19


12

18

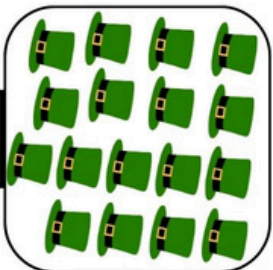
15

النشاط 3: أعدد وأشطّب الزرّائد:

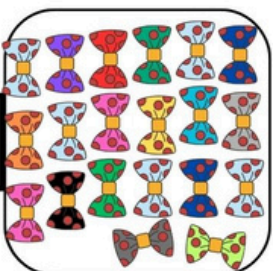
نقاز خديجة



14



11



19

نقاز خديجة



الاستاذة  
نقاز خديجة

الأعداد من 0 إلى 19

السنة الأولى  
ابتدائي

أكمل سلسلة الأعداد التالية:

النشاط 1:



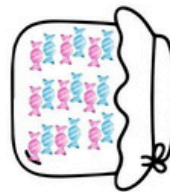
11

13

16

19

النشاط 2: أعدد وأربط بالعدد المناسب:



نقاز خديجة

19

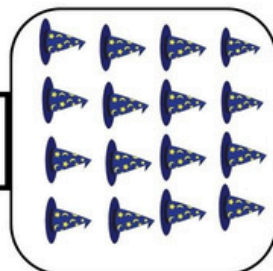
12

18

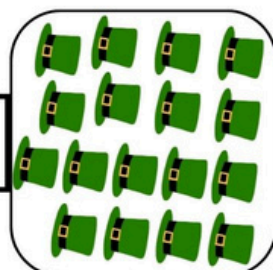
15

النشاط 3: أعدد وأشطّب الزرّائد:

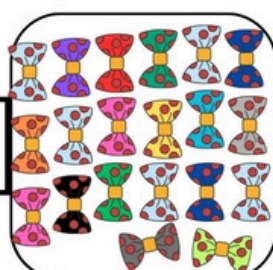
نقاز خديجة



14



11



19

نقاز خديجة






الأستاذة  
نفاذ خديجة

الأعداد من 0 إلى 19

السنة الأولى  
ابتدائي

النشاط 1: أكمّل سلسلة الأعداد:

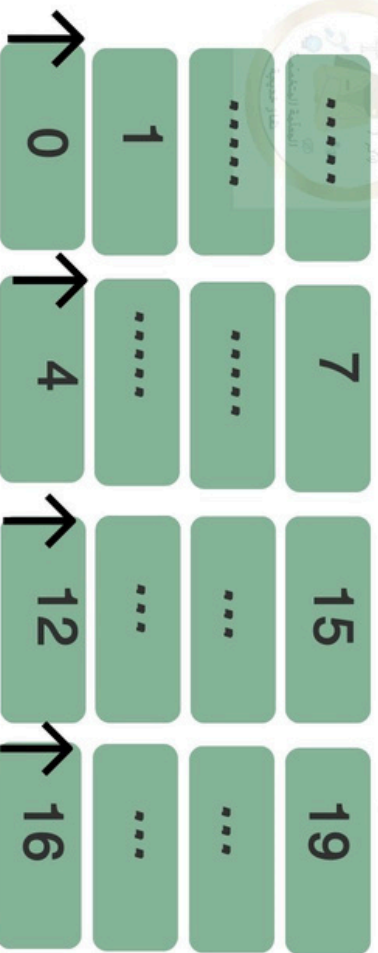


النشاط 2: أكمّل كتابّة فِسار الضفدع إلى طعاهم.



نفاذ خديجة

النشاط 3: أكمّل ترتيب الأعداد تصاعديًا:



نفاذ خديجة




الأستاذة  
نفاذ خديجة

الأعداد من 0 إلى 19

السنة الأولى  
ابتدائي

النشاط 1: أكمّل سلسلة الأعداد:

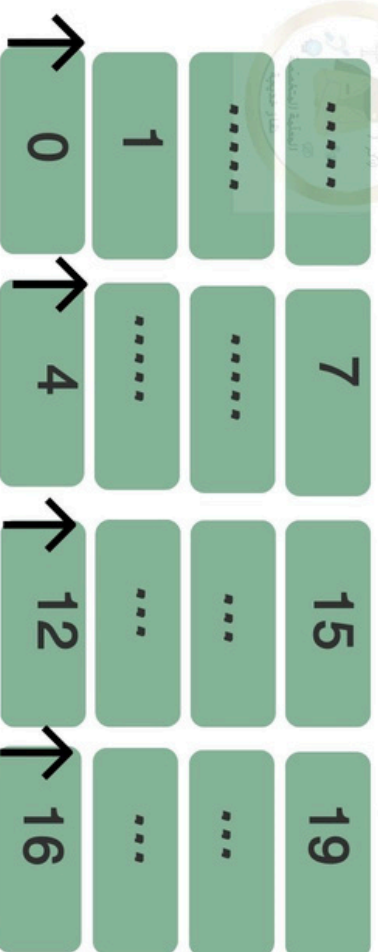


النشاط 2: أكمّل كتابّة فِسار الضفدع إلى طعاهم.



نفاذ خديجة

النشاط 3: أكمّل ترتيب الأعداد تصاعديًا:



نفاذ خديجة



الأستاذة  
نقاز خديجة

الأعداد من 0 إلى 19

الأسئلة الأولى  
ابتدائي

اربط كل رقمٍ وعدٍ يكافئه:

ثمانية عشر  
تسعة  
عشرة  
أحد عشر  
أربعة عشر  
ثلاثة عشر  
اثنا عشر  
مبعضه عشر  
تسعة عشر  
خمس عشر  
بسته عشر

14  
13  
9  
12  
10  
11  
19  
16  
15  
17  
18

نقاز خديجة

نقاز خديجة



نقاز خديجة



الأستاذة  
نقاز خديجة

الأعداد من 0 إلى 19

الأسئلة الأولى  
ابتدائي

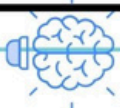
اربط كل رقمٍ وعدٍ يكافئه:

ثمانية عشر  
تسعة  
عشرة  
أحد عشر  
أربعة عشر  
ثلاثة عشر  
اثنا عشر  
مبعضه عشر  
تسعة عشر  
خمس عشر  
بسته عشر

14  
13  
9  
12  
10  
11  
19  
16  
15  
17  
18

نقاز خديجة

نقاز خديجة



نقاز خديجة





اربط كل رقم وعدد بكتابته:

ثمانية عشر	14
تسعة	13
عشرة	9
أحد عشر	12
أربعة عشر	10
ثلاثة عشر	11
اثنا عشر	19
سبعة عشر	16
تسعة عشر	15
خمس عشر	17
بستة عشر	18

نقاز خديجة



اربط كل رقم وعدد بكتابته:

ثمانية عشر	14
تسعة	13
عشرة	9
أحد عشر	12
أربعة عشر	10
ثلاثة عشر	11
اثنا عشر	19
سبعة عشر	16
تسعة عشر	15
خمس عشر	17
بستة عشر	18

نقاز خديجة



اربط كل رقم وعدد بكتابته:

ثمانية عشر	14
تسعة	13
عشرة	9
أحد عشر	12
أربعة عشر	10
ثلاثة عشر	11
اثنا عشر	19
سبعة عشر	16
تسعة عشر	15
خمس عشر	17
بستة عشر	18

نقاز خديجة



اربط كل رقم وعدد بكتابته:

ثمانية عشر	14
تسعة	13
عشرة	9
أحد عشر	12
أربعة عشر	10
ثلاثة عشر	11
اثنا عشر	19
سبعة عشر	16
تسعة عشر	15
خمس عشر	17
بستة عشر	18

نقاز خديجة