



1- ماهو عدد الحيوانات في المزرعة؟  
- لون العدد على جدول الأعداد.



1	2	3	4
5	6	7	8
9	10	11	12
13	14	15	16
17	18	19	20

2: أكمل بالعدد المناسب:

عدد أقلام التلوين: ..... عدد المساطر: ..... عدد المقصات: .....  
عدد كل الأدوات: .....

- عدّ الأدوات المدرسيّة:

	أقلام التلوين
	المساطر
	الممحاة
	الغراء اللاصق
	المبراة
	مجموع كل الأدوات



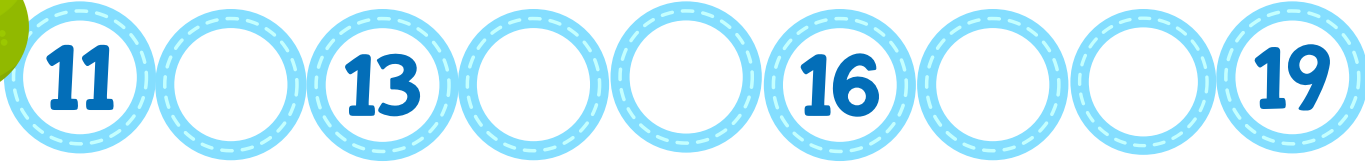
- أحفظ الأعداد من 10 إلى 19 :





أكمل سلسلة الأعداد التالية:

النشاط 1:



أعدّ وأربط بالعدد المناسب:

النشاط 2:



19

12

18

15

أعدّ وأشطب الزائد:

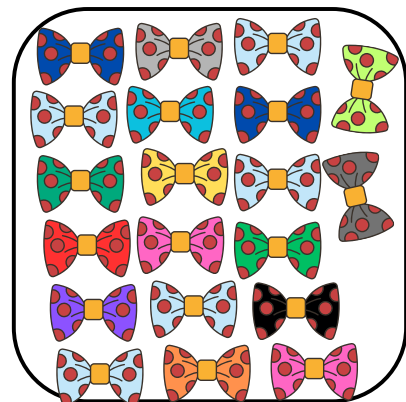
النشاط 3:



14



11




19





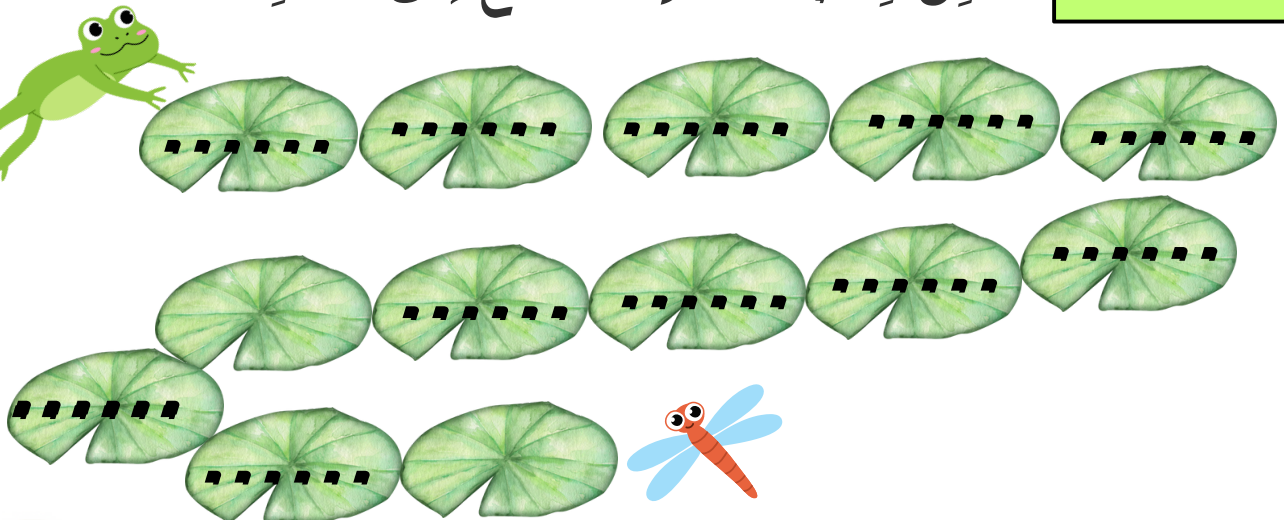
أكمل سلسلة الأعداد:

النشاط 1:



أكمل كتابة مسار الضفدع إلى طعامه.

النشاط 2:



أكمل ترتيب الأعداد تصاعدياً:

النشاط 3:

.....	7	15	19
.....	.....	...	...
1	.....	...	...
↑ 0	↑ 4	↑ 12	↑ 16





اربط كل رقم وعدد بكتابتة:

ثمانية عشر

تسعة

عشرة

أحد عشر

أربعة عشر

ثلاثة عشر

اثنا عشر

سبعة عشر

تسعة عشر

خمس عشر

ستة عشر

14

13

9

12

10

11

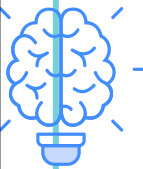
19

16

15

17

18



نقاز خديجة

نقاز خديجة





1- ماهو عدد الحيوانات في المزرعة؟  
- لون العدد على جدول الأعداد.

1	2	3	4
5	6	7	8
9	10	11	12
13	14	15	16
17	18	19	20

2: أكمل بالعدد المناسب:

عدد أقلام التلوين: ..... عدد المساطر: ..... عدد المقصات: .....  
عدد كل الأدوات: .....



نقاز خديجة

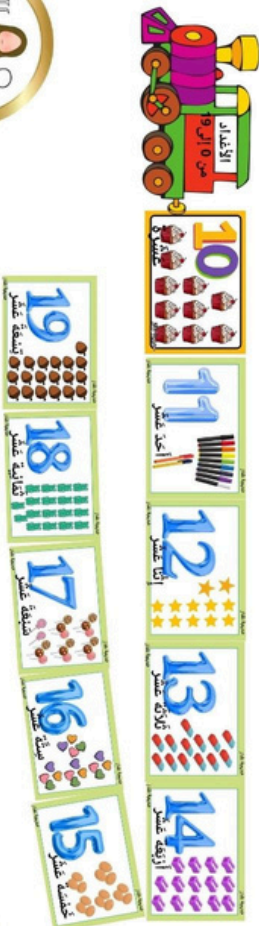
- عد الأدوات المدرسية:

أقلام التلوين	
المساطر	
الممحاة	
الغراء الأصق	
المبراة	
مجموع كل الأدوات	

نقاز خديجة



- أحفظ الأعداد من 10 إلى 19 :



نقاز خديجة

نقاز خديجة

1- ماهو عدد الحيوانات في المزرعة؟  
- لون العدد على جدول الأعداد.

1	2	3	4
5	6	7	8
9	10	11	12
13	14	15	16
17	18	19	20

2: أكمل بالعدد المناسب:

عدد أقلام التلوين: ..... عدد المساطر: ..... عدد المقصات: .....  
عدد كل الأدوات: .....



نقاز خديجة


- عد الأدوات المدرسية:

أقلام التلوين	
المساطر	
الممحاة	
الغراء الأصق	
المبراة	
مجموع كل الأدوات	

نقاز خديجة



- أحفظ الأعداد من 10 إلى 19 :



نقاز خديجة

نقاز خديجة



الاستاذة  
نفاز خديجة

الأعداد من 0 إلى 19

السنة الأولى  
ابتدائي

أكمل سلسلة الأعداد التالية:

النشاط 1:



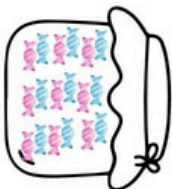


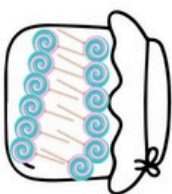
11

13

16

19

النشاط 2: أعدد وأربط بالعدد المناسب:



نفاز خديجة

19


12

18

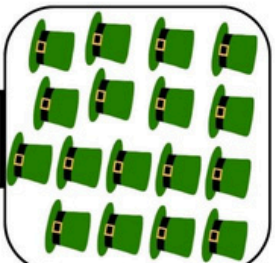
15

النشاط 3: أعدد وأشطّب الزرّائد:

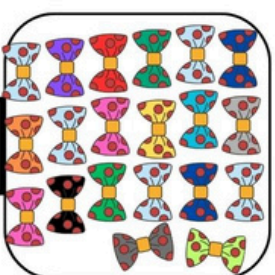
نفاز خديجة



14



11



19

نفاز خديجة



الاستاذة  
نفاز خديجة

الأعداد من 0 إلى 19

السنة الأولى  
ابتدائي

أكمل سلسلة الأعداد التالية:

النشاط 1:




11

13

16

19

النشاط 2: أعدد وأربط بالعدد المناسب:



نفاز خديجة

19

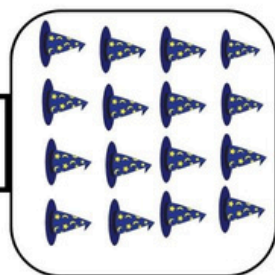
12

18

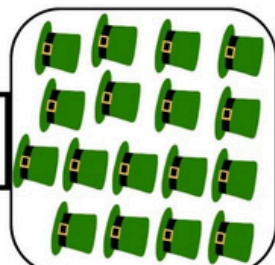
15

النشاط 3: أعدد وأشطّب الزرّائد:

نفاز خديجة



14



11



19

نفاز خديجة






الأستاذة  
نفاذ خديجة

الأعداد من 0 إلى 19

السنة الأولى  
ابتدائي

النشاط 1: أكمّل سلسلة الأعداد:

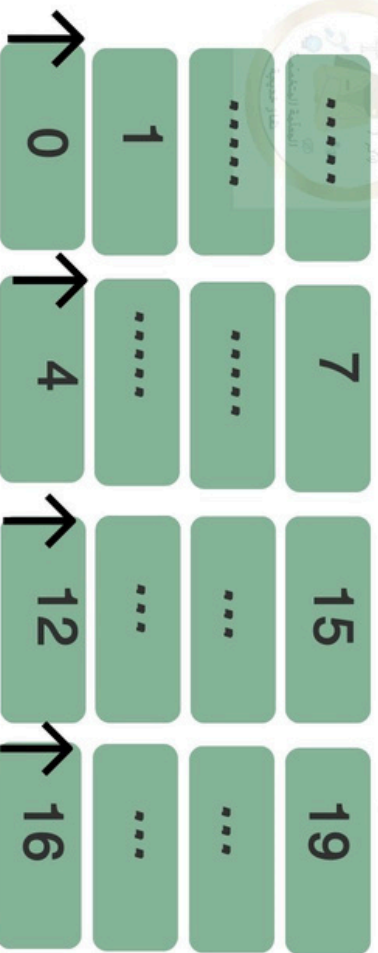


النشاط 2: أكمّل كتابّة فِसार الضفدع إلى طعاهم.



نفاذ خديجة

النشاط 3: أكمّل ترتيب الأعداد تصاعديًا:



نفاذ خديجة




الأستاذة  
نفاذ خديجة

الأعداد من 0 إلى 19

السنة الأولى  
ابتدائي

النشاط 1: أكمّل سلسلة الأعداد:

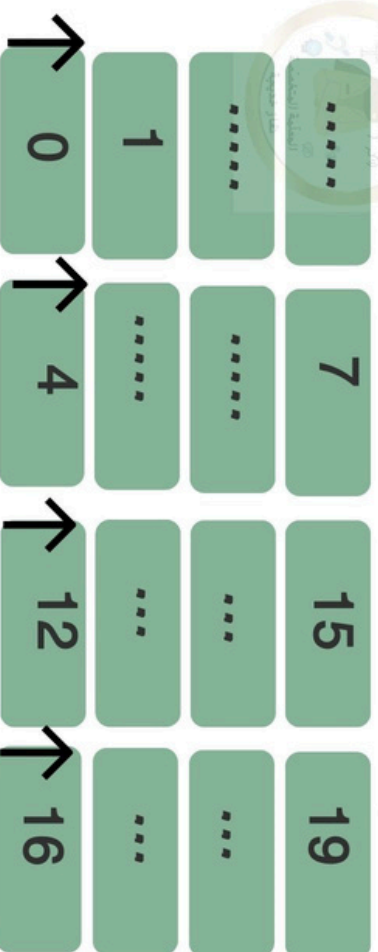


النشاط 2: أكمّل كتابّة فِसार الضفدع إلى طعاهم.




نفاذ خديجة

النشاط 3: أكمّل ترتيب الأعداد تصاعديًا:



نفاذ خديجة





الأستاذة  
نقاز خديجة

الأعداد من 0 إلى 19

الأسئلة الأولى  
ابتدائي

اربط كل رقمٍ وعدٍ بِكَمَاتِهِ:

ثَمَانِيَةَ عَشَرَ  
تِسْعَةَ  
عَشْرَةَ  
أَحَدَ عَشَرَ  
أَرْبَعَةَ عَشَرَ  
ثَلَاثَةَ عَشَرَ  
إِثْنَا عَشَرَ  
مِئْبَعَةَ عَشَرَ  
تِسْعَةَ عَشَرَ  
خَمْسَةَ عَشَرَ  
سِتَّةَ عَشَرَ

14  
13  
9  
12  
10  
11  
19  
16  
15  
17  
18

نقاز خديجة



نقاز خديجة



نقاز خديجة



الأستاذة  
نقاز خديجة

الأعداد من 0 إلى 19

الأسئلة الأولى  
ابتدائي

اربط كل رقمٍ وعدٍ بِكَمَاتِهِ:

ثَمَانِيَةَ عَشَرَ  
تِسْعَةَ  
عَشْرَةَ  
أَحَدَ عَشَرَ  
أَرْبَعَةَ عَشَرَ  
ثَلَاثَةَ عَشَرَ  
إِثْنَا عَشَرَ  
مِئْبَعَةَ عَشَرَ  
تِسْعَةَ عَشَرَ  
خَمْسَةَ عَشَرَ  
سِتَّةَ عَشَرَ

14  
13  
9  
12  
10  
11  
19  
16  
15  
17  
18

نقاز خديجة



نقاز خديجة



نقاز خديجة





الأستاذة  
نقاز خديجة

الأعداد من 0 إلى 19

السنة الأولى  
ابتدائي

اربط كل رقم وعدد بكتابته:

ثمانية عشر	14
تسعة	13
عشرة	9
أحد عشر	12
أربعة عشر	10
ثلاثة عشر	11
اثنا عشر	19
سبعة عشر	16
تسعة عشر	15
خمس عشر	17
بستة عشر	18

نقاز خديجة



الأستاذة  
نقاز خديجة

الأعداد من 0 إلى 19

السنة الأولى  
ابتدائي

اربط كل رقم وعدد بكتابته:

ثمانية عشر	14
تسعة	13
عشرة	9
أحد عشر	12
أربعة عشر	10
ثلاثة عشر	11
اثنا عشر	19
سبعة عشر	16
تسعة عشر	15
خمس عشر	17
بستة عشر	18

نقاز خديجة



الأستاذة  
نقاز خديجة

الأعداد من 0 إلى 19

السنة الأولى  
ابتدائي

اربط كل رقم وعدد بكتابته:

ثمانية عشر	14
تسعة	13
عشرة	9
أحد عشر	12
أربعة عشر	10
ثلاثة عشر	11
اثنا عشر	19
سبعة عشر	16
تسعة عشر	15
خمس عشر	17
بستة عشر	18

نقاز خديجة



الأستاذة  
نقاز خديجة

الأعداد من 0 إلى 19

السنة الأولى  
ابتدائي

اربط كل رقم وعدد بكتابته:

ثمانية عشر	14
تسعة	13
عشرة	9
أحد عشر	12
أربعة عشر	10
ثلاثة عشر	11
اثنا عشر	19
سبعة عشر	16
تسعة عشر	15
خمس عشر	17
بستة عشر	18

نقاز خديجة