



تقويم في ميدان الأعداد و الحساب

النشاط الأول: أكمل المخطط التالي:

العدد بالحروف:

التفكيك النموذجي

643

التفكيك الجمعي

التمثيل

النشاط الثاني: أحسب عمودياً.

$$487 - 344$$

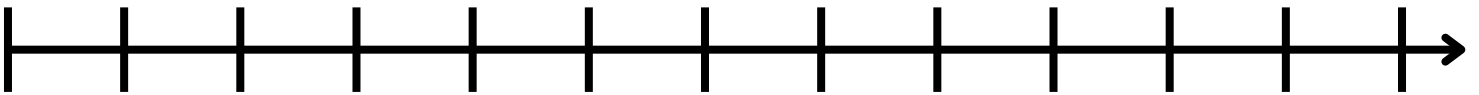
$$798 - 567$$

$$765 + 277$$

$$433 + 87 + 45$$

النشاط الثالث: أكمل متتالية الأعداد في كل حالة.

129 139



				350	400				
--	--	--	--	-----	-----	--	--	--	--

النشاط الرابع: قارن بين كل عددين باستعمال $=$, $>$, $<$.

445		446
-----	--	-----

$200 + 7$		270
-----------	--	-----

(7×100)		707
------------------	--	-----

3 و 5م		503
--------	--	-----

668		69
-----	--	----

810		888
-----	--	-----

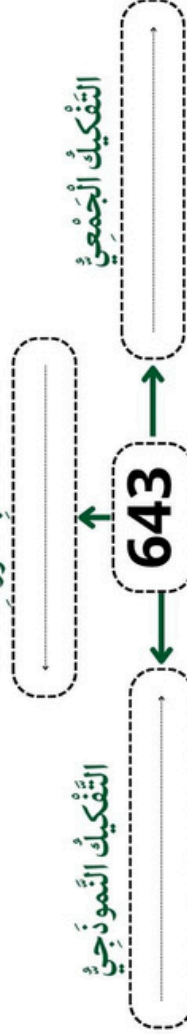


تقويم في ميدان الأعداد و الحساب

النشاط الأول

أكمل المخطط التالي:

العدد بالخروف:



التفكيك الجمعي

التفكيك النموذجي

التمثيل

النشاط الثاني

أحسب عمودياً.

$$487-344$$

$$798-567$$

$$765+277$$

$$433+87+45$$

النشاط الثالث

أكمل متسالية الأعداد في كل حالة.

129 139



النشاط الرابع

قارن بين كل عددين باستعمال <, >, =.

—	—	—	350	400	—	—	—
---	---	---	-----	-----	---	---	---

445	446	200+7	270	(7×100)	707
-----	-----	-------	-----	---------	-----

5 و 3 م	503	668	69	810	888
---------	-----	-----	----	-----	-----

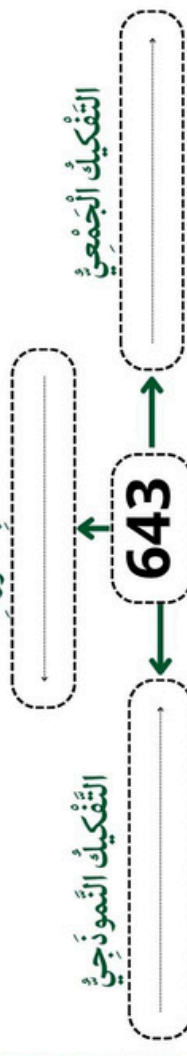


تقويم في ميدان الأعداد و الحساب

النشاط الأول

أكمل المخطط التالي:

العدد بالخروف:



التفكيك النموذجي

التفكيك الجمعي

التمثيل

النشاط الثاني

أحسب عمودياً.

$$487-344$$

$$798-567$$

$$765+277$$

$$433+87+45$$

النشاط الثالث

أكمل متسالية الأعداد في كل حالة.

129 139



النشاط الرابع

قارن بين كل عددين باستعمال <, >, =.

—	—	—	350	400	—	—	—
---	---	---	-----	-----	---	---	---

445	446	200+7	270	(7×100)	707
-----	-----	-------	-----	---------	-----

5 و 3 م	503	668	69	810	888
---------	-----	-----	----	-----	-----