

السنة 1 ابتدائي

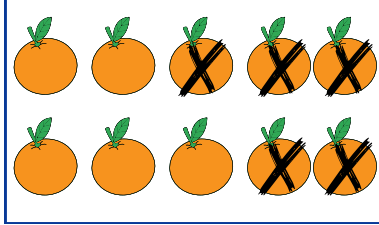
مدرسة :

الأستاذة عرفى أمال

الاسم و اللقب:

ورقة عمل
الرمزان (-) ، (=)


النشاط 1: لاحظ وصل كل صورة بالبطاقة المناسبة



$$10-5$$



$$6-2$$



$$8-4$$

النشاط 2: احسب

$$10-5=$$

$$7-1=$$

$$8-5=$$

$$3-3=$$

$$4-1=$$

$$3-1=$$


$$4-2=$$

$$9-5=$$

$$7-5=$$

$$8-3=$$

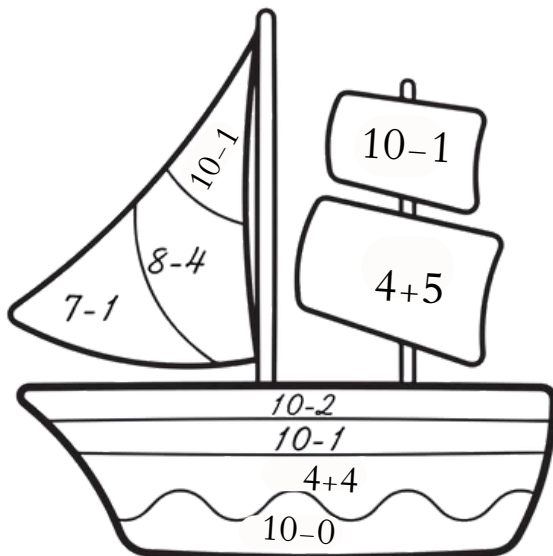
النشاط 3:




أَكَلَ أَحْمَدُ وَ خَدِيجَةُ 5 حَبَّاتِ حَلْوَى .
أَشْطَبُ حَبَّاتِ الحَلْوَى الَّتِي أَكَلَهَا أَحْمَدُ وَ خَدِيجَةُ .
أكمل
عَدَدُ حَبَّاتِ الحَلْوَى البَاقِيَةِ هُوَ :

النشاط 4: احسب المجاميع الآتية

- 9=
- 6=
- 4=
- 8=
- 10=





هنا يتم تقييم عمل التلميذ (ة)



السنة 1 ابتدائي	ورقة عمل الرمزان (-)، (=)	الاسم واللقب:.....	الأستاذة عرقي أمال
مدرسة:			

النشاط 1: لاحظ وصل كل صورة بالبطاقة المناسبة



10-5

6-2

8-4

النشاط 2: احسب

$10-5=$

$7-1=$

$8-5=$

$3-3=$

$4-1=$

$3-1=$

$4-2=$

$9-5=$

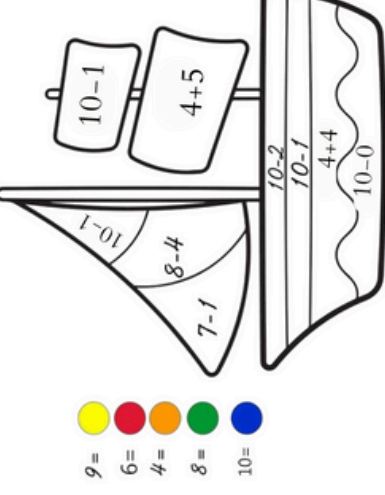
$7-5=$

$8-3=$

النشاط 3:



أَكَلْ أَخْضَدُ وَ خَدِيجَةُ 5 حَبَّاتِ حَلَوَى.
أَشْطَبُ حَبَّاتِ الحَلَوَى الَّتِي أَكَلَهَا أَخْضَدُ وَ خَدِيجَةُ.
أَكْمَلْ
عَدَدُ حَبَّاتِ الحَلَوَى البَاقِيَةِ هُوَ : حَلَوَى





النشاط 4: احسب المجاميع الآتية



السنة 1 ابتدائي	ورقة عمل الرمزان (-)، (=)	الاسم واللقب:.....	الأستاذة عرقي أمال
مدرسة:			

النشاط 1: لاحظ وصل كل صورة بالبطاقة المناسبة



10-5

6-2

8-4

النشاط 2: احسب

$10-5=$

$7-1=$

$8-5=$

$3-3=$

$4-1=$

$3-1=$

$4-2=$

$9-5=$

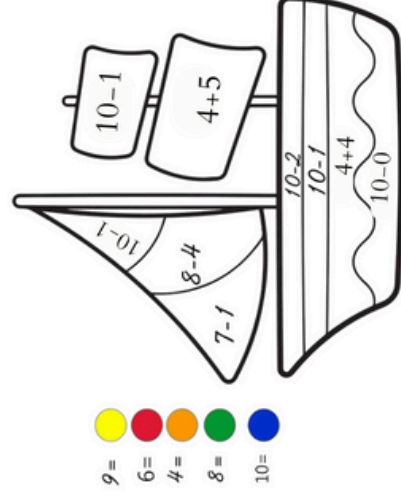
$7-5=$

$8-3=$

النشاط 3:



أَكَلْ أَخْضَدُ وَ خَدِيجَةُ 5 حَبَّاتِ حَلَوَى.
أَشْطَبُ حَبَّاتِ الحَلَوَى الَّتِي أَكَلَهَا أَخْضَدُ وَ خَدِيجَةُ.
أَكْمَلْ
عَدَدُ حَبَّاتِ الحَلَوَى البَاقِيَةِ هُوَ : حَلَوَى



النشاط 4: احسب المجاميع الآتية

