
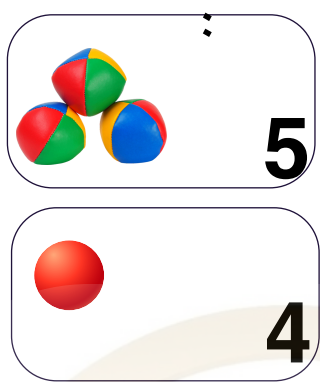
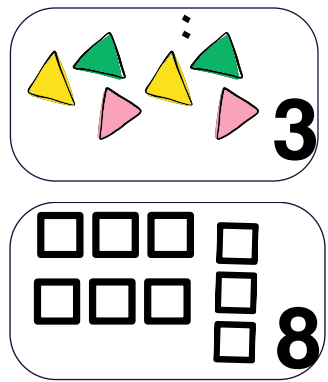


# تمارين خاصة بدروس الفصل الأول في مادة الرياضيات

المعلمة :  
نقاز خديجة

1 أعدّ الأشياء و اكتب الناتج 2 اكمل رسم الناقص 3 اشطب الزائد x



4 اجد الرقم السابق واللاحق مما يلي :




5 اكتب الأرقام التالية بالحروف:



6 اترتب الأطوال التالية : من الأقصر إلى الأطول : 1 - 2 - 3 - 4



فوق - تحت - خلف .



الكُرسي ..... المائدة .

لقط ..... المائدة .

الفنجان ..... المائدة .



المعلمة المتخصصة :  
نقاز خديجة

# تمارين خاصة بدروس الفصل الأول في مادة الرياضيات

المعلمة :  
نقاز خديجة

1 رَتِّبْ الْأَطْوَالَ النَّائِيَةَ مِنَ الْأَصْغَرِ إِلَى الْأَكْبَرِ :



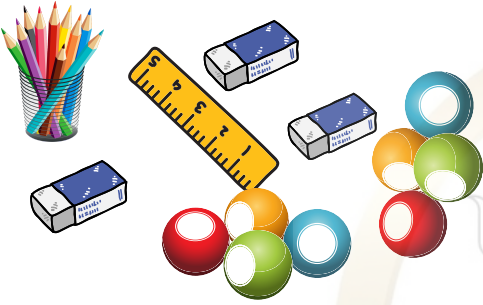
.....

.....


.....

2 اَمَلِّ اَلْجَدُولَ التَّالِي:

عَلَدُهَا	الْأَشْيَاءُ
.....	الْكُرَات
.....	الْأَلْوَان
.....	الْمِمْحَاة
.....	الْمِسْطَرَّة




3 أَلَا حِظْ وَ أَلَوْنْ:



- الْحَيَوَان الَّذِي أَمَامَ الْبَطَّةِ بِاللَّوْنِ الْبَنِّي.
- الْحَيَوَان الَّذِي يَتَوَسَّطُ الْغَزَالَ وَ الْخُرُوفَ بِاللَّوْنِ الْأَصْفَرِ.
- الْحَيَوَان الَّذِي وَرَاءَ الْبَطَّةِ بِاللَّوْنِ الْبُرْتُقَالِي.

4 أَكْتُبْ بِالْأَرْقَامِ أَوْ بِالْحُرُوفِ :



10

8

7

خَمْسَةٌ: .....

تِسْعَةٌ: .....

سِتَّةٌ: .....

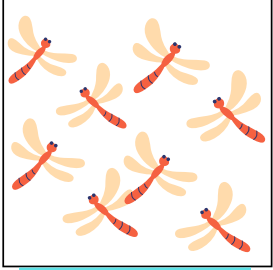
5 رَتِّبْ تَنَازُلِيًّا:

9 10 7 5 8 3




عَدَّ الْأَشْيَاءَ وَأَكْتُبِ الرَّقْمَ :


6



.....



.....



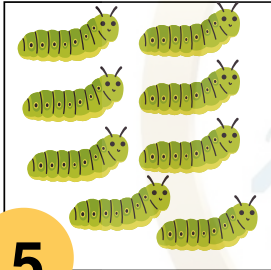
.....




.....

عَدَّ الْأَشْيَاءَ وَشَطَّبْ الزَّائِدَ :

7




5



7



8



6

أَجْرِ الْعَمَلِيَّاتِ التَّالِيَةِ :

8

$$9 - 7 = \dots$$

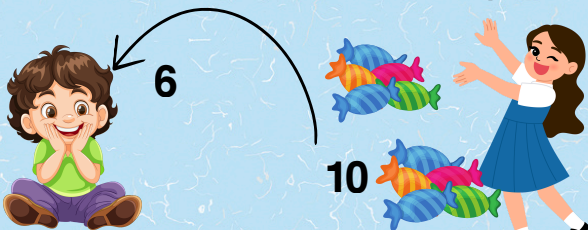
$$8 - 2 = \dots$$

$$5 + 2 = \dots$$

$$6 + 4 = \dots$$

الوضعية الإدماجية:

لَدَى أَرْوَى 10 حَبَّاتِ حَلْوَى ، أَعْطَتْ لِأَخِيهَا 6 حَبَّاتِ .  
كَمْ بَقِيَ عِنْدَهَا مِنْ حَبَّةِ حَلْوَى ؟



.....

بَقِيَ عِنْدَهَا : ..... حَبَّاتِ حَلْوَى ؟



# تمارين خاصة بدروس الفصل الأول في مادة الرياضيات


المعلمة :  
نقاز خديجة



جد الرقم السابق والرقم اللاحق.




عدّ الكرات و اكتب الرقم: اقرأ الرقم ثم شطّب الكرات الزائدة:




4



7



...



...

المعلمة المتخصصة :  
نقاز خديجة

أكمل الكتابة بالحروف أو بالأرقام:



تِسْعَة.



.....

10

أَرْبَعَة.



.....

8

اربط كل شاحنة برتبته:



2

4

1


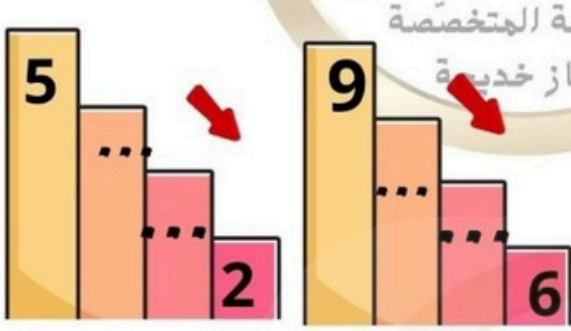
3








أكمل الترتيب التصاعدي و التنازلي:



المعلمة المتخصصة :  
نقاز خديجة

جد الناتج:



$$7 - 3 = \dots$$

$$2 + 6 = \dots$$

الوضعية الإدماجية:

لديك 8 أقلام ألوان، ضيعت 2.  
كم عدد الأقلام المتبقية لديك ؟

.....

عدد الأقلام المتبقية عندي هو .....

