

3

ابتدائي



الأعداد من 0 إلى 999



خديجة نقاز

اكمل ملء عربات القطار.

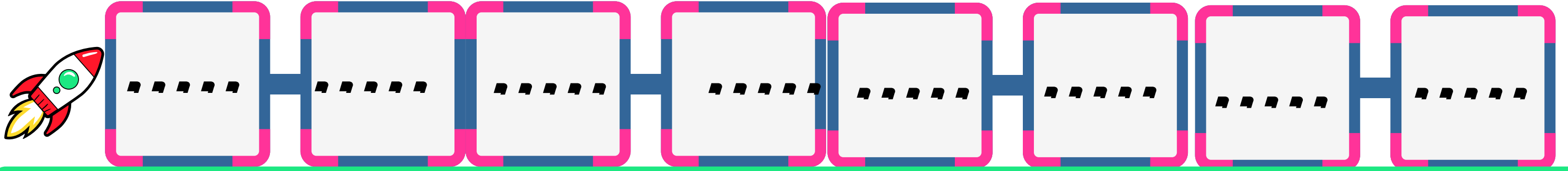


خديجة نقاز

رتب الأعداد تصاعدياً.



190 - 210 - 555 - 76 - 331 - 153 - 456



أكمل ربط الكتابة بالعدد المناسب.



مائتان وتسعون

مائة وخمسون

خمسمائة

مائة وثلاثون

500

290

130

150

مائتان وسبعة  
وثمانونثلاث مائة  
وستون

مائة وسبعون

مائة وواحد  
وأربعون

170

441

287

360

خديجة نقاز



نقاز خديجة

# الأعداد والحساب

3  
ابتدائي

أحصر العدد بين عشرين متاليتين:

321

245

99

اكتب العدد اللاحق والعدد السابق:

463

145

238

إملء الجدول:

آحاد	عشرات	مئات

303 - 247 - 118 - 67

109 - 7 - 288 - 500

آحاد	عشرات	مئات

اكتب الأعداد الحروف:

.....:480

.....:183

.....:384

.....:202

.....:54

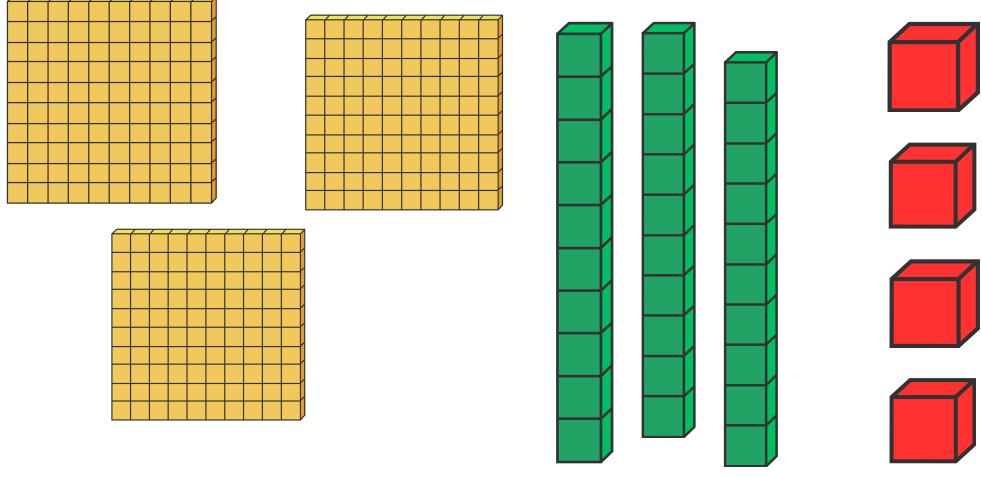
.....:270

.....:12

.....:317

نقاز خديجة

أكمل الجمع




..... + ..... + ..... = .....

م	ع	و

اكتبه بالحروف:

.....

أضع العدد السابق واللاحق له:



احصره بين هتين متاليتين:

	334	
--	-----	--

أكمل تمثيل العدد

100 + 20 + 8 = .....

م	ع	و

اكتبه بالحروف:

.....

أضع العدد السابق واللاحق له:



احصره بين هتين متاليتين:

	128	
--	-----	--



ابتدائي




الأعداد من 0 إلى 999



خديجة نقاز

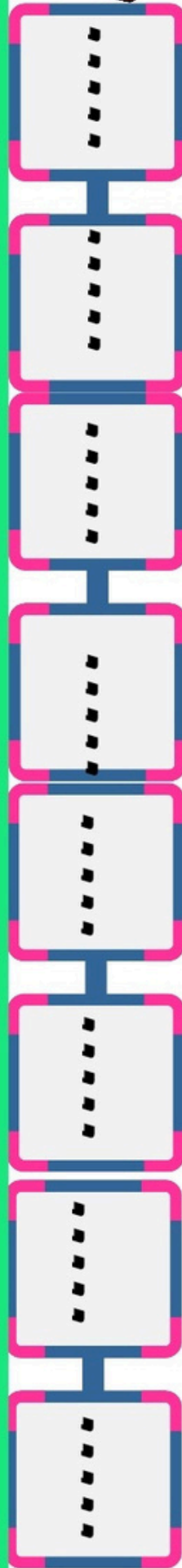
أكمل ملء عربات القطار.



خديجة نقاز

رتب الأعداد تصاعدياً.

456 - 153 - 331 - 76 - 555 - 210 - 190



أكمل ربط الأعداد بالعدد الذي يليه.

مئتان وتسعون

مائة وخمسون

خمسمائة

مائة وثلاثون

500

290

130

150

مئتان وسبعة  
وثلاثون

ثلاث مائة  
وسبعون

مائة وسبعون

مائة واحد  
وأربعون

170

441

287

360

ابتدائي




الأعداد من 0 إلى 999



خديجة نقاز

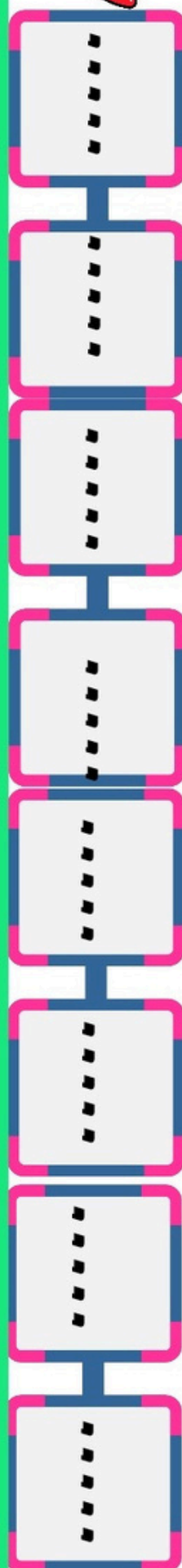
أكمل ملء عربات القطار.



خديجة نقاز

رتب الأعداد تصاعدياً.

456 - 153 - 331 - 76 - 555 - 210 - 190



أكمل ربط الأعداد بالعدد الذي يليه.

مئتان وتسعون

مائة وخمسون

خمسمائة

مائة وثلاثون

500

290

130

150

مئتان وسبعة  
وثلاثون

ثلاث مائة  
وسبعون

مائة وسبعون

مائة واحد  
وأربعون

170

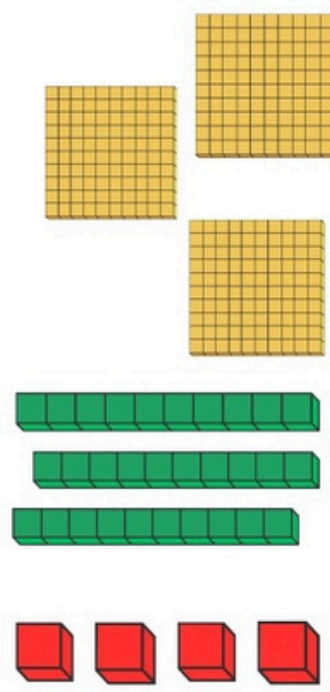
441

287

360



أكمل الجمع



$$..... + ..... + ..... = .....$$

هـ	ع	و

اكتبه بالحروف:

أضح العدد السابق واللاحق له:



أحصره بين همتين متاليتين:

334

أكمل تمثيل العدد

$$100 + 20 + 8 = .....$$

هـ	ع	و

اكتبه بالحروف:

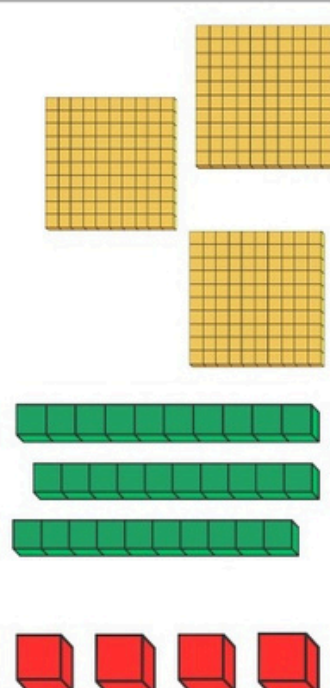
أضح العدد السابق واللاحق له:



أحصره بين همتين متاليتين:

128

أكمل الجمع



$$..... + ..... + ..... = .....$$

هـ	ع	و

اكتبه بالحروف:

أضح العدد السابق واللاحق له:



أحصره بين همتين متاليتين:

334

أكمل تمثيل العدد

$$100 + 20 + 8 = .....$$

هـ	ع	و

اكتبه بالحروف:

أضح العدد السابق واللاحق له:



أحصره بين همتين متاليتين:

128







نقاز خديجة

الأعداد والحساب

ابتدائي 3

أحمر العدد بين عشرين مئتين:

321		245		99	
-----	--	-----	--	----	--

أكتب العدد اللاحق والعدد السابق:

	463			145			238	
--	-----	--	--	-----	--	--	-----	--

أملء الجدول:

هئات	عشرات	آحاد
هئات	عشرات	آحاد

أكتب الأعداد الحروف:

480 ..... 183  
 384 ..... 202  
 54 ..... 270  
 12 ..... 317

نقاز خديجة



نقاز خديجة

الأعداد والحساب

ابتدائي 3

أحمر العدد بين عشرين مئتين:

321		245		99	
-----	--	-----	--	----	--

أكتب العدد اللاحق والعدد السابق:

	463			145			238	
--	-----	--	--	-----	--	--	-----	--

أملء الجدول:

هئات	عشرات	آحاد
هئات	عشرات	آحاد

أكتب الأعداد الحروف:

480 ..... 183  
 384 ..... 202  
 54 ..... 270  
 12 ..... 317

نقاز خديجة



3  
ابتدائي

خديجة نقاز

الأعداد من 0 إلى 999

اكمل ملء عربات القطار.

331 ..... 333 ..... 336 .....

404 ..... 407 .....

خديجة نقاز

رتب الأعداد تصاعدياً.

190 - 210 - 555 - 76 - 331 - 153 - 456

.....

اكمل ربط الكتابة بالعدد المناسب.

مائة وثلاثون مائة وخمسون مائتان وتسعون

150 130 290 500

مائة وواحد مائة وسبعون مائة ثلاث مائة وستون مائتان وسبعة وثمانون

360 287 441 170

خديجة نقاز

3  
ابتدائي

خديجة نقاز

الأعداد من 0 إلى 999

اكمل ملء عربات القطار.

331 ..... 333 ..... 336 .....

404 ..... 407 .....

خديجة نقاز

رتب الأعداد تصاعدياً.

190 - 210 - 555 - 76 - 331 - 153 - 456

.....

اكمل ربط الكتابة بالعدد المناسب.

مائة وثلاثون مائة وخمسون مائتان وتسعون

150 130 290 500

مائة وواحد مائة وسبعون مائة ثلاث مائة وستون مائتان وسبعة وثمانون

360 287 441 170

خديجة نقاز

3  
ابتدائي

خديجة نقاز

الأعداد من 0 إلى 999

اكمل ملء عربات القطار.

331 ..... 333 ..... 336 .....

404 ..... 407 .....

خديجة نقاز

رتب الأعداد تصاعدياً.

190 - 210 - 555 - 76 - 331 - 153 - 456

.....

اكمل ربط الكتابة بالعدد المناسب.

مائة وثلاثون مائة وخمسون مائتان وتسعون

150 130 290 500

مائة وواحد مائة وسبعون مائة ثلاث مائة وستون مائتان وسبعة وثمانون

360 287 441 170

خديجة نقاز

3  
ابتدائي

خديجة نقاز

الأعداد من 0 إلى 999

اكمل ملء عربات القطار.

331 ..... 333 ..... 336 .....

404 ..... 407 .....

خديجة نقاز

رتب الأعداد تصاعدياً.

190 - 210 - 555 - 76 - 331 - 153 - 456

.....

اكمل ربط الكتابة بالعدد المناسب.

مائة وثلاثون مائة وخمسون مائتان وتسعون

150 130 290 500

مائة وواحد مائة وسبعون مائة ثلاث مائة وستون مائتان وسبعة وثمانون

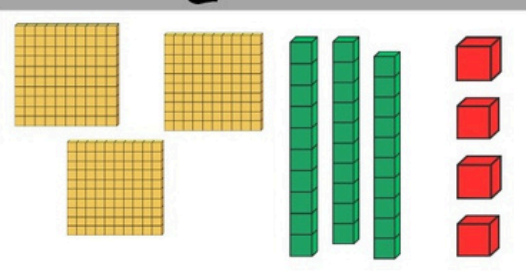
360 287 441 170

خديجة نقاز





أكمل الجمع



..... + ..... + ..... = .....

أكمل تمثيل العدد

100 + 20 + 8 = .....

م	ع	و

اكتبه بالحروف:

م	ع	و

اكتبه بالحروف:

أضغ العدد السابق واللاحق له:



احصره بين هتين هتاليتين:

334

أضغ العدد السابق واللاحق له:



احصره بين هتين هتاليتين:

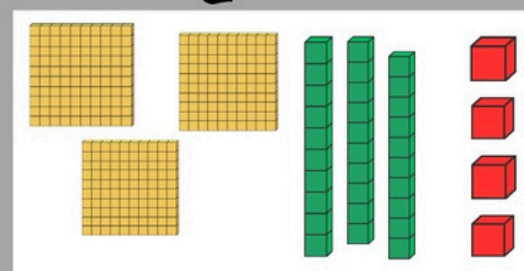
128



خديجة نقاز



أكمل الجمع



..... + ..... + ..... = .....

أكمل تمثيل العدد

100 + 20 + 8 = .....


م	ع	و

اكتبه بالحروف:

م	ع	و

اكتبه بالحروف:

أضغ العدد السابق واللاحق له:



احصره بين هتين هتاليتين:

334

أضغ العدد السابق واللاحق له:



احصره بين هتين هتاليتين:

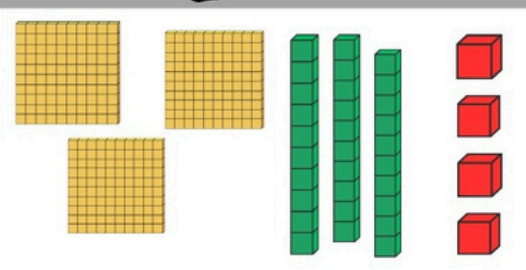
128



خديجة نقاز



أكمل الجمع



..... + ..... + ..... = .....

أكمل تمثيل العدد

100 + 20 + 8 = .....

م	ع	و

اكتبه بالحروف:

م	ع	و

اكتبه بالحروف:

أضغ العدد السابق واللاحق له:



احصره بين هتين هتاليتين:

334

أضغ العدد السابق واللاحق له:



احصره بين هتين هتاليتين:

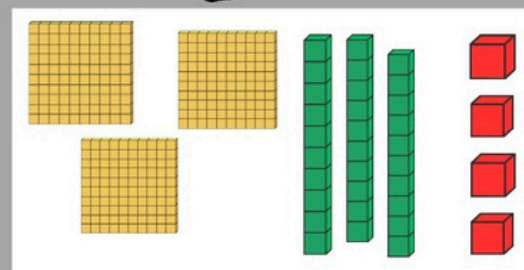
128



خديجة نقاز



أكمل الجمع



..... + ..... + ..... = .....

أكمل تمثيل العدد

100 + 20 + 8 = .....


م	ع	و

اكتبه بالحروف:

م	ع	و

اكتبه بالحروف:

أضغ العدد السابق واللاحق له:



احصره بين هتين هتاليتين:

334

أضغ العدد السابق واللاحق له:



احصره بين هتين هتاليتين:

128



خديجة نقاز





أَحْصِرْ الأَعددَ بَيْنَ عَشْرَتَيْنِ مُتتَالِيَتَيْنِ:

321		245		99	
-----	--	-----	--	----	--

اُكْتُبِ الأَعددَ اللاحق والسَّابِقَ:

463		145		238	
-----	--	-----	--	-----	--

إِهْلِءِ الجَدولَ:

آحاد	عشرات	مئات

303 - 247 - 118 - 67

109 - 7 - 288 - 500

آحاد	عشرات	مئات

اُكْتُبِ الأَعددَ الحُرُوفَ:

.....:480 .....:183

.....:384 .....:202

.....:54 .....:270

.....:12 .....:317

نقاز خديجة



أَحْصِرْ الأَعددَ بَيْنَ عَشْرَتَيْنِ مُتتَالِيَتَيْنِ:

321		245		99	
-----	--	-----	--	----	--

اُكْتُبِ الأَعددَ اللاحق والسَّابِقَ:

463		145		238	
-----	--	-----	--	-----	--

إِهْلِءِ الجَدولَ:

آحاد	عشرات	مئات

303 - 247 - 118 - 67

109 - 7 - 288 - 500

آحاد	عشرات	مئات

اُكْتُبِ الأَعددَ الحُرُوفَ:

.....:480 .....:183

.....:384 .....:202

.....:54 .....:270

.....:12 .....:317

نقاز خديجة



أَحْصِرْ الأَعددَ بَيْنَ عَشْرَتَيْنِ مُتتَالِيَتَيْنِ:

321		245		99	
-----	--	-----	--	----	--

اُكْتُبِ الأَعددَ اللاحق والسَّابِقَ:

463		145		238	
-----	--	-----	--	-----	--

إِهْلِءِ الجَدولَ:

آحاد	عشرات	مئات

303 - 247 - 118 - 67

109 - 7 - 288 - 500

آحاد	عشرات	مئات

اُكْتُبِ الأَعددَ الحُرُوفَ:

.....:480 .....:183

.....:384 .....:202

.....:54 .....:270

.....:12 .....:317

نقاز خديجة



أَحْصِرْ الأَعددَ بَيْنَ عَشْرَتَيْنِ مُتتَالِيَتَيْنِ:

321		245		99	
-----	--	-----	--	----	--

اُكْتُبِ الأَعددَ اللاحق والسَّابِقَ:

463		145		238	
-----	--	-----	--	-----	--

إِهْلِءِ الجَدولَ:

آحاد	عشرات	مئات

303 - 247 - 118 - 67

109 - 7 - 288 - 500

آحاد	عشرات	مئات

اُكْتُبِ الأَعددَ الحُرُوفَ:

.....:480 .....:183

.....:384 .....:202

.....:54 .....:270

.....:12 .....:317

نقاز خديجة