


التمرين 01: ضع العلامة (x) أمام الإجابة الصحيحة




عدّ الفراولة أكثر من عدّ النجوم .

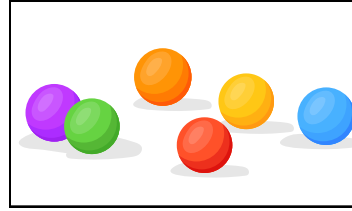
عدّ النجوم أقل من عدّ النحل .

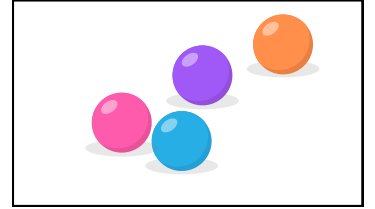
عدّ النحل أكثر من عدّ الفراولة .

عدّ النحل أقل من عدّ النجوم .

التمرين 02: ضع العلامة (x) تحت البطاقة التي فيها أكبر عدّ من الكرات







التمرين 03: أكمل رسم الأشياء حسب العدّ المطلوب

9



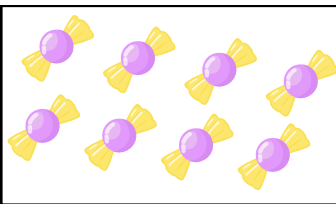
7



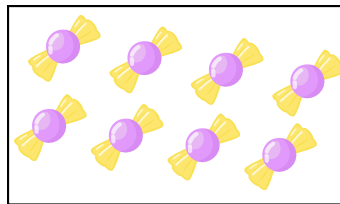
6



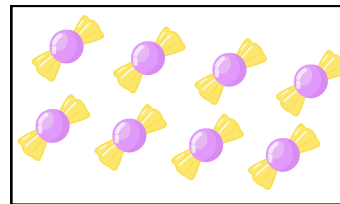
التمرين 04: أشطّب الحلوى لآتحصل على العدد الموجود في كلّ بطاقة



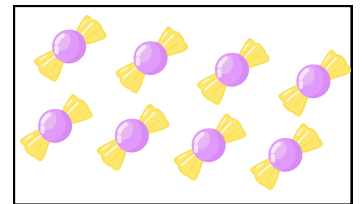
5



4




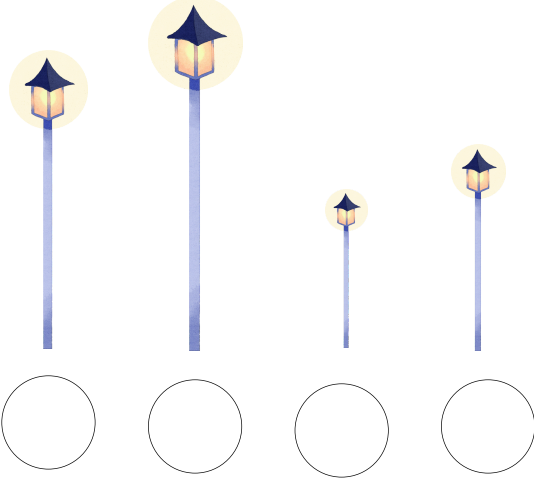
7



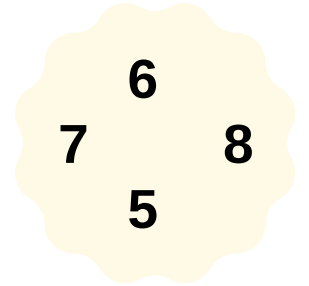
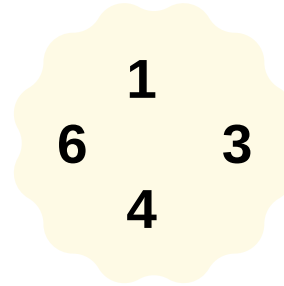
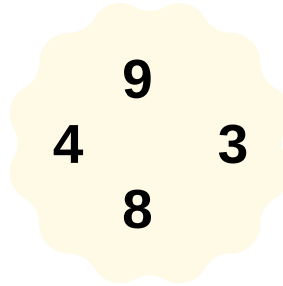
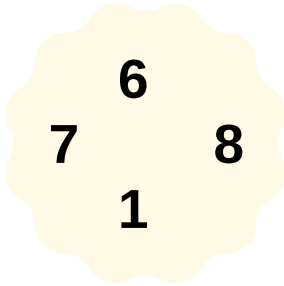
6

التمرين 05:








لَوْنُ أَطْوَلَ نَخْلَةٍ بِالْأَخْضَرِ وَالْأَقْصَرَ بِالْأَحْمَرِ أَكْمِلْ تَرْتِيبَ الْأَعْمِدَةِ






التمرين 06: أَشْطَبُ أَكْبَرَ عَدَدٍ فِي كُلِّ حَالَةٍ



التمرين 07: لَوْنُ الثَّفَاحِ حَسَبَ الْمَعْلُومَاتِ الَّتِي فِي الْجَدْوَلِ

				
		X	X	
				X
	X			



التمرين 08: أَكْمِلْ التَّلْوِينَ بِالتَّرْتِيبِ

