

السنة 1 ابتدائي

مدرسة :

الأستاذة عرقي أمال

الاسم و اللقب:

ورقة عمل
مقارنة الأطوال (2)

النشاط 1: لون أطول ريشة باللون الأحمر



النشاط 2: لون البطاقة الصحيحة

القلم الأزرق

أطول من

أقصر من

القلم الوردي



القلم البرتقالي

أطول من

أقصر من

القلم الأحمر

النشاط 3: رتب الأشجار من الأقصر إلى الأطول



الأستاذة عرقي أمال


ورقة عمل
المسالك

السنة 1 ابتدائي


الاسم و اللقب:

مدرسة :

النشاط 1: لون البطاقة الصحيحة



النشاط 3: أرسم المسلك الذي تسلكه النحلة لتصل إلى الخلية



النشاط 1:

عند أحمد 5 كريات و أعطته أمه 6 كريات أخرى
- كم كرية أصبحت عند أحمد ؟


أصبح عند أحمد



النشاط 2:

ذهبت فاطمة إلى السوق مع أمها.
اشتريت 3 تفاحات و في الطريق أكلت تفاحة واحدة .
- كم تفاحة بقيت ؟

بقيت




النشاط 3: أكتب عدد كل نوع من السمك



أحسب عدد الأسماك في الحوض

عدد الأسماك في الحوض هو : سمكات



الاستاذة عرفى أمال	الاسم واللقب:.....	ورقة عمل مقارنة الأطوال (2)	السنة
			ابتدائي
مدرسة :			

النشاط 1: لون أطول ريشة باللون الأحمر



النشاط 2: لون البطاقة الصحيحة



أطول من
أقصر من

القلم الوردي


القلم الأزرق

أطول من
أقصر من

القلم الأحمر

القلم البرتقالي

النشاط 3: رتب الأشجار من الأقصر إلى الأطول



الاستاذة عرفى أمال	الاسم واللقب:.....	ورقة عمل مقارنة الأطوال (2)	السنة
			ابتدائي
مدرسة :			

النشاط 1: لون أطول ريشة باللون الأحمر



النشاط 2: لون البطاقة الصحيحة



أطول من
أقصر من

القلم الوردي

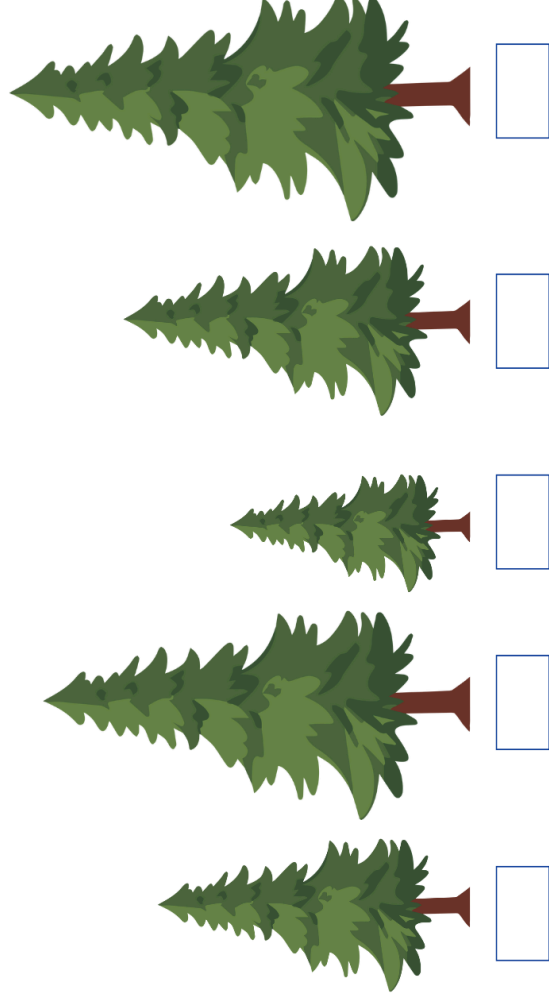
القلم الأزرق

أطول من
أقصر من

القلم الأحمر

القلم البرتقالي

النشاط 3: رتب الأشجار من الأقصر إلى الأطول




السنة 1 ابتدائي	ورقة عمل وضعيات جمع أو طرح (1)	الأستاذة عرفني أmaal
مدرسة :	الاسم واللقب:

النشاط 1:

عند أحمد 5 كريات وأعطته أمه 6 كريات أخرى
- كم كرية أصبحت عند أحمد ؟



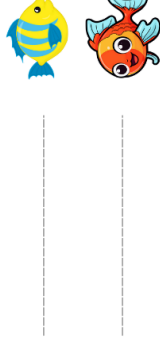

أصبح عند أحمد
.....



النشاط 2:
ذهبت فاطمة إلى السوق مع أمها.
اشتريت 3 تفاحات و في الطريق أكلت تفاحة واحدة .
- كم تفاحة بقيت؟

بقيت

النشاط 3: أكتب عدد كل نوع من السمك



أحسب عدد الأسماك في الحوض

عدد الأسماك في الحوض هو : سمكات


السنة 1 ابتدائي	ورقة عمل وضعيات جمع أو طرح (1)	الأستاذة عرفني أmaal
مدرسة :	الاسم واللقب:

النشاط 1:

عند أحمد 5 كريات وأعطته أمه 6 كريات أخرى
- كم كرية أصبحت عند أحمد ؟




أصبح عند أحمد
.....



النشاط 2:
ذهبت فاطمة إلى السوق مع أمها.
اشتريت 3 تفاحات و في الطريق أكلت تفاحة واحدة .
- كم تفاحة بقيت؟

بقيت

النشاط 3: أكتب عدد كل نوع من السمك




أحسب عدد الأسماك في الحوض


عدد الأسماك في الحوض هو : سمكات

السنة	ابتدائي	ورقة عمل المسالك	الاسم و اللقب:.....	الأستاذة عرفني أmaal
مدرسة:				

النشاط 1: لون البطاقة الصحيحة




النشاط 3: أرسم المسلك الذي تسلكه النحلة لتصل إلى الخلية



السنة	ابتدائي	ورقة عمل المسالك	الاسم و اللقب:.....	الأستاذة عرفني أmaal
مدرسة:				

النشاط 1: لون البطاقة الصحيحة



النشاط 3: أرسم المسلك الذي تسلكه النحلة لتصل إلى الخلية

