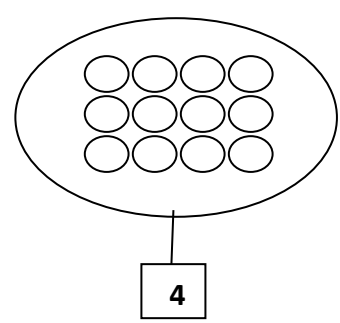
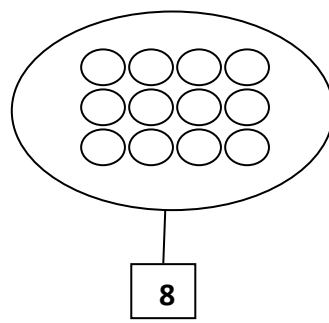
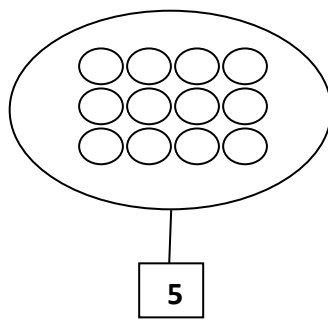
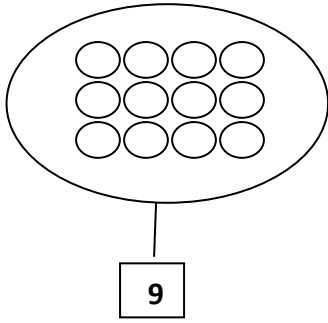


التمرين 1: لون بقدر العدد أسفله:



التمرين 2: أكمل بالعدد السابق والموالي:

	2	
--	---	--




	5	
--	---	--

	8	
--	---	--

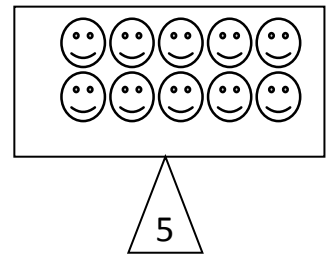
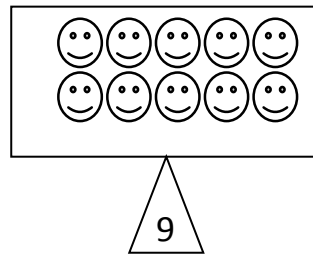
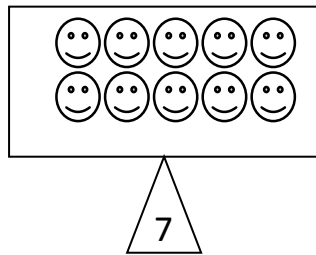
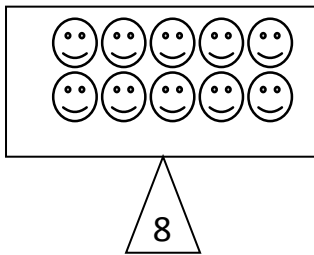
	1	
--	---	--

	6	
--	---	--

التمرين 3: لون 4 أزهار بالأحمر و 3 بالأخضر و 2 بالأصفر:



التمرين 4: أشطب حسب العدد المكتوب أسفله:



التمرين 5: ارسم جزرة لكل أرنب:

