
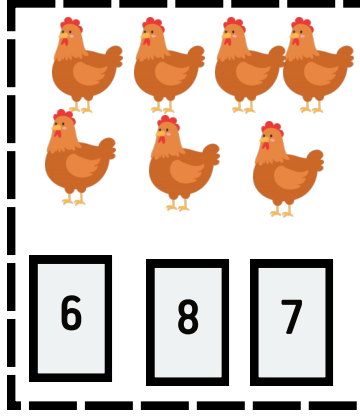
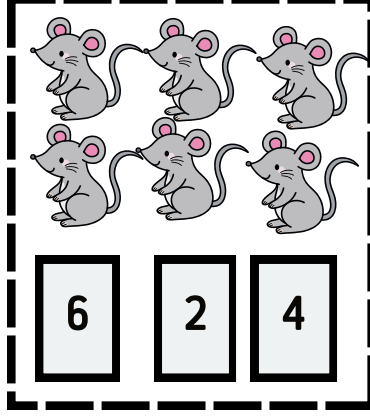

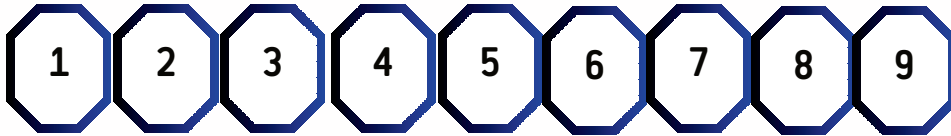









1: عد و لون الخانة المناسبة



2: اربط كل بطاقة بالعدد المناسب



3- اكمل رسم القريصات لتكون بقدر عدد الاصابع



الاستاذ أمين للابتدائي

وَقُلْ رَبِّ زِدْنِي عِلْمًا

السنة الأولى ابتدائي

العدد 10

الرياضيات


1

أكمل رسم البرتقال بقدر العدد المكتوب



10

1: أشطب الفواكه الزائدة



10

2: حو 10 حيوانات



3- حو رقم 10 من بين هذه الأرقام

9 5 10 10 2 10 2  
10 3 4 8 7 7 1 6 10  
1

10

الاستاذ أمين للابتدائي

وَقُلْ رَبِّ زِدْنِي عِلْمًا

السنة الأولى ابتدائي

استعمال العدد لتذكر كمية


الرياضيات

1

1: ألون مايلي

لون 9 قريصات بالأحمر  
لون 7 قريصات بالأخضر  
لون العدد الباقي بالأصفر  
عدد القريصات الصفراء ...

2: اربط كل فاكهة بالعدد المناسب



1

2

3

4

5

6

7

8

9

10

3- ضع علامة X تحت بطاقة فيها 9 أشياء

