

أكمل ملء الجدول كما في المثال .

1

العدد بالأرقام	العدد بالحروف	التفكيك	و ع م	التمثيل
354	ثَلَاث مِئَةٍ وَأَرْبَعَةٌ وَخَمْسُونَ	$300+50+3$	4 و 5 ع 3 م	
461				
	مِئَتَانِ وَ سَبْعَةٌ وَأَرْبَعُونَ			
		$500+9$		

أكمل مُتتالية الأعدادِ وَفْقَ انْتِظَامِهَا .

2

			567	578					
--	--	--	-----	-----	--	--	--	--	--

			431	441				
--	--	--	-----	-----	--	--	--	--

102	202						
-----	-----	--	--	--	--	--	--

قارنْ بِاسْتِعْمَالِ الرَّمْزَيْنِ < ، > .

3

253.....99

900903

678 9 و 7 ع 3 م

567.....568

900+8.....999

123.....321

4

1. رَتَّبْ تَصَاعُديًّا .

900 - 69 - 96 - 306 - 189

2. رَتَّبْ تَنَازُلِيًّا .

567 - 654 - 909 - 99 - 651

5

أُحْصِرْ كُلَّ عَدَدٍ بَيْنَ مِئَتَيْنِ مُتتَالِيَتَيْنِ .

	356	
--	-----	--

	567	
--	-----	--

	788	
--	-----	--

6

أُحْسِبْ أَفْقِيًّا كَمَا فِي الْمِثَالِ .

$76+25=$

$76+25=$

$76+25=$

$45+36=40+5+30+6$

$45+36=70+11$

$45+36=81$

$78-56=$

$78-56=$

$78-56=$

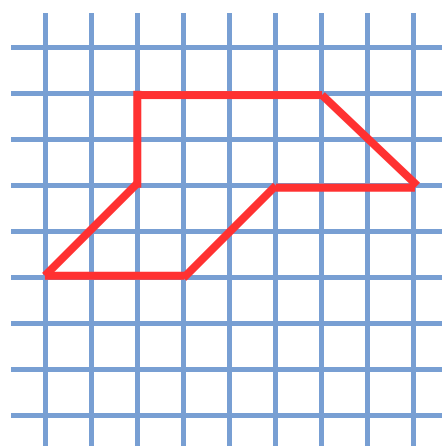
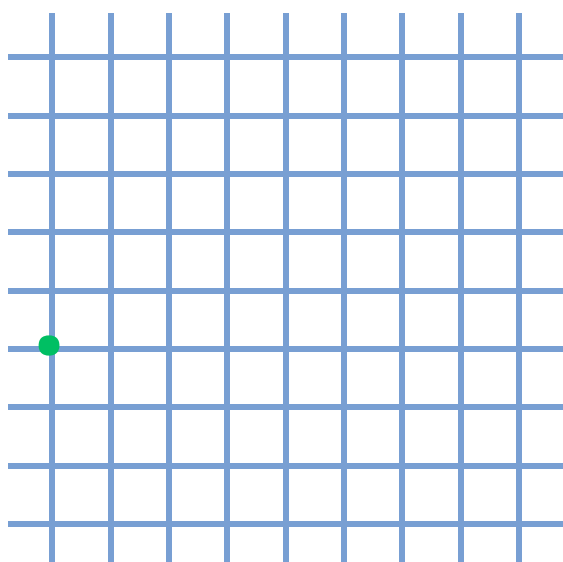
$76-25=76-20-5$

$76-25=56-5$

$76-25=51$

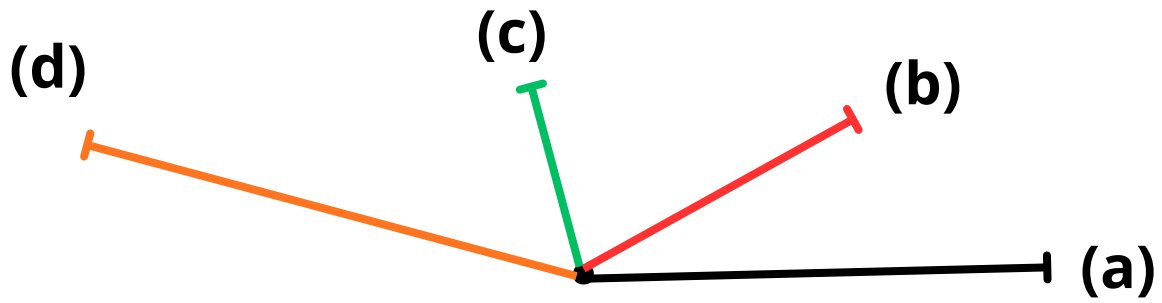
7

أَنْقُلِ الشَّكْلَ عَلَى الْمَرْصُوفَةِ الْمُقَابِلَةِ .



رَتِّبِ الْأَطْوَالَ التَّالِيَةَ مِنَ الْأَطْوَلِ إِلَى الْأَقْصَرِ .

8



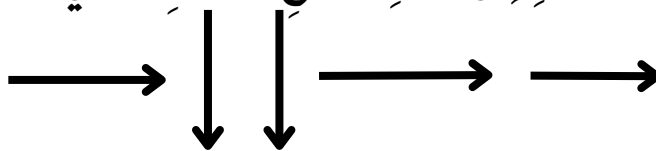
1. لَاحِظْ مَوْقِعَ كُلِّ شَيْءٍ عَلَى الْمَرْصُوفَةِ ثُمَّ اكْمِلْ مَلَأَ الْجَدْوَلَ .

9

د					
ج					
ت					
ب					
أ					
	1	2	3	4	5

المضرب	الكرة	الدلو
.....	(د، 2)	(ب، 4)

2. لَوِّنِ الطَّرِيقَ الِّي تَسْلُكُهُ الْقِطَّةُ لِلْوُصُولِ إِلَى الدَّلوِّ بِاتِّبَاعِ الْمَسَارِ التَّالِي .



1 أكمل ملء الجدول كما في المثال.

التمثيل	و ع م	التفكيك	العدد بالحروف	العدد بالأرقام
	3 و 5 ع 4 م	$300+50+3$	ثلاث مئة وأربعة وخمسون	354
				461
			مِئتان و سبعة وأربعون	
		$500+9$		

2 اكمل مسأليّة الأعداد وفق أنظامها.

3 قارن باستعمال الرمزين < , > .

253.....99 900 903 678
567568 900+8.....999 123.....321

1 أكمل ملء الجدول كما في المثال.

التمثيل	و ع م	التفكيك	العدد بالحروف	العدد بالأرقام
	3 و 5 ع 4 م	$300+50+3$	ثلاث مئة وأربعة وخمسون	354
				461
			مِئتان و سبعة وأربعون	
		$500+9$		

2 اكمل مسأليّة الأعداد وفق أنظامها.

3 قارن باستعمال الرمزين < , > .

253.....99 900 903 678
567568 900+8.....999 123.....321

2. رَتِّبْ تَنَارُفًا.

567 - 654 - 909 - 99 - 651

1. رَتِّبْ تَصَاعُديًا.

900 - 69 - 96 - 306 - 189

4

1. رَتِّبْ تَصَاعُديًا.

900 - 69 - 96 - 306 - 189

5. اُحْصِرْ كُلَّ عَدَدٍ بَيْنَ مِائَتَيْنِ مُتَالِيَتَيْنِ.

	356		567		788	
--	-----	--	-----	--	-----	--

5

5. اُحْصِرْ كُلَّ عَدَدٍ بَيْنَ مِائَتَيْنِ مُتَالِيَتَيْنِ.

	356		567		788	
--	-----	--	-----	--	-----	--

6. اُحْسِبْ أَفْقِيًّا كَمَا فِي الْمِثَالِ.

$76+25=$ _____

$76+25=$ _____

$76+25=$ _____

$78-56=$ _____

$78-56=$ _____

$78-56=$ _____

6

6. اُحْسِبْ أَفْقِيًّا كَمَا فِي الْمِثَالِ.

$45+36=40+5+30+6$

$45+36=70+11$

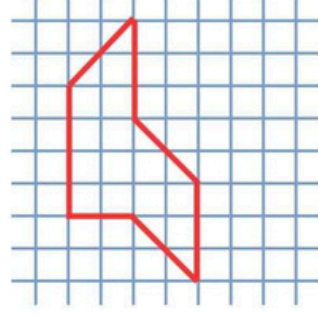
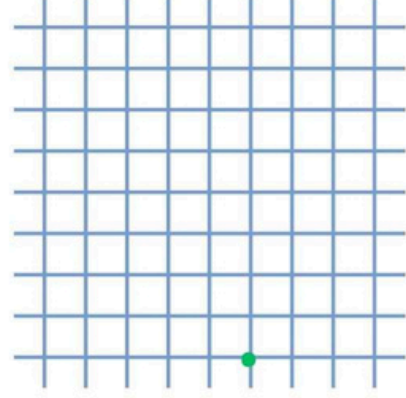
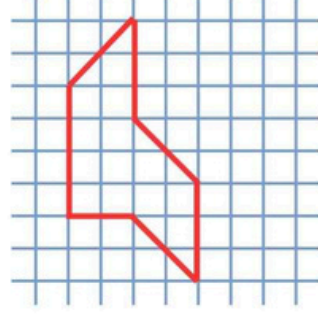
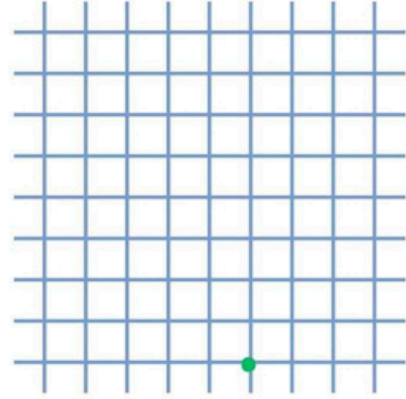
$45+36=81$

$76-25=76-20-5$

$76-25=56-5$

$76-25=51$

7. اُنْقِلِ الشَّكْلَ عَلَى الْمَرْصُوفَةِ الْمُقَابِلَةِ.

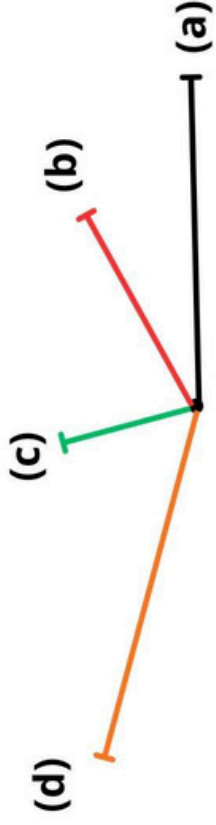


7

7. اُنْقِلِ الشَّكْلَ عَلَى الْمَرْصُوفَةِ الْمُقَابِلَةِ.






8

رَتِّبِ الأَطْوَالَ التَّالِيَةَ مِنَ الأَطْوَلِ إِلَى الأَقْصَرِ .



9

1. لَاحِظْ مَوْقِعَ كُلِّ شَيْءٍ عَلَى المَرَصُوفَةِ ثُمَّ اكْمِلْ مَلَأَ الجَدُولِ .

	1	2	3	4	5
د					
ج					
ت					
ب					
أ					

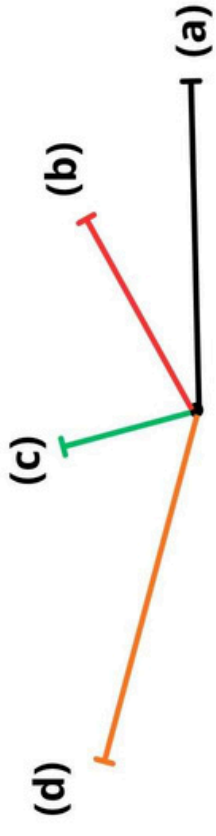
المضرب	الكرة	الدلو
(2, د)		(4, ب)

2. كَوِّنِ الطَّرِيقَ الَّتِي تَسْلُكُهُ القِطْعَةُ للوصولِ إِلَى الدَّلْوِ بِاتِّبَاعِ المَسَارِ التَّالِي .








8

رَتِّبِ الأَطْوَالَ التَّالِيَةَ مِنَ الأَطْوَلِ إِلَى الأَقْصَرِ .



9

1. لَاحِظْ مَوْقِعَ كُلِّ شَيْءٍ عَلَى المَرَصُوفَةِ ثُمَّ اكْمِلْ مَلَأَ الجَدُولِ .

	1	2	3	4	5
د					
ج					
ت					
ب					
أ					

المضرب	الكرة	الدلو
(2, د)		(4, ب)

2. كَوِّنِ الطَّرِيقَ الَّتِي تَسْلُكُهُ القِطْعَةُ للوصولِ إِلَى الدَّلْوِ بِاتِّبَاعِ المَسَارِ التَّالِي .

