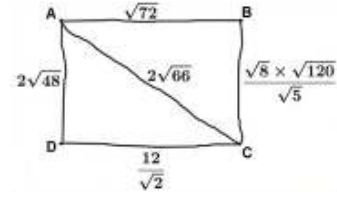


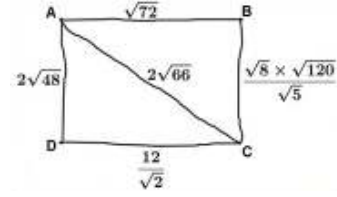
التمرين :

- تمعن في الرباعي لأدناه مرسوم باليد الحرة.
- بين أن هذا الرباعي مستطيل، ثم أحسب مساحته و محيطه.



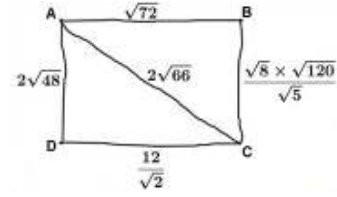
التمرين :

- تمعن في الرباعي لأدناه مرسوم باليد الحرة.
- بين أن هذا الرباعي مستطيل، ثم أحسب مساحته و محيطه.



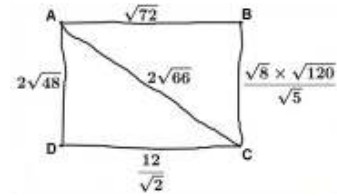
التمرين :

- تمعن في الرباعي لأدناه مرسوم باليد الحرة.
- بين أن هذا الرباعي مستطيل، ثم أحسب مساحته و محيطه.



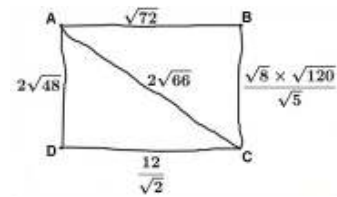
التمرين :

- تمعن في الرباعي لأدناه مرسوم باليد الحرة.
- بين أن هذا الرباعي مستطيل، ثم أحسب مساحته و محيطه.



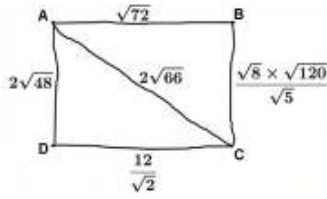
التمرين :

- تمعن في الرباعي لأدناه مرسوم باليد الحرة.
- بين أن هذا الرباعي مستطيل، ثم أحسب مساحته و محيطه.



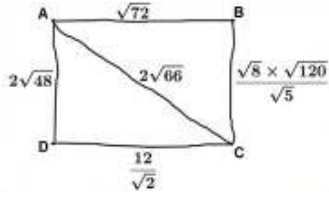
التمرين :

- تمعن في الرباعي لأدناه مرسوم باليد الحرة.
- بين أن هذا الرباعي مستطيل، ثم أحسب مساحته و محيطه.



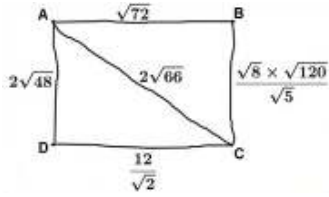
التمرين :

- تمعن في الرباعي لأدناه مرسوم باليد الحرة.
- بين أن هذا الرباعي مستطيل، ثم أحسب مساحته و محيطه.



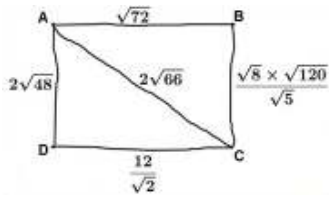
التمرين :

- تمعن في الرباعي لأدناه مرسوم باليد الحرة.
- بين أن هذا الرباعي مستطيل، ثم أحسب مساحته و محيطه.



التمرين :

- تمعن في الرباعي لأدناه مرسوم باليد الحرة.
- بين أن هذا الرباعي مستطيل، ثم أحسب مساحته و محيطه.



التمرين :

- تمعن في الرباعي لأدناه مرسوم باليد الحرة.
- بين أن هذا الرباعي مستطيل، ثم أحسب مساحته و محيطه.

