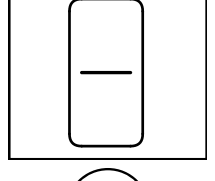
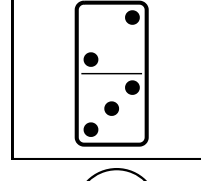







اسم ولقب التلميذ:

المدرسة:


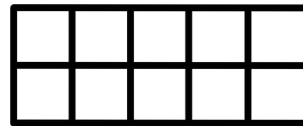


لاحظ ثم اكتب عدد النقاط أو عدد الأصابع المفتوحة




لاحظ ثم اكتب العدد المناسب لكل فاكهة




أحسب عدد القلوب في كل شبكة




ارسم عدد الدوائر في كل بطاقة



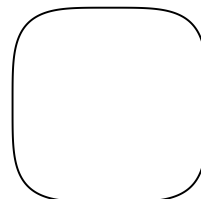
9



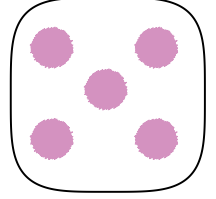
8



0



4



5

اكتب

