

سلسلة تسيط الرياضيات رقم 003 - الأولى متوسط -

التمرين الأول:

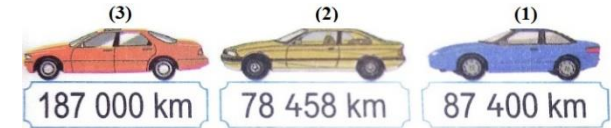
1- اكتب بالحروف الاعداد الآتية:

372289 ; 800744 ; 656001

2- ضع < أو > أو = في المكان المناسب:

6599 ... 23000 ؛ 8999 ... 9872 ؛ 690 ... 645

3- رتب تصاعديا حسب المسافة المقطوعة:



4- اكتب على شكل كسر عشري كلا مما يلي:

0,74 ؛ 1,005 ؛ 3,1

التمرين الثاني:

انجز العمليات الآتية:

1207	1526	147
- 108	+ 645	× 23
=	=	=

التمرين الثالث:

دخل أحمد محلا تجاريا ومعه 700DA، فاشترى اللوازم الآتية:

- 3 أقلام بـ 25DA للقلم الواحد.
- 6 كراريس كلها بـ 355DA.
- مقلمة بـ 125DA.

1- ما هو المبلغ الذي صرفه ؟

2- كم بقي مع أحمد من مبلغه ؟

نجاحكم ههنا

سلسلة تسيط الرياضيات رقم 003 - الأولى متوسط -

التمرين الأول:

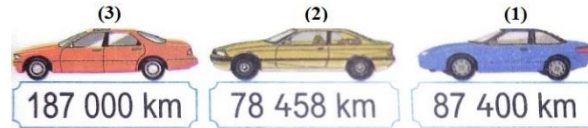
1- اكتب بالحروف الاعداد الآتية:

372289 ; 800744 ; 656001

2- ضع < أو > أو = في المكان المناسب:

6599 ... 23000 ؛ 8999 ... 9872 ؛ 690 ... 645

3- رتب تصاعديا حسب المسافة المقطوعة:



4- اكتب على شكل كسر عشري كلا مما يلي:

0,74 ؛ 1,005 ؛ 3,1

التمرين الثاني:

انجز العمليات الآتية:

1207	1526	147
- 108	+ 645	× 23
=	=	=

التمرين الثالث:

دخل أحمد محلا تجاريا ومعه 700DA، فاشترى اللوازم الآتية:

- 3 أقلام بـ 25DA للقلم الواحد.
- 6 كراريس كلها بـ 355DA.
- مقلمة بـ 125DA.

1- ما هو المبلغ الذي صرفه ؟

2- كم بقي مع أحمد من مبلغه ؟

نجاحكم ههنا

سلسلة تسيط الرياضيات رقم 003 - الأولى متوسط -

التمرين الأول:

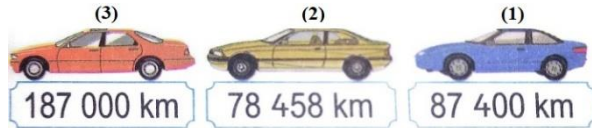
1- اكتب بالحروف الاعداد الآتية:

372289 ; 800744 ; 656001

2- ضع < أو > أو = في المكان المناسب:

6599 ... 23000 ؛ 8999 ... 9872 ؛ 690 ... 645

3- رتب تصاعديا حسب المسافة المقطوعة:



4- اكتب على شكل كسر عشري كلا مما يلي:

0,74 ؛ 1,005 ؛ 3,1

التمرين الثاني:

انجز العمليات الآتية:

1207	1526	147
- 108	+ 645	× 23
=	=	=

التمرين الثالث:

دخل أحمد محلا تجاريا ومعه 700DA، فاشترى اللوازم الآتية:

- 3 أقلام بـ 25DA للقلم الواحد.
- 6 كراريس كلها بـ 355DA.
- مقلمة بـ 125DA.

1- ما هو المبلغ الذي صرفه ؟

2- كم بقي مع أحمد من مبلغه ؟

نجاحكم ههنا