

سلسلة تبسيط الرياضيات رقم 002 - الأولى متوسط -

التمرين الأول:

1- اكمل ملء الجدول:

رقم الأجزاء من آلاف	رقم العشرات	رقم الاعشار من مئة	رقم الأجزاء من مئة	العدد
				125.906

2- قارن بين الأعداد في كل حالة:

$$739 \dots 748$$

$$4850 \dots 4856$$

$$778220 \dots 77699$$

3- رتب تصاعدياً الأعداد الآتية:

$$12874 - 12799 - 11909 - 12698 - 12900$$

التمرين الثاني:

• اندلعت الثورة التحريرية سنة 1954.

❖ كم سنة مضت عن ذلك التاريخ ؟

• انقل واتمم:

$$\begin{array}{r} * 385 \\ + 427 \\ + 6** \\ \hline = 2*65 \end{array} \quad \begin{array}{r} 6**9 \\ + 73* \\ \hline = *462 \end{array}$$

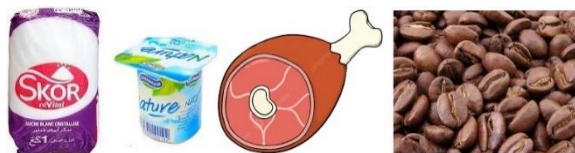
التمرين الثالث:

اشترى شخص ما يلي:

لحم بـ 695 دج وسكر بـ 82 دج وقهوة بـ 110 دج وياغورت بـ 28 دج.

1- هل المبلغ 1000 دج كاف لشراء هذه الأشياء ؟

2- إن كان يكفيكم كم يتبقى له ؟



نجاحكم هدفنا

صفحتنا على الفيسبوك : تبسيط الرياضيات

سلسلة تبسيط الرياضيات رقم 002 - الأولى متوسط -

التمرين الأول:

1- اكمل ملء الجدول:

رقم الأجزاء من آلاف	رقم العشرات	رقم الاعشار من مئة	رقم الأجزاء من مئة	العدد
				125.906

2- قارن بين الأعداد في كل حالة:

$$739 \dots 748$$

$$4850 \dots 4856$$

$$778220 \dots 77699$$

3- رتب تصاعدياً الأعداد الآتية:

$$12874 - 12799 - 11909 - 12698 - 12900$$

التمرين الثاني:

• اندلعت الثورة التحريرية سنة 1954.

❖ كم سنة مضت عن ذلك التاريخ ؟

• انقل واتمم:

$$\begin{array}{r} * 385 \\ + 427 \\ + 6** \\ \hline = 2*65 \end{array} \quad \begin{array}{r} 6**9 \\ + 73* \\ \hline = *462 \end{array}$$

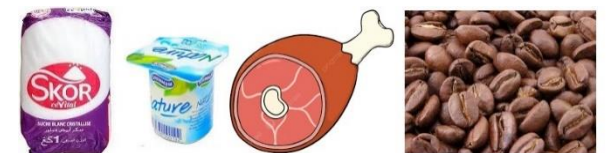
التمرين الثالث:

اشترى شخص ما يلي:

لحم بـ 695 دج وسكر بـ 82 دج وقهوة بـ 110 دج وياغورت بـ 28 دج.

1- هل المبلغ 1000 دج كاف لشراء هذه الأشياء ؟

2- إن كان يكفيكم كم يتبقى له ؟



نجاحكم هدفنا

صفحتنا على الفيسبوك : تبسيط الرياضيات

سلسلة تبسيط الرياضيات رقم 002 - الأولى متوسط -

التمرين الأول:

1- اكمل ملء الجدول:

رقم الأجزاء من آلاف	رقم العشرات	رقم الاعشار من مئة	رقم الأجزاء من مئة	العدد
				125.906

2- قارن بين الأعداد في كل حالة:

$$739 \dots 748$$

$$4850 \dots 4856$$

$$778220 \dots 77699$$

3- رتب تصاعدياً الأعداد الآتية:

$$12874 - 12799 - 11909 - 12698 - 12900$$

التمرين الثاني:

• اندلعت الثورة التحريرية سنة 1954.

❖ كم سنة مضت عن ذلك التاريخ ؟

• انقل واتمم:

$$\begin{array}{r} * 385 \\ + 427 \\ + 6** \\ \hline = 2*65 \end{array} \quad \begin{array}{r} 6**9 \\ + 73* \\ \hline = *462 \end{array}$$

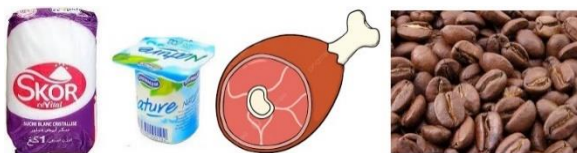
التمرين الثالث:

اشترى شخص ما يلي:

لحم بـ 695 دج وسكر بـ 82 دج وقهوة بـ 110 دج وياغورت بـ 28 دج.

1- هل المبلغ 1000 دج كاف لشراء هذه الأشياء ؟

2- إن كان يكفيكم كم يتبقى له ؟



نجاحكم هدفنا

صفحتنا على الفيسبوك : تبسيط الرياضيات