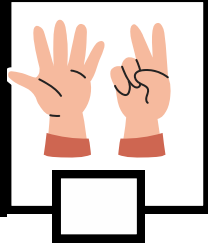

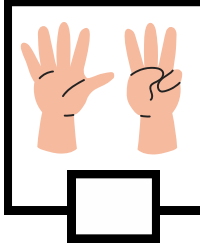
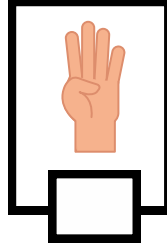
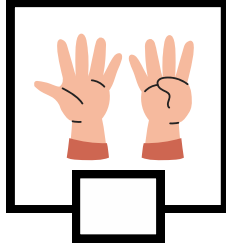
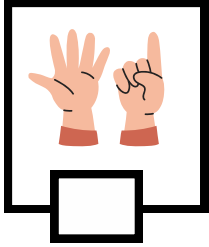
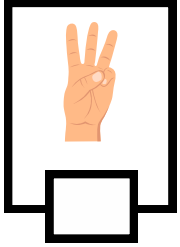



الرياضيات

واجبات نهاية الاسبوع


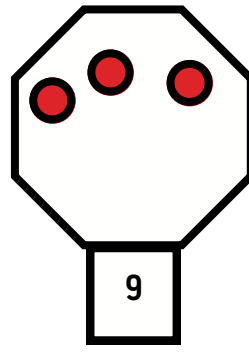
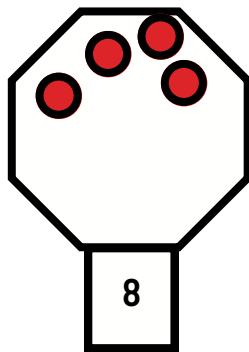
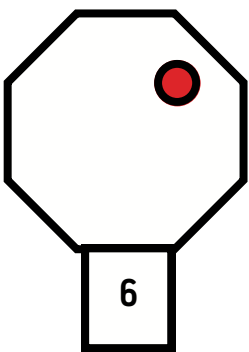
الوضعية الاولى : اكتب العدد المناسب




الوضعية الثانية : لون العصفير بقدر عدد الاطفال



الوضعية الثالثة : أكمل رسم قريصات بقدر العدد المكتوب



الوضعية الرابعة : أكمل الشريط العددي






الوضعية الاولى : لون الكلمات المتشابهة بنفس اللون

مِبْرَآةٌ	مِمْحَاةٌ	قَلَمٌ	لَوْحَةٌ	كِتَابٌ	كُرَّاسٌ	مِمْصٌ	غِرَاءٌ
-----------	-----------	--------	----------	---------	----------	--------	---------

غِرَاءٌ	مِبْرَآةٌ	لَوْحَةٌ	كِتَابٌ	مِمْصٌ	قَلَمٌ	مِمْحَاةٌ	كُرَّاسٌ
---------	-----------	----------	---------	--------	--------	-----------	----------

الوضعية الثانية : ألون البطاقة الصحيحة

أَحْمَدٌ	خَدِجَةُ	أَبِي	
أَبِي	خَدِجَةُ	أُمِّي	
أُمِّي	أَحْمَدٌ	خَدِجَةُ	

الوضعية الثالثة : أخط مايلي

أَحْمَدٌ

خَدِجَةُ