





النشاط 1: اشطب 6 أشياء في كل مجموعة ، ثم عد الأشياء الباقية في كل بطاقة .









النشاط 2: أرسم مربعات بقدر العدد المطلوب


5

0

3

7

النشاط 3: لاحظ الصورة ثم اكتب العدد المناسب











النشاط 4: أكمل دودة الأرقام

