

السنة 1 ابتدائي





ورقة عمل  
العدد 0

الأستاذة عرفى أمال

الاسم و اللقب: .....

مدرسة: .....

النشاط 1: اشطب 6 أشياء في كل مجموعة ، ثم عدد الأشياء الباقية في كل بطاقة .



النشاط 2: أرسم مربعات بقدر العدد المطلوب


5

0

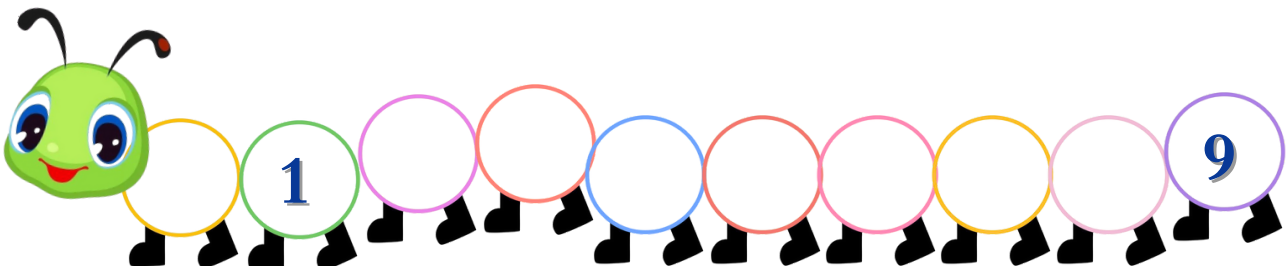
3

7

النشاط 3: لاحظ الصورة ثم اكتب العدد المناسب




النشاط 4: أكمل دودة الأرقام



الاستاذة عرفى أمال	ورقة عمل العدد 0	السنة ابتدائي
الاسم واللقب: .....		مدرسة: .....

النشاط 1: اشطب 6 أشياء في كل مجموعة ، ثم عدد الأشياء الباقية في كل بطاقة .







النشاط 2: أرسم مربعات بقدر العدد المطلوب





 5

 0

 3

 7

النشاط 3: لاحظ الصورة ثم اكتب العدد المناسب

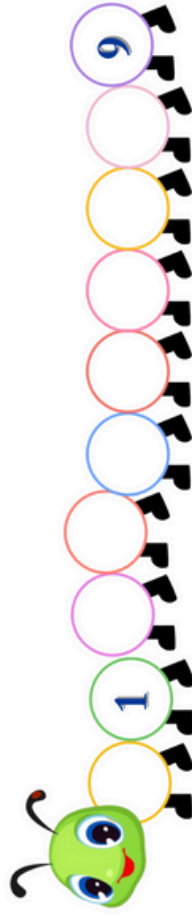








النشاط 4: أكمل دودة الأرقام



الاستاذة عرفى أمال	ورقة عمل العدد 0	السنة ابتدائي
الاسم واللقب: .....		مدرسة: .....

النشاط 1: اشطب 6 أشياء في كل مجموعة ، ثم عدد الأشياء الباقية في كل بطاقة .







النشاط 2: أرسم مربعات بقدر العدد المطلوب





 5

 0

 3

 7

النشاط 3: لاحظ الصورة ثم اكتب العدد المناسب









النشاط 4: أكمل دودة الأرقام

