






الجمع والطرح 2

الاعداد من 0 الى 999

التنقل على مرصوفة

د				
ج				
ب				
أ				
	1	2	3	4

1 لاحظ موقع كل حيوان
و أكمل الجدول التالي

الصقر	الجمال	الدب
....	أ ، 1	د ، 1

2 أكمل كما في المثال

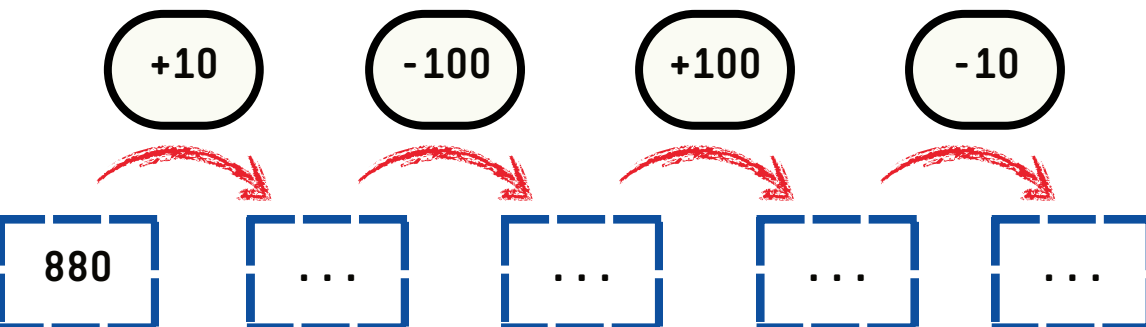
859	ثمان مائة و تسعة وخمسون	9 و 5 ع 8 م	$800 + 50 + 9$
643
176
711

3 انجز العمليات التالية

$615 - 10 = \dots$	$875 - 10 = \dots$
$980 - 100 = \dots$	$227 - 100 = \dots$

$315 + 10 = \dots$	$459 + 10 = \dots$
$841 + 10 = \dots$	$789 + 100 = \dots$






4 أكمل الحساب



الجمع والطرح 2

الاعداد من 0 الى 999

التنقل على مرصوفة

د				
ج				
ب				
أ				
	1	2	3	4

1 لاحظ موقع كل حيوان
و أكمل الجدول التالي

الصقر	الجمال	البقرة	الحصان	الدب
ب، 4	ج، 2	أ، 1	د، 1	أ، 3

2 أكمل كما في المثال

859	ثمان مائة و تسعة وخمسون	9 و 5 ع 8 م	$800 + 50 + 9$
643	ست مائة وثلاثة واربعون	3 و 4 ع 6 م	$600 + 40 + 3$
176	مائة و ستة وسبعون	6 و 7 ع 1 م	$100 + 70 + 6$
711	سبع مائة وإحدى عشر	1 و 1 ع 7 م	$700 + 10 + 1$

3 انجز العمليات التالية

$615 - 10 = 605$	$875 - 10 = 865$
$980 - 100 = 880$	$227 - 100 = 127$

$315 + 10 = 325$	$459 + 10 = 469$
$841 + 10 = 851$	$789 + 100 = 889$

4 أكمل الحساب

