



الوضعية الإدماجية 1:

مريم



3

أمين





2

- عند مريم 8 بالونات ، وعند أخيها بالونين (2).
- ماهو مجموع البالونات معاً؟

.....

- مجموع البالونات معا هو: بالونات.

الوضعية الإدماجية 2:



- كان عند كوثر 6 حبات. حلوى ، أعطتها أختها حبة واحدة (1).


- كم أصبح عند كوثر من حبة حلوى ؟

.....

- أصبح عند كوثر: حبات حلوى.

الوضعية الإدماجية 3:

صباحاً



مساء



- اشتريت أم مريم 4 حبات بيض صباحاً و 6 حبات في المساء.

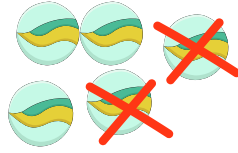
- كم عدد البيضات التي اشتريتها الأم؟

- عدد البيضات التي اشتريتها الأم هو: حبات بيض.

.....




الوضعية الإدماجية 1:



- كَانَ عِنْدَ أَمِينٍ 5 كَرَيَّاتٍ، لَعِبَ
مَعَ صَدِيقِهِ فَخَسِرَ كَرَيَّتَيْنِ 2 .
- كَمْ بَقِيَ عِنْدَ أَمِينٍ مِنْ كَرَيَّةٍ؟
- بَقِيَ عِنْدَ أَمِينٍ :..... كَرَيَّةٌ.

.....


الوضعية الإدماجية 2:



- عِنْدَ عِمَادٍ 8 حَبَّاتِ تَفَاحٍ ، وَزَعَ عَلَى
أَصْدِقَائِهِ 4 حَبَّاتٍ .
- كَمْ بَقِيَ عِنْدَ عِمَادٍ مِنْ حَبَّةِ
تَفَاحٍ ؟
- بَقِيَ عِنْدَ عِمَادٍ حَبَّاتِ تَفَاحٍ.

.....

الوضعية الإدماجية 3:



- اشْتَرَى أَحْمَدُ 9 حَبَّاتِ بَيْضٍ،
تَكَسَّرَتْ لَهُ 3 .
- كَمْ عِلْدَ حَبَّاتِ الْبَيْضِ الْمَتَبَقَّةِ ؟
- عِلْدَ حَبَّاتِ الْبَيْضِ الْمَتَبَقَّةِ
هُوَ :.....

.....



المعلمة
نقاز خديجة

الاستة الأولى 1
وضعيّات جمع أو طرح



الوضعية الإدماجية 1:

مريم



3

أمين




2

- عند مريم 8 بالونات ، وعند أخيها بالونين (2).
- ما هو مجموع البالونات معاً؟

.....

- مجموع البالونات معاً هو: بالونات.

الوضعية الإدماجية 2:



- كان عند كوثر 6 حبات. حلوى ، أعطتها أختها حبة واحدة (1).
- كم أصبح عند كوثر من حبة حلوى؟
- أصبح عند كوثر: حبات حلوى.

.....

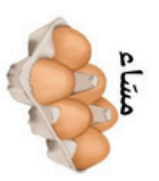
نقاز خديجة

الأستاذة نقاز خديجة

الوضعية الإدماجية 3:



صباح



مساء

- اشترت أم مريم 4 حبات بيض صباحاً و 6 حبات في المساء.
- كم عدد البيضات التي اشترتها الأم؟
- عدد البيضات التي اشترتها الأم هو: حبات بيض.

.....



المعلمة
نقاز خديجة

الاستة الأولى 1
وضعيّات جمع أو طرح



الوضعية الإدماجية 1:

مريم



3

أمين




2

- عند مريم 8 بالونات ، وعند أخيها بالونين (2).
- ما هو مجموع البالونات معاً؟

.....

- مجموع البالونات معاً هو: بالونات.

الوضعية الإدماجية 2:



- كان عند كوثر 6 حبات. حلوى ، أعطتها أختها حبة واحدة (1).
- كم أصبح عند كوثر من حبة حلوى؟
- أصبح عند كوثر: حبات حلوى.

.....

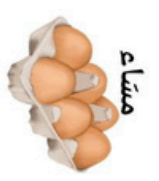
نقاز خديجة

الأستاذة نقاز خديجة

الوضعية الإدماجية 3:



صباح



مساء

- اشترت أم مريم 4 حبات بيض صباحاً و 6 حبات في المساء.
- كم عدد البيضات التي اشترتها الأم؟
- عدد البيضات التي اشترتها الأم هو: حبات بيض.

.....

الوضعية الإدماجية 1:



- عند مريم 8 بالونات ، وعند أخيها بالونين (2).
- ماهو مجموع البالونات معا؟

- مجموع البالونات معا هو: بالونات.

الوضعية الإدماجية 2:



- كان عند كوتر 6 حبات حلوى ، أعطتها أختها حبة واحدة (1).

- كم أصبح عند كوتر من حبة حلوى ؟

- أصبح عند كوتر: حبات حلوى.

الوضعية الإدماجية 3:



- اشتريت أم مريم 4 حبات بيض صباحا و 6 حبات في المساء.

- كم عدد البيضات التي اشتريتها الأم؟

- عدد البيضات التي اشتريتها الأم هو: حبات بيض.

الوضعية الإدماجية 1:



- عند مريم 8 بالونات ، وعند أخيها بالونين (2).
- ماهو مجموع البالونات معا؟

- مجموع البالونات معا هو: بالونات.

الوضعية الإدماجية 2:



- كان عند كوتر 6 حبات حلوى ، أعطتها أختها حبة واحدة (1).

- كم أصبح عند كوتر من حبة حلوى ؟

- أصبح عند كوتر: حبات حلوى.

الوضعية الإدماجية 3:



- اشتريت أم مريم 4 حبات بيض صباحا و 6 حبات في المساء.

- كم عدد البيضات التي اشتريتها الأم؟

- عدد البيضات التي اشتريتها الأم هو: حبات بيض.

الوضعية الإدماجية 1:



- عند مريم 8 بالونات ، وعند أخيها بالونين (2).
- ماهو مجموع البالونات معا؟

- مجموع البالونات معا هو: بالونات.

الوضعية الإدماجية 2:



- كان عند كوتر 6 حبات حلوى ، أعطتها أختها حبة واحدة (1).

- كم أصبح عند كوتر من حبة حلوى ؟

- أصبح عند كوتر: حبات حلوى.

الوضعية الإدماجية 3:



- اشتريت أم مريم 4 حبات بيض صباحا و 6 حبات في المساء.

- كم عدد البيضات التي اشتريتها الأم؟

- عدد البيضات التي اشتريتها الأم هو: حبات بيض.

الوضعية الإدماجية 1:



- عند مريم 8 بالونات ، وعند أخيها بالونين (2).
- ماهو مجموع البالونات معا؟

- مجموع البالونات معا هو: بالونات.

الوضعية الإدماجية 2:



- كان عند كوتر 6 حبات حلوى ، أعطتها أختها حبة واحدة (1).

- كم أصبح عند كوتر من حبة حلوى ؟

- أصبح عند كوتر: حبات حلوى.

الوضعية الإدماجية 3:



- اشتريت أم مريم 4 حبات بيض صباحا و 6 حبات في المساء.

- كم عدد البيضات التي اشتريتها الأم؟

- عدد البيضات التي اشتريتها الأم هو: حبات بيض.



المعلمة
نقاز خلدیجة

الأسئلة الأولى 1 وضعیات جمع أو طرح



الوضعية الإدماجية 1:

- كان عند أمين 5 كرات، لعب مع صديقته ففُسرَ كرتين 2 .
- كم بقي عند أمين من كرة؟
- بقي عند أمين :..... كرة.

.....

الوضعية الإدماجية 2:



- عند عماد 8 حبات تفاح ، وزع على أصدقائه 4 حبات .
- كم بقي عند عماد من حبة تفاح ؟
- بقي عند عماد حبات تفاح .

.....

نقاز خلدیجة



- اشترى أحمد 9 حبات بيض،
- تكسرت له 3 .
- كم عدد حبات البيض المتبقية ؟
- عدد حبات البيض المتبقية هو :.....

.....

الوضعية الإدماجية 3:



المعلمة
نقاز خلدیجة

الأسئلة الأولى 1 وضعیات جمع أو طرح



الوضعية الإدماجية 1:

- كان عند أمين 5 كرات، لعب مع صديقته ففُسرَ كرتين 2 .
- كم بقي عند أمين من كرة؟
- بقي عند أمين :..... كرة.

.....

الوضعية الإدماجية 2:



- عند عماد 8 حبات تفاح ، وزع على أصدقائه 4 حبات .
- كم بقي عند عماد من حبة تفاح ؟
- بقي عند عماد حبات تفاح .

.....

نقاز خلدیجة




- اشترى أحمد 9 حبات بيض،
- تكسرت له 3 .
- كم عدد حبات البيض المتبقية ؟
- عدد حبات البيض المتبقية هو :.....

.....

الوضعية الإدماجية 3:



- الوضعية الإدماجية 1:**
- كان عند أمين 5 كرات، لعب مع صديقه فحسّر كرتين 2 .
 - كم بقي عند أمين من كرة؟
 - بقي عند أمين :..... كرة.




- الوضعية الإدماجية 2:**
- عند عماد 8 حبات تفاح ، وزّع على أصدقائه 4 حبات .
 - كم بقي عند عماد من حبة تفاح ؟
 - بقي عند عماد حبات تفاح.



- الوضعية الإدماجية 3:**
- اشترى أحمد 9 حبات بيض، تكسرت له 3 .
 - كم عدد حبات البيض المتبقية ؟
 - عدد حبات البيض المتبقية هو :.....



- الوضعية الإدماجية 1:**
- كان عند أمين 5 كرات، لعب مع صديقه فحسّر كرتين 2 .
 - كم بقي عند أمين من كرة؟
 - بقي عند أمين :..... كرة.



- الوضعية الإدماجية 2:**
- عند عماد 8 حبات تفاح ، وزّع على أصدقائه 4 حبات .
 - كم بقي عند عماد من حبة تفاح ؟
 - بقي عند عماد حبات تفاح.



- الوضعية الإدماجية 3:**
- اشترى أحمد 9 حبات بيض، تكسرت له 3 .
 - كم عدد حبات البيض المتبقية ؟
 - عدد حبات البيض المتبقية هو :.....



- الوضعية الإدماجية 1:**
- كان عند أمين 5 كرات، لعب مع صديقه فحسّر كرتين 2 .
 - كم بقي عند أمين من كرة؟
 - بقي عند أمين :..... كرة.



- الوضعية الإدماجية 2:**
- عند عماد 8 حبات تفاح ، وزّع على أصدقائه 4 حبات .
 - كم بقي عند عماد من حبة تفاح ؟
 - بقي عند عماد حبات تفاح.



- الوضعية الإدماجية 3:**
- اشترى أحمد 9 حبات بيض، تكسرت له 3 .
 - كم عدد حبات البيض المتبقية ؟
 - عدد حبات البيض المتبقية هو :.....



- الوضعية الإدماجية 1:**
- كان عند أمين 5 كرات، لعب مع صديقه فحسّر كرتين 2 .
 - كم بقي عند أمين من كرة؟
 - بقي عند أمين :..... كرة.



- الوضعية الإدماجية 2:**
- عند عماد 8 حبات تفاح ، وزّع على أصدقائه 4 حبات .
 - كم بقي عند عماد من حبة تفاح ؟
 - بقي عند عماد حبات تفاح.



- الوضعية الإدماجية 3:**
- اشترى أحمد 9 حبات بيض، تكسرت له 3 .
 - كم عدد حبات البيض المتبقية ؟
 - عدد حبات البيض المتبقية هو :.....