

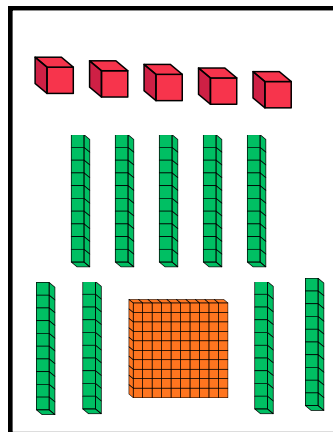
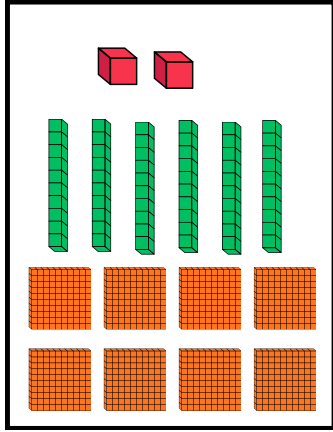


1 أَلَوْنُ الْبِطَاقَاتِ الَّتِي لَهَا نَفْسُ الْعَدَدِ بِنَفْسِ اللَّوْنِ .

200+70+2	أَرْبَعُ مِئَةٍ وَخَمْسَةٌ	0 و 9 ع 9 م	731
تِسْعُ مِئَةٍ وَتِسْعُونَ	700+30+1	2 و 7 ع 2 م	405
1 و 3 ع 7 م	990	400+5	مِئَتَانِ وَاثْنَانِ وَ سَبْعُونَ
272	5 و 0 ع 4 م	900+90	سَبْعُ مِئَةٍ وَوَاحِدٌ وَثَلَاثُونَ

2 أَلَوْنُ الْوَحَدَاتِ وَالْأَعْمَدَةِ وَالصَّفَائِحِ الَّتِي تُمَثِّلُ الْعَدَدَ .



595

453

4 أَكْتُبُ الْعَدَدَ الْمُنَاسِبَ .

- الْعَدَدُ الَّذِي رَقْمٌ وَحْدَاتِهِ 6 وَ رَقْمٌ عَشْرَاتِهِ 7 وَ رَقْمٌ مِائَاتِهِ 1 هُوَ :

- الْعَدَدُ الَّذِي رَقْمٌ وَحْدَاتِهِ 9 وَ رَقْمٌ عَشْرَاتِهِ 2 وَ رَقْمٌ مِائَاتِهِ 7 هُوَ :

- الْعَدَدُ الَّذِي رَقْمٌ وَحْدَاتِهِ 1 وَ رَقْمٌ مِائَاتِهِ 9 هُوَ :

- الْعَدَدُ الَّذِي رَقْمٌ عَشْرَاتِهِ 7 وَ رَقْمٌ مِائَاتِهِ 4 هُوَ :

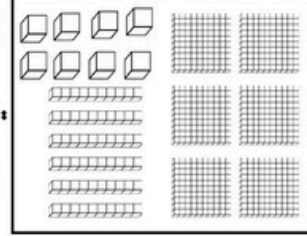
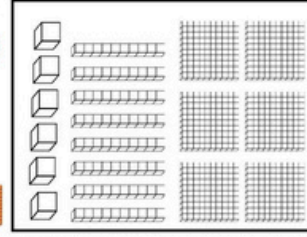
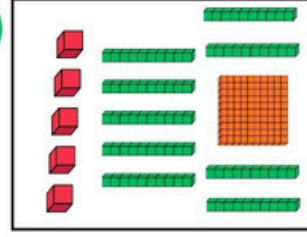
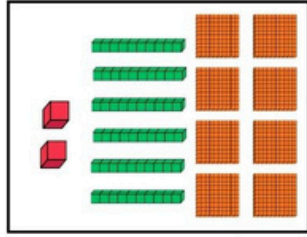
- الْعَدَدُ الَّذِي رَقْمٌ وَحْدَاتِهِ 4 وَ رَقْمٌ عَشْرَاتِهِ 5 وَ رَقْمٌ مِائَاتِهِ ضِعْفُ رَقْمِ وَحْدَاتِهِ هُوَ :

1 ألَوْنُ البطاقات التي لها نفس العدد بنفس اللون.

200+70+2	أربع مئة وخمسة	0 و 9 ع 9 م	731
تسعين مئة وتسعون	700+30+1	2 و 7 ع 2 م	405
1 و 3 ع 7 م	990	400+5	مِئتان واثني وسبعون
272	5 و 0 ع 4 م	900+90	سبع مئة واحد وثلاثون

2 ألَوْنُ الوحدات والأعمدة والصفائح التي تمثل العدد. 

3 اكتب العدد الممثل في كل حالة.



595


453

4 اكتب العدد المناسب.

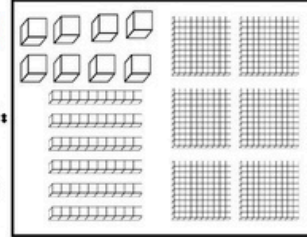
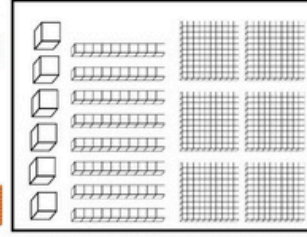
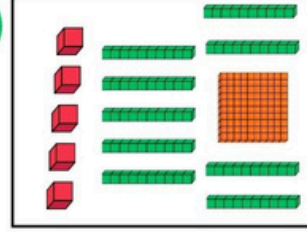
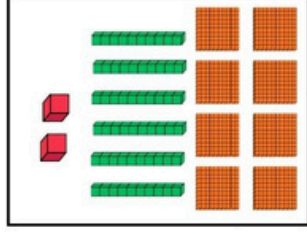
- العدد الذي رقم وحداته 6 ورقم عشراته 7 ورقم مئاته 1 هو:
- العدد الذي رقم وحداته 9 ورقم عشراته 2 ورقم مئاته 7 هو:
- العدد الذي رقم وحداته 1 ورقم مئاته 9 هو:
- العدد الذي رقم عشراته 7 ورقم مئاته 4 هو:
- العدد الذي رقم وحداته 4 ورقم عشراته 5 ورقم مئاته ضعيف رقم وحداته هو:

1 ألَوْنُ البطاقات التي لها نفس العدد بنفس اللون.

200+70+2	أربع مئة وخمسة	0 و 9 ع 9 م	731
تسعين مئة وتسعون	700+30+1	2 و 7 ع 2 م	405
1 و 3 ع 7 م	990	400+5	مِئتان واثني وسبعون
272	5 و 0 ع 4 م	900+90	سبع مئة واحد وثلاثون

2 ألَوْنُ الوحدات والأعمدة والصفائح التي تمثل العدد. 

3 اكتب العدد الممثل في كل حالة.



595

453

4 اكتب العدد المناسب.

- العدد الذي رقم وحداته 6 ورقم عشراته 7 ورقم مئاته 1 هو:
- العدد الذي رقم وحداته 9 ورقم عشراته 2 ورقم مئاته 7 هو:
- العدد الذي رقم وحداته 1 ورقم مئاته 9 هو:
- العدد الذي رقم عشراته 7 ورقم مئاته 4 هو:
- العدد الذي رقم وحداته 4 ورقم عشراته 5 ورقم مئاته ضعيف رقم وحداته هو: