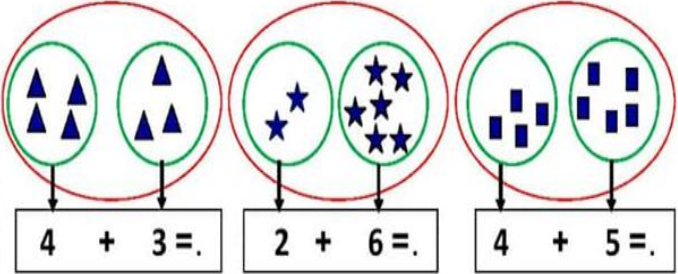
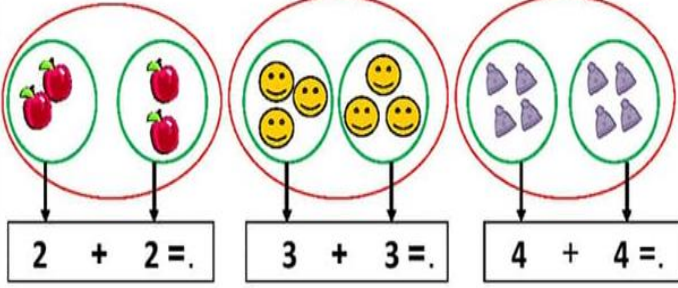
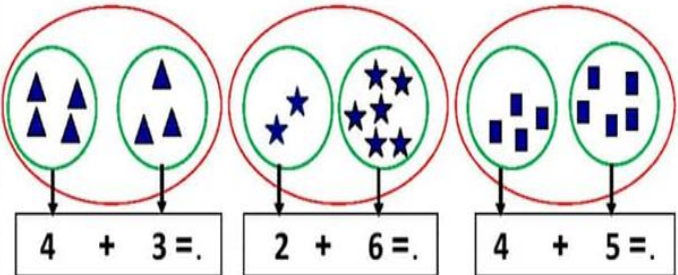
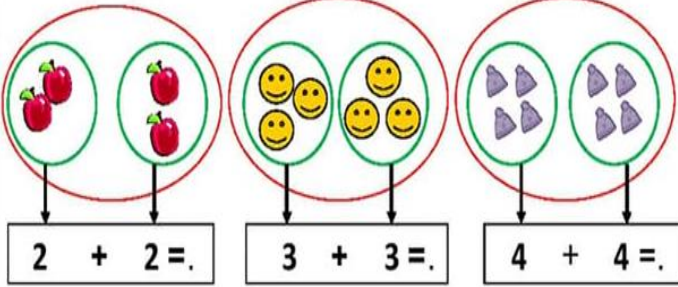


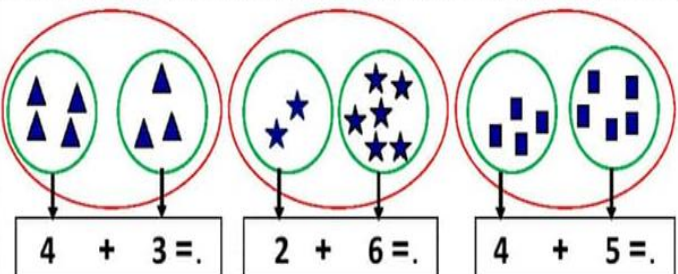
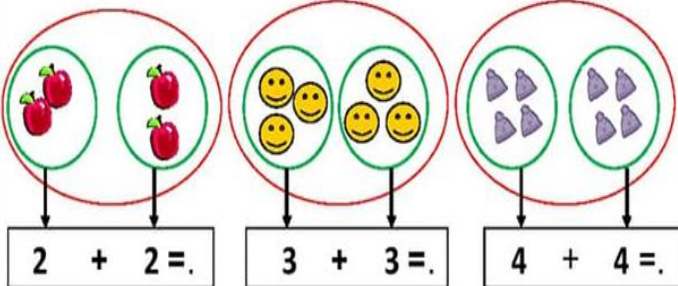
أعدّ ثم أكتب العدد المناسب.



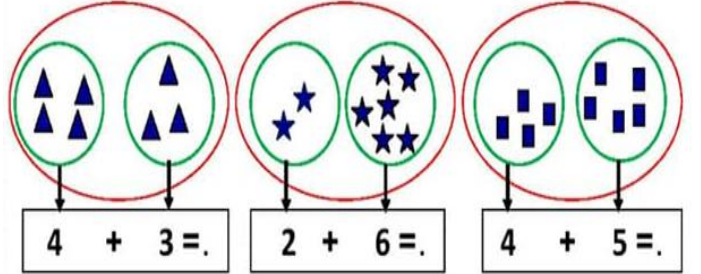
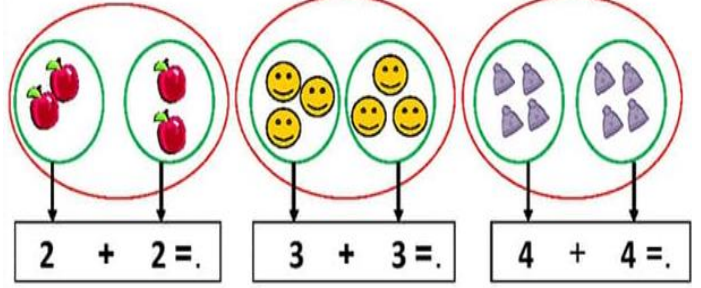
أعدّ ثم أكتب العدد المناسب.



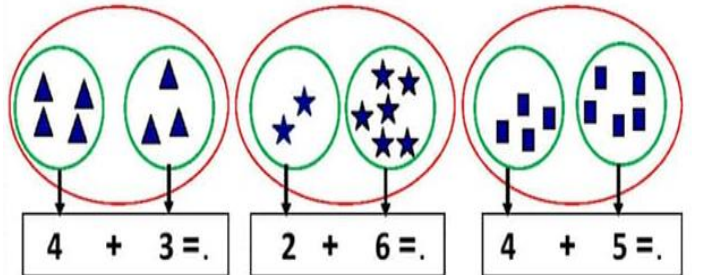
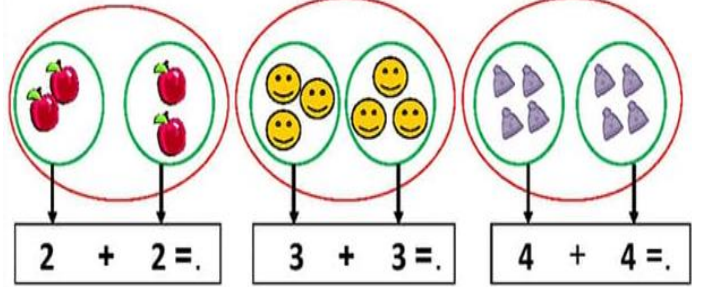
أعدّ ثم أكتب العدد المناسب.



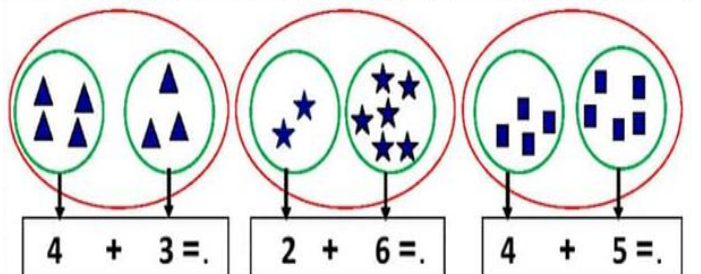
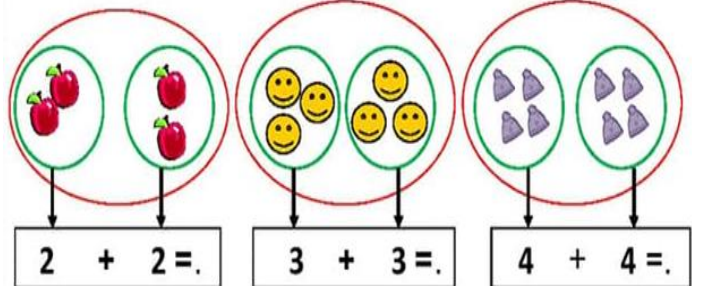
أعدّ ثم أكتب العدد المناسب.





أعدّ ثم أكتب العدد المناسب.




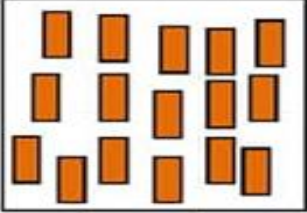
أعدّ ثم أكتب العدد المناسب.



اكتب العدد المناسب أو اكمل الرسم.





13


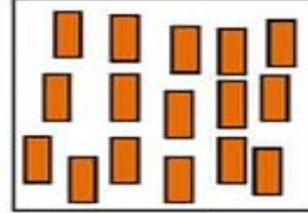


17

اكتب العدد المناسب أو اكمل الرسم.





13

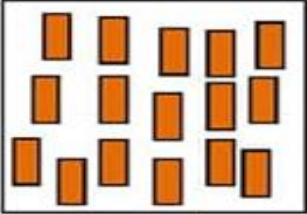


17

اكتب العدد المناسب أو اكمل الرسم.





13


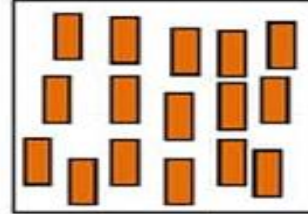


17

اكتب العدد المناسب أو اكمل الرسم.





13


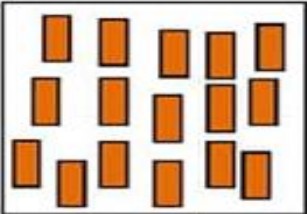


17

اكتب العدد المناسب أو اكمل الرسم.





13


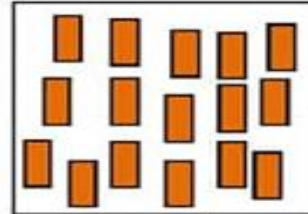


17

اكتب العدد المناسب أو اكمل الرسم.




13





17

- اكتب الأعداد المناسبة .




$$\square + \square = \square$$





$$\square + \square = \square$$

- اكتب الأعداد المناسبة .



$$\square + \square = \square$$





$$\square + \square = \square$$

- اكتب الأعداد المناسبة .



$$\square + \square = \square$$






$$\square + \square = \square$$

- اكتب الأعداد المناسبة .



$$\square + \square = \square$$





$$\square + \square = \square$$

- اكتب الأعداد المناسبة .



$$\square + \square = \square$$






$$\square + \square = \square$$

- اكتب الأعداد المناسبة .

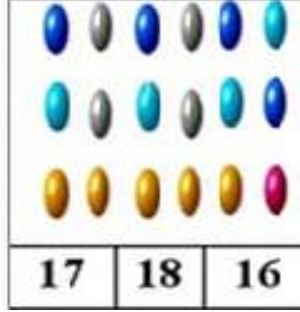
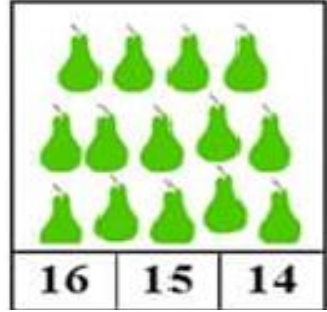
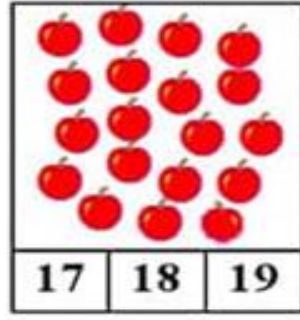



$$\square + \square = \square$$

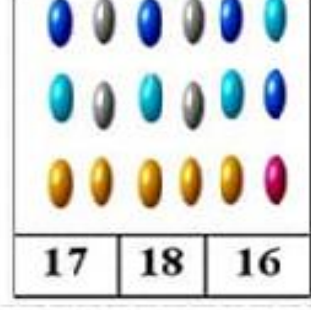
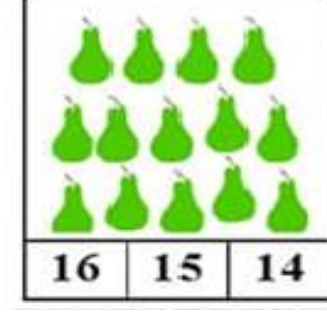




$$\square + \square = \square$$

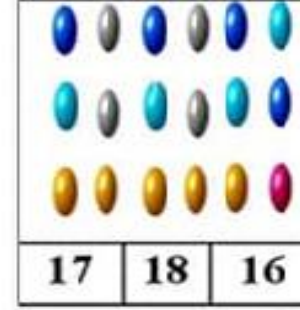
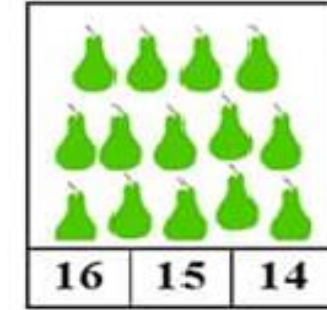
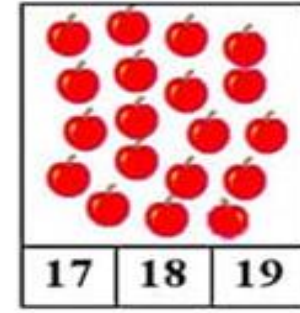

ألون بطاقة العدد المناسب :



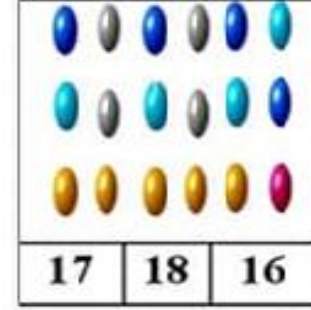
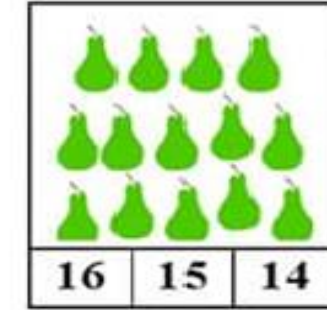
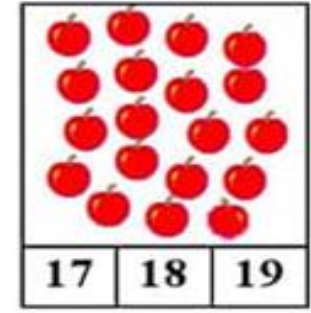

ألون بطاقة العدد المناسب :



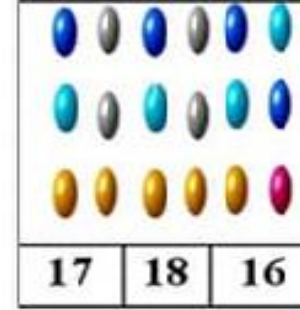
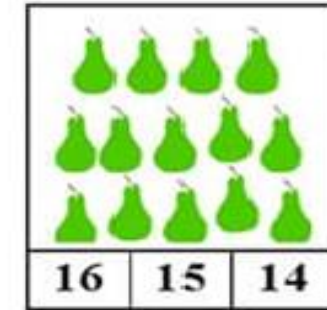
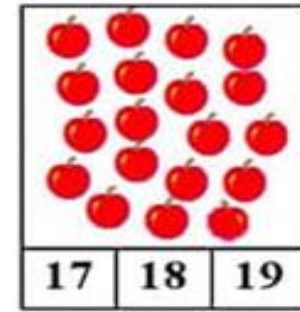

ألون بطاقة العدد المناسب :



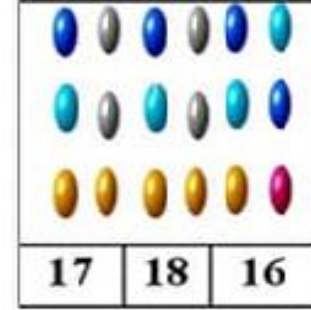
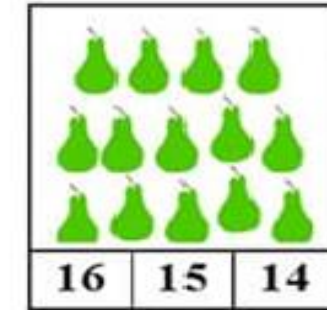
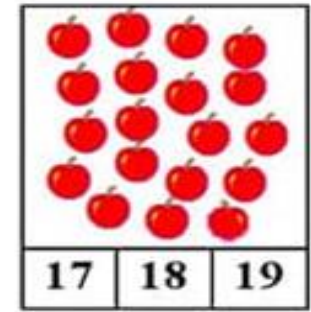

ألون بطاقة العدد المناسب :



ألون بطاقة العدد المناسب :




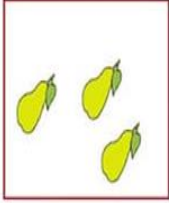

ألون بطاقة العدد المناسب :



- أكتب الأعداد المناسبة .



$$\square + \square = \square$$






$$\square + \square = \square$$

- أكتب الأعداد المناسبة .




$$\square + \square = \square$$


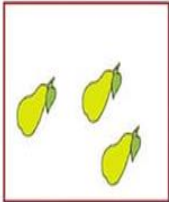



$$\square + \square = \square$$

- أكتب الأعداد المناسبة .



$$\square + \square = \square$$






$$\square + \square = \square$$

- أكتب الأعداد المناسبة .




$$\square + \square = \square$$

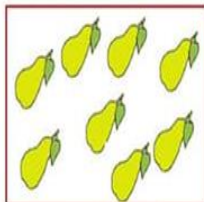




$$\square + \square = \square$$

- أكتب الأعداد المناسبة .



$$\square + \square = \square$$

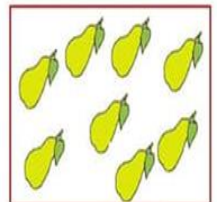




$$\square + \square = \square$$

- أكتب الأعداد المناسبة .

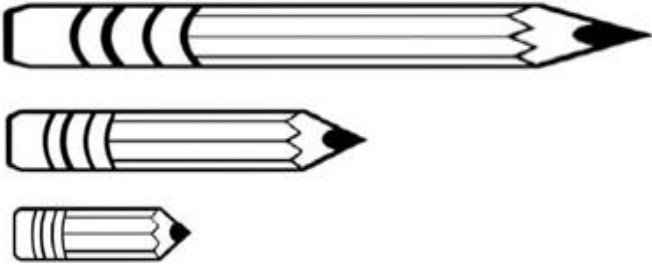


$$\square + \square = \square$$

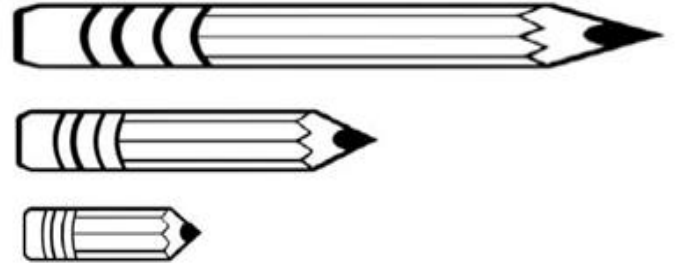


$$\square + \square = \square$$

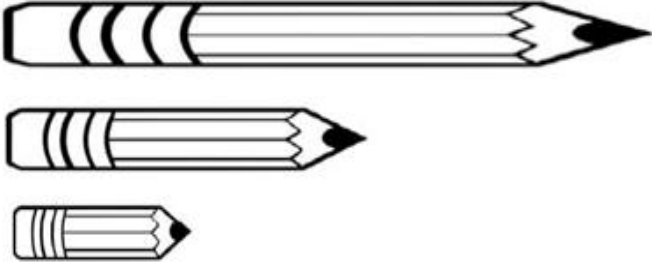
• لَوْنُ الْقَلَمِ الْأَطْوَلِ بِالْأَخْضَرِ وَالْأَقْصَرَ بِالْأَحْمَرِ:



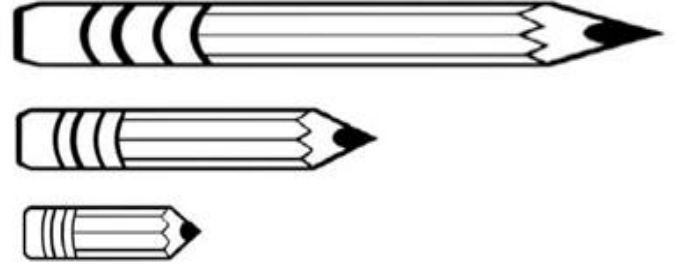
• لَوْنُ الْقَلَمِ الْأَطْوَلِ بِالْأَخْضَرِ وَالْأَقْصَرَ بِالْأَحْمَرِ:



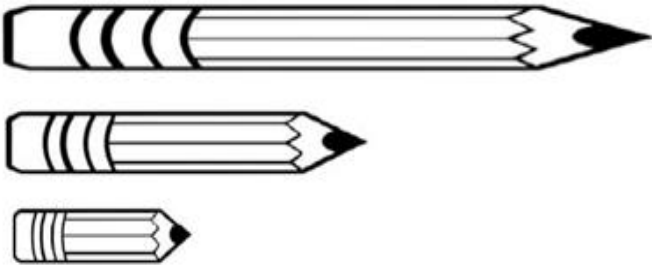
• لَوْنُ الْقَلَمِ الْأَطْوَلِ بِالْأَخْضَرِ وَالْأَقْصَرَ بِالْأَحْمَرِ:



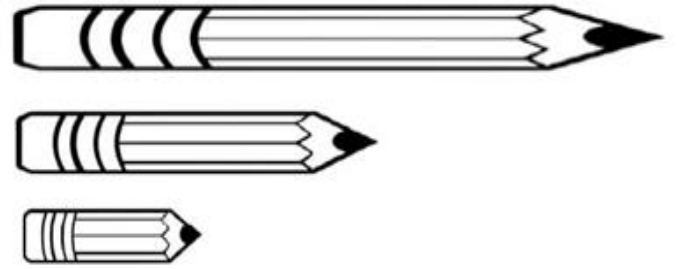
• لَوْنُ الْقَلَمِ الْأَطْوَلِ بِالْأَخْضَرِ وَالْأَقْصَرَ بِالْأَحْمَرِ:



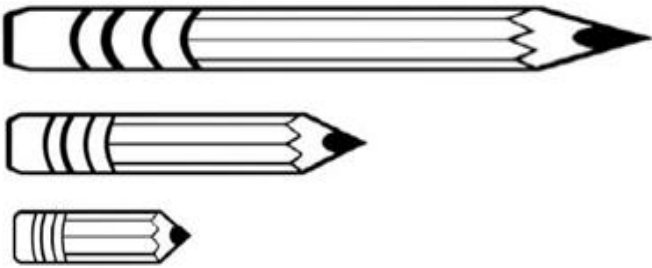
• لَوْنُ الْقَلَمِ الْأَطْوَلِ بِالْأَخْضَرِ وَالْأَقْصَرَ بِالْأَحْمَرِ:



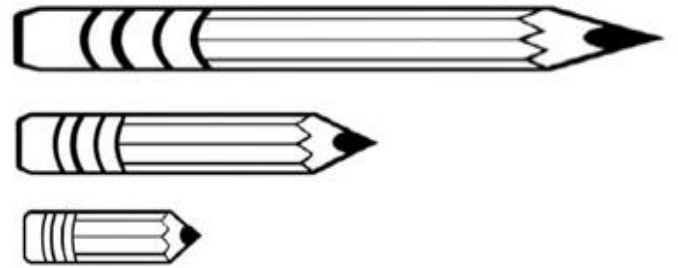
• لَوْنُ الْقَلَمِ الْأَطْوَلِ بِالْأَخْضَرِ وَالْأَقْصَرَ بِالْأَحْمَرِ:



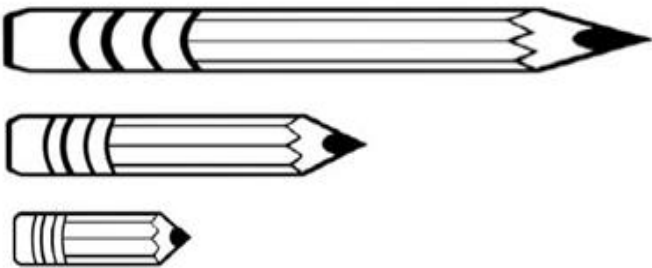
• لَوْنُ الْقَلَمِ الْأَطْوَلِ بِالْأَخْضَرِ وَالْأَقْصَرَ بِالْأَحْمَرِ:



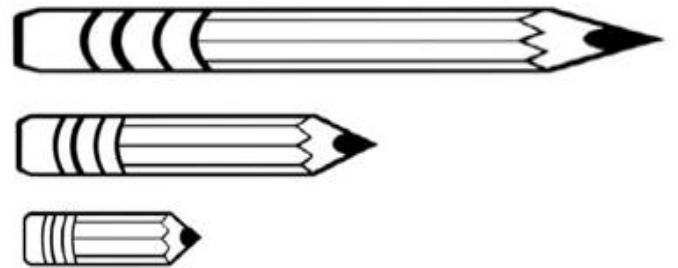
• لَوْنُ الْقَلَمِ الْأَطْوَلِ بِالْأَخْضَرِ وَالْأَقْصَرَ بِالْأَحْمَرِ:



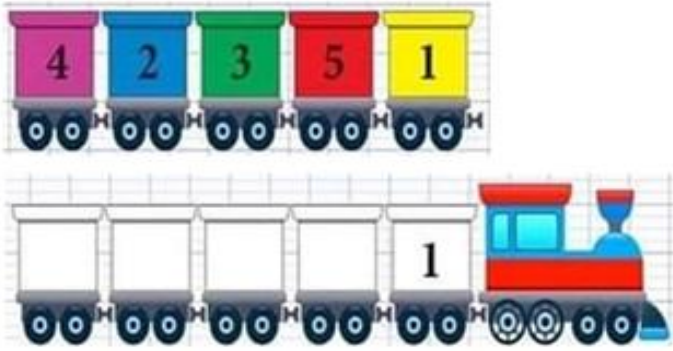
• لَوْنُ الْقَلَمِ الْأَطْوَلِ بِالْأَخْضَرِ وَالْأَقْصَرَ بِالْأَحْمَرِ:



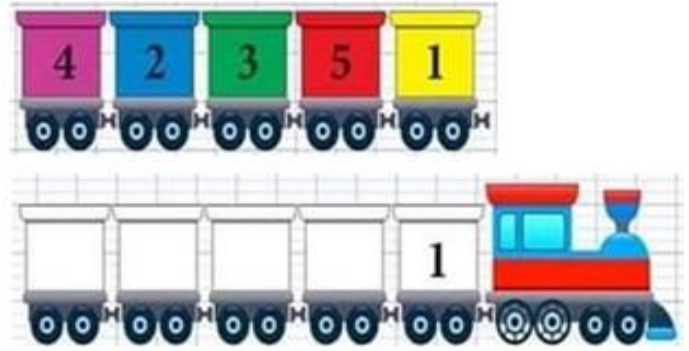
• لَوْنُ الْقَلَمِ الْأَطْوَلِ بِالْأَخْضَرِ وَالْأَقْصَرَ بِالْأَحْمَرِ:



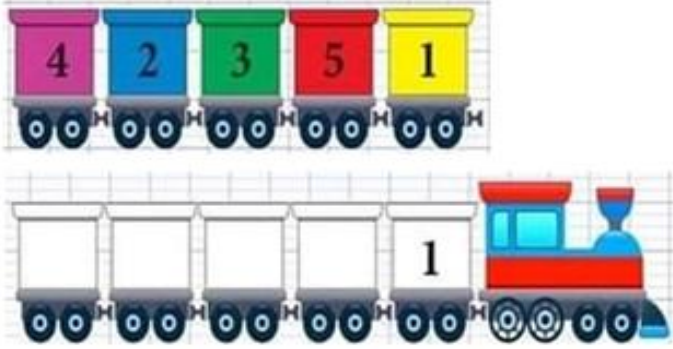
أَلَوْنُ عَرَبَاتِ الْقِطَارِ حَسَبَ لَوْنِ كُلِّ عَرَبَةٍ :



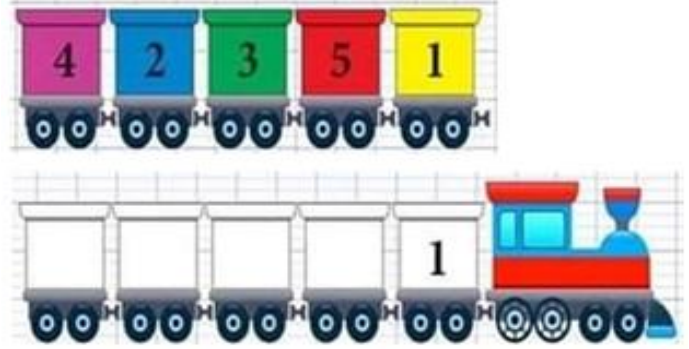
أَلَوْنُ عَرَبَاتِ الْقِطَارِ حَسَبَ لَوْنِ كُلِّ عَرَبَةٍ :



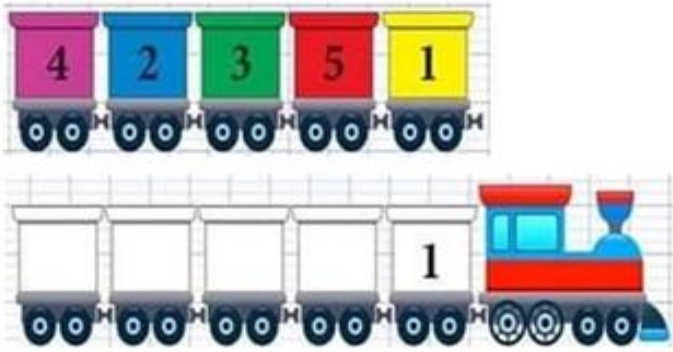
أَلَوْنُ عَرَبَاتِ الْقِطَارِ حَسَبَ لَوْنِ كُلِّ عَرَبَةٍ :



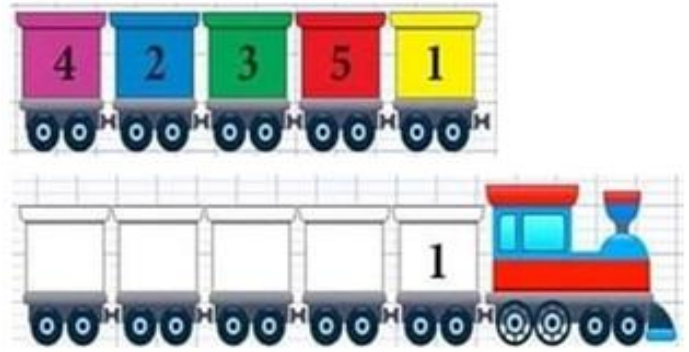
أَلَوْنُ عَرَبَاتِ الْقِطَارِ حَسَبَ لَوْنِ كُلِّ عَرَبَةٍ :



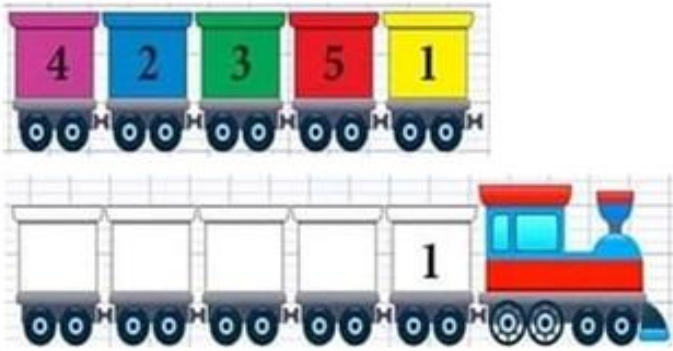
أَلَوْنُ عَرَبَاتِ الْقِطَارِ حَسَبَ لَوْنِ كُلِّ عَرَبَةٍ :



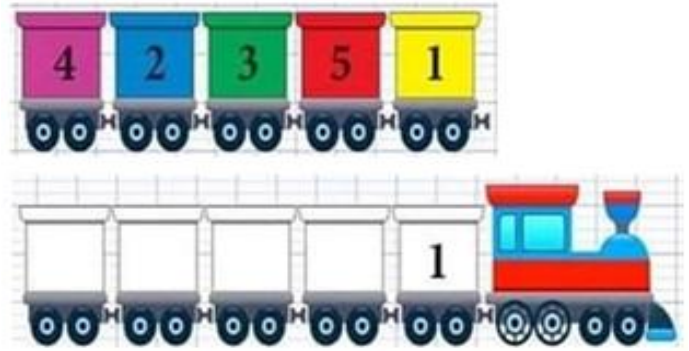
أَلَوْنُ عَرَبَاتِ الْقِطَارِ حَسَبَ لَوْنِ كُلِّ عَرَبَةٍ :



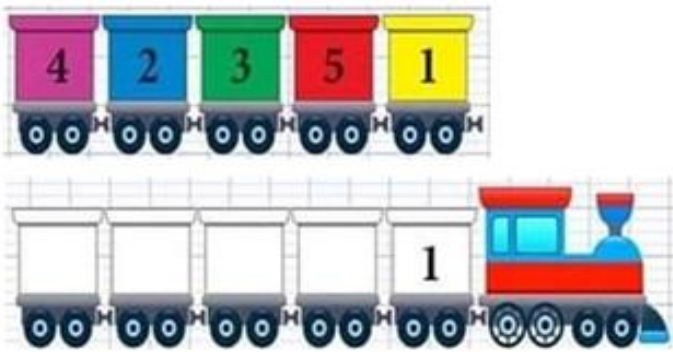
أَلَوْنُ عَرَبَاتِ الْقِطَارِ حَسَبَ لَوْنِ كُلِّ عَرَبَةٍ :



أَلَوْنُ عَرَبَاتِ الْقِطَارِ حَسَبَ لَوْنِ كُلِّ عَرَبَةٍ :



الْوَنُ عَرَبَاتِ الْقِطَارِ حَسَبَ لَوْنِ كُلِّ عَرَبَةٍ :



الْوُنُ عَرَبَاتِ الْقِطَارِ حَسَبَ لَوْنٍ كُلِّ عَرَبَةٍ :

