

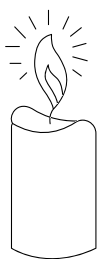
رتّب الأطوال التّالية من الأقصر إلى الأطول. (1 - 2 - 3 - 4 - 5)



رتّب القارورات التّالية من الأطول إلى الأقصر. (1 - 2 - 3 - 4 - 5)



لوّن أقصر شمعة باللون الأصفر ، وأطول شمعة باللون الأزرق.



....



....



....



....



رتّب الأقلام التّالية من أقصر قلم إلى أطول قلم ، معتمداً على التّرتيب التّالي :  
(أ - ب - ج - د)





المعلمة  
نفاذ خديجة

## قياس أطوال

الأسبوع الأولي 1



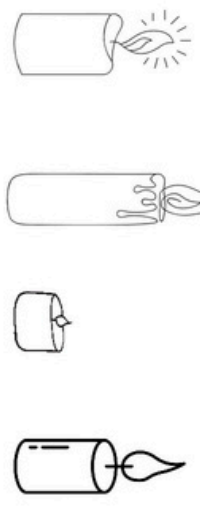
رتِّبِ الأطوال التالية من الأقصر إلى الأطول. (1 - 2 - 3 - 4 - 5)



رتِّبِ القارورات التالية من الأطول إلى الأقصر. (1 - 2 - 3 - 4 - 5)



لون أقصر شمعة باللون الأصفر ، وأطول شمعة باللون الأزرق.



رتِّبِ الأقلام التالية من أقصر قلم إلى أطول قلم ، معتمداً على الترتيب التالي :



نفاذ خديجة



المعلمة  
نفاذ خديجة

## قياس أطوال

الأسبوع الأولي 1



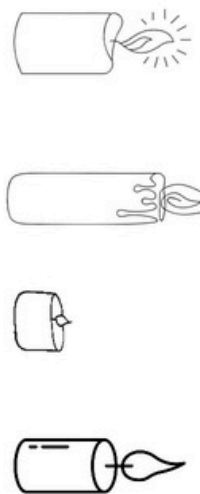
رتِّبِ الأطوال التالية من الأقصر إلى الأطول. (1 - 2 - 3 - 4 - 5)



رتِّبِ القارورات التالية من الأطول إلى الأقصر. (1 - 2 - 3 - 4 - 5)



لون أقصر شمعة باللون الأصفر ، وأطول شمعة باللون الأزرق.



رتِّبِ الأقلام التالية من أقصر قلم إلى أطول قلم ، معتمداً على الترتيب التالي :



نفاذ خديجة



المعلّمة  
نقاز خديجة

## قياس أطوال

السنة الأولى 1



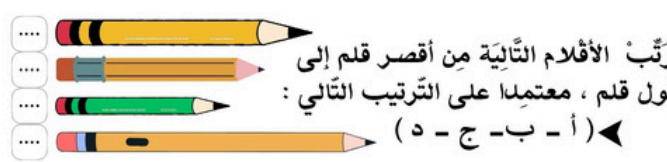
رتّب الأطوال التالية من الأقصر إلى الأطول. (1 - 2 - 3 - 4 - 5)



رتّب القارورات التالية من الأطول إلى الأقصر. (1 - 2 - 3 - 4 - 5)



لون أقصر شمعة باللون الأصفر ، وأطول شمعة باللون الأزرق.



نقاز خديجة



المعلّمة  
نقاز خديجة

## قياس أطوال

السنة الأولى 1



رتّب الأطوال التالية من الأقصر إلى الأطول. (1 - 2 - 3 - 4 - 5)



رتّب القارورات التالية من الأطول إلى الأقصر. (1 - 2 - 3 - 4 - 5)



لون أقصر شمعة باللون الأصفر ، وأطول شمعة باللون الأزرق.



نقاز خديجة




المعلّمة  
نقاز خديجة

## قياس أطوال

السنة الأولى 1



رتّب الأطوال التالية من الأقصر إلى الأطول. (1 - 2 - 3 - 4 - 5)



رتّب القارورات التالية من الأطول إلى الأقصر. (1 - 2 - 3 - 4 - 5)



لون أقصر شمعة باللون الأصفر ، وأطول شمعة باللون الأزرق.



نقاز خديجة



المعلّمة  
نقاز خديجة

## قياس أطوال

السنة الأولى 1



رتّب الأطوال التالية من الأقصر إلى الأطول. (1 - 2 - 3 - 4 - 5)



رتّب القارورات التالية من الأطول إلى الأقصر. (1 - 2 - 3 - 4 - 5)



لون أقصر شمعة باللون الأصفر ، وأطول شمعة باللون الأزرق.



نقاز خديجة

