











التمرين 01  
أكمل تشفير موقع كل فاكهة على المَرْصُوفَةِ

هـ						
د						
ج						
ب						
أ						
	1	2	3	4	5	6

التَّشْفِيرُ	الفاكهة
( أ ، 5 )	
( ، )	
( ، )	
( ، )	
( ، )	

## لَوْنٌ وَسِيْمٌ طَرِيقَ الذَّهَابِ إِلَى الْمَدْرَسَةِ

## التمرين 02

• مثله بالأسهم :



• اكتب تشفير كل خطوة من هذا المسلك :



هـ						
د						
ج						
ب						
أ						
	1	2	3	4	5	6



( هـ ، 1 ) ( ، ) ( ، ) ( ، )

( ، ) ( ، ) ( ، ) ( ، )

( ، ) ( ، )