



لاحظ ثم لوّن الإجابة الصحيحة .



نَعَمْ	لَا
نَعَمْ	لَا
نَعَمْ	لَا
نَعَمْ	لَا

- أَمِينٌ خَلْفَ الشَّجَرَةِ.

- الْفَرَّاشَةُ تَحْتَ الشَّجَرَةِ.

- الْكَلْبُ عَلَى يَسَارِ الشَّجَرَةِ.

- الْأُرْنَبُ عَلَى يَمِينِ الشَّجَرَةِ.



ألاحظ وألوّن:

- لوّن السَّيَّارَةَ الَّتِي عَلَى يَمِينِ الشَّرْطِيِّ بِاللَّوْنِ الْأَخْضَرِ.

- لوّن السَّيَّارَةَ الَّتِي عَلَى يَسَارِ الشَّرْطِيِّ بِاللَّوْنِ الْبَرْتَقَالِيِّ.

- ضَعْ دَائِرَةً حَوْلَ السَّيَّارَةِ الَّتِي خَلْفَ الشَّرْطِيِّ.



ألاحظ وأجيب:

الحيوان	الأعداد
الغصافير
الخروف
الحصان





المعلمة
نفاذ خديجة

تعيين موقع في الفضاء


الاستة الأولى 1



لاحظ ثم لوّن الإجابة الصحيحة .

لا	نعم
لا	نعم
لا	نعم


- أمين خلف الشجرة.
- القراشة تحت الشجرة.
- الكلب على يسار الشجرة.
- الأرنب على يمين الشجرة.



ألاحظ وألوّن:



- لوّن السيارة التي على يمين الشرطي باللون الأخضر.
- لوّن السيارة التي على يسار الشرطي باللون البرتقالي.
- ضع دائرة حول السيارة التي خلف الشرطي .



ألاحظ وأجيب:



الحيوان	الأعداد
العصافير
الخروف
الأحصان



نفاذ خديجة



المعلمة
نفاذ خديجة

تعيين موقع في الفضاء

الاستة الأولى 1



لاحظ ثم لوّن الإجابة الصحيحة .

لا	نعم
لا	نعم
لا	نعم


- أمين خلف الشجرة.
- القراشة تحت الشجرة.
- الكلب على يسار الشجرة.
- الأرنب على يمين الشجرة.



ألاحظ وألوّن:



- لوّن السيارة التي على يمين الشرطي باللون الأخضر.
- لوّن السيارة التي على يسار الشرطي باللون البرتقالي.
- ضع دائرة حول السيارة التي خلف الشرطي .



ألاحظ وأجيب:



الحيوان	الأعداد
العصافير
الخروف
الأحصان



نفاذ خديجة




المعلمة
نقاز خديجة

السنة الأولى 1
تعيين موقع في الفضاء



لاحظ ثم تون الإجابة الصحيحة .



نعم	لا
نعم	لا
نعم	لا
نعم	لا

- أمين خلف الشجرة .
- الفراشة تحت الشجرة .
- الكلب على يسار الشجرة .
- الأرنب على يمين الشجرة .

الاحظ وألون:

- لون السيارة التي على يمين الشرطي باللون الأخضر .
- لون السيارة التي على يسار الشرطي باللون البرتقالي .
- ضع دائرة حول السيارة التي خلف الشرطي .

الاحظ وأجيب:

الحيوان	العدد
الغصافير
الخروف
الحصان

نقاز خديجة




المعلمة
نقاز خديجة

السنة الأولى 1
تعيين موقع في الفضاء



لاحظ ثم تون الإجابة الصحيحة .



نعم	لا
نعم	لا
نعم	لا
نعم	لا

- أمين خلف الشجرة .
- الفراشة تحت الشجرة .
- الكلب على يسار الشجرة .
- الأرنب على يمين الشجرة .

الاحظ وألون:

- لون السيارة التي على يمين الشرطي باللون الأخضر .
- لون السيارة التي على يسار الشرطي باللون البرتقالي .
- ضع دائرة حول السيارة التي خلف الشرطي .

الاحظ وأجيب:

الحيوان	العدد
الغصافير
الخروف
الحصان

نقاز خديجة




المعلمة
نقاز خديجة

السنة الأولى 1
تعيين موقع في الفضاء



لاحظ ثم تون الإجابة الصحيحة .



نعم	لا
نعم	لا
نعم	لا
نعم	لا

- أمين خلف الشجرة .
- الفراشة تحت الشجرة .
- الكلب على يسار الشجرة .
- الأرنب على يمين الشجرة .

الاحظ وألون:

- لون السيارة التي على يمين الشرطي باللون الأخضر .
- لون السيارة التي على يسار الشرطي باللون البرتقالي .
- ضع دائرة حول السيارة التي خلف الشرطي .

الاحظ وأجيب:

الحيوان	العدد
الغصافير
الخروف
الحصان

نقاز خديجة




المعلمة
نقاز خديجة

السنة الأولى 1
تعيين موقع في الفضاء



لاحظ ثم تون الإجابة الصحيحة .



نعم	لا
نعم	لا
نعم	لا
نعم	لا

- أمين خلف الشجرة .
- الفراشة تحت الشجرة .
- الكلب على يسار الشجرة .
- الأرنب على يمين الشجرة .

الاحظ وألون:

- لون السيارة التي على يمين الشرطي باللون الأخضر .
- لون السيارة التي على يسار الشرطي باللون البرتقالي .
- ضع دائرة حول السيارة التي خلف الشرطي .

الاحظ وأجيب:

الحيوان	العدد
الغصافير
الخروف
الحصان

نقاز خديجة