






النشاط 1: لَوْنِ السَّلَّةِ الَّتِي تَحْمِلُ أَكْبَرَ قَدْرٍ مِنَ التَّفَاحِ بِاللَّوْنِ الْأَخْضَرِ ، وَالَّتِي تَحْمِلُ أَقَلَّ قَدْرٍ بِاللَّوْنِ الْأَصْفَرِ.



النشاط 2: اسْتَمِعْ وَ اَلَوْنِ الصِّيغَةَ الْمُنَاسِبَةَ : أَقَلِّ مِنْ / أَكْثَرُ مِنْ :



أَكْثَرُ مِنْ
أَقَلِّ مِنْ



أَقَلِّ مِنْ
أَكْثَرُ مِنْ




حَبَّاتِ الْبَرْتَقَالِ

حَبَّاتِ الْإِجَاصِ

حَبَّاتِ التَّفَاحِ

حَبَّاتِ الْبَرْتَقَالِ



النشاط 3: أَلَا حِظْ ثَمَّ أَجِيبْ:



- عَدَدُ الْأَرَانِبِ هُوَ:

- عَدَدُ حَبَّاتِ الْجَزْرِ هُوَ:

- عَدَدُ حَبَّاتِ الْجَزْرِ أَكْثَرُ مِنْ عَدَدِ الْأَرَانِبِ:

لَا

نَعَمْ

- ارْسُمْ حَبَّاتِ الْجَزْرِ النَّاقِصَةِ.




المعلمة
نقار خديجة

الأرقام من 1 إلى 9


الأسئلة الأولى 1



النشاط 1: نَوْنِ المسئلة التي تَحْمِلُ أكبر قَدْرٍ من التفاح
بالنَوْنِ الأخضر ، والتي تَحْمِلُ أقلَّ قَدْرٍ بالنَوْنِ الأصفر.




النشاط 2: أَسْتَمِعُ و أَوْنِ الصيغة المناسبة: أقل من / أكثر من :



حَبَّات البرتقال حَبَّات الإجاص حَبَّات التفاح

النشاط 3: ألاحظ ثم أجيب:



- عدد الأرنيب هو:
- عدد حَبَّات الجزر هو:
- عدد حَبَّات الجزر أكثر من عدد الأرنيب:

نعم لا

- أرسِّم حَبَّات الجزر المتبقية.



نقار خديجة



المعلمة
نقار خديجة

الأرقام من 1 إلى 9


الأسئلة الأولى 1



النشاط 1: نَوْنِ المسئلة التي تَحْمِلُ أكبر قَدْرٍ من التفاح
بالنَوْنِ الأخضر ، والتي تَحْمِلُ أقلَّ قَدْرٍ بالنَوْنِ الأصفر.




النشاط 2: أَسْتَمِعُ و أَوْنِ الصيغة المناسبة: أقل من / أكثر من :



حَبَّات البرتقال حَبَّات الإجاص حَبَّات التفاح

النشاط 3: ألاحظ ثم أجيب:



- عدد الأرنيب هو:
- عدد حَبَّات الجزر هو:
- عدد حَبَّات الجزر أكثر من عدد الأرنيب:

نعم لا

- أرسِّم حَبَّات الجزر المتبقية.



نقار خديجة