

الأستاذة عرفى أمال


الاسم و اللقب:

ورقة عمل
الأعداد من 6 إلى 9


السنة 1 ابتدائي

مدرسة:


النشاط الأول : لون الحلوى بقدر العدد المكتوب




6



8

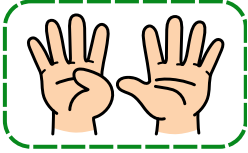


9

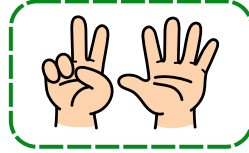


7


النشاط الثاني : أربط كل بطاقة بالعدد المناسب



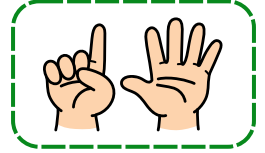
7



9




6




8


النشاط الثالث : أشطب الفواكه الزائدة في كل مجموعة




8



6



9



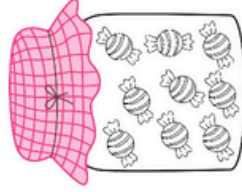
5




7

الأساتذة عرفني أmaal	ورقة عمل الأعداد من 6 إلى 9	السنة 1 ابتدائي
الاسم واللقب:.....	مدرسة:.....	


النشاط الأول : لون الحلوى بقدر العدد المكتوب



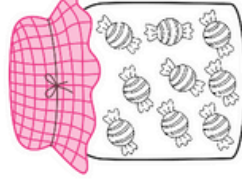
6



8



9



7

النشاط الثاني : أربط كل بطاقة بالعدد المناسب



7



9



6



8


النشاط الثالث : أشطب الفواكه الزائدة في كل مجموعة



8



6



9



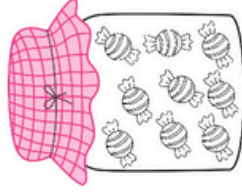
5



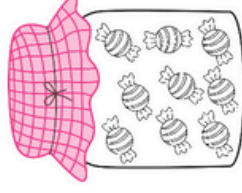
7

الأساتذة عرفني أmaal	ورقة عمل الأعداد من 6 إلى 9	السنة 1 ابتدائي
الاسم واللقب:.....	مدرسة:.....	


النشاط الأول : لون الحلوى بقدر العدد المكتوب




6



8



9



7

النشاط الثاني : أربط كل بطاقة بالعدد المناسب



7



9



6



8


النشاط الثالث : أشطب الفواكه الزائدة في كل مجموعة



8



6



9



5



7

الأستاذة عرقي أمال

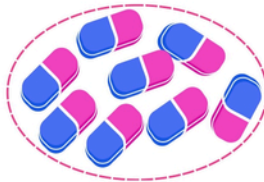
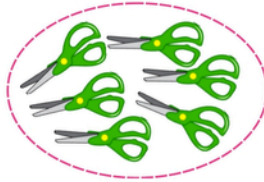
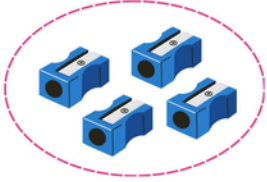
الاسم و اللقب:

ورقة عمل
الأعداد من 1 إلى 9

السنة 1 ابتدائي

مدرسة:

النشاط الأول : أربط كل مجموعة بالعدد المناسب



6

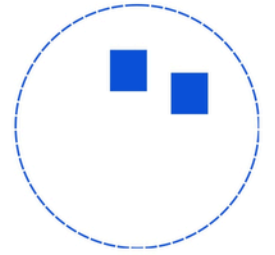
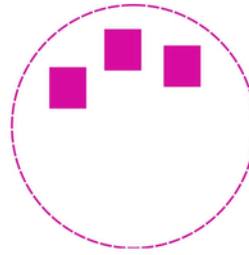

4

7

8

2

النشاط الثاني : أرسم المربعات الناقصة في كل مجموعة



9

3

7

5

النشاط الثالث : أكتب عدد الأشياء أسفل كل غيمة



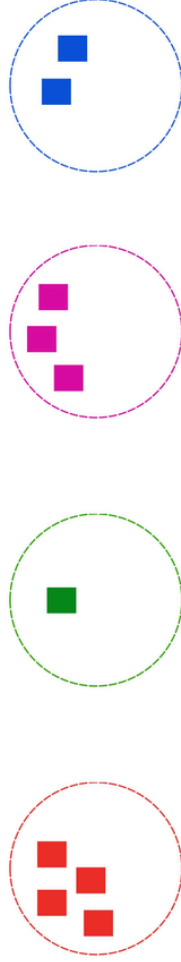
الأساتذة عرفني أmaal	ورقة عمل الأعداد من 1 إلى 9	السنة ابتدائي
الاسم واللقب:.....	ملدرسة:.....	

النشاط الأول: أربط كل مجموعة بالعدد المناسب



6 4 7 8 2

النشاط الثاني: أرسم المربعات الناقصة في كل مجموعة



9 3 7 5

النشاط الثالث: أكتب عدد الأشياء أسفل كل غيمة



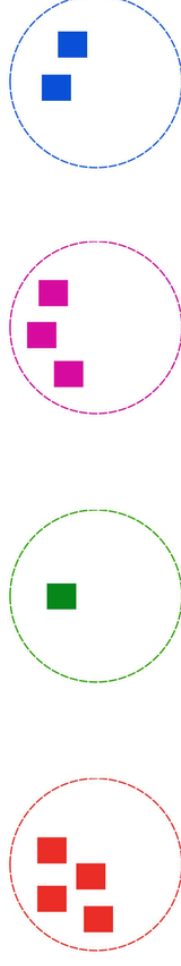
الأساتذة عرفني أmaal	ورقة عمل الأعداد من 1 إلى 9	السنة ابتدائي
الاسم واللقب:.....	ملدرسة:.....	

النشاط الأول: أربط كل مجموعة بالعدد المناسب



6 4 7 8 2

النشاط الثاني: أرسم المربعات الناقصة في كل مجموعة



9 3 7 5

النشاط الثالث: أكتب عدد الأشياء أسفل كل غيمة

