

① صَلِّ بَيْنَ النَّقَاطِ:

— — — — —

— — — — —

— — — — —

— — — — —

② اُكْتُبِ الْأَعْدَادَ التَّالِيَةَ:

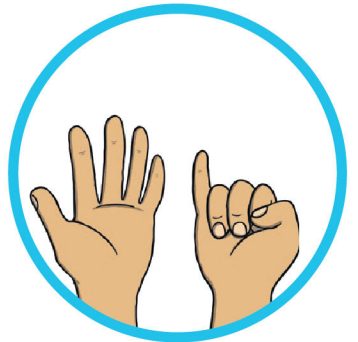
6 6 6 6 6 6 .

7 7 7 7 7 7 .

8 8 8 8 8 8 .

9 9 9 9 9 9 .

③ اِرْبِطْ كُلَّ رَقْمٍ بِعَدَدِ الْأَصَابِعِ الْمُنَاسِبِ:



6

7

8

9

4 أَحْسَبْ عَدَدَ عَنَاصِرِ الْمَجْمُوعَةِ ثُمَّ حَوِّطِ الرَّقْمَ الْمُنَاسِبَ:



6 7 8



9 8 6



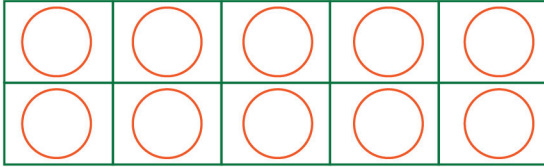
9 7 8



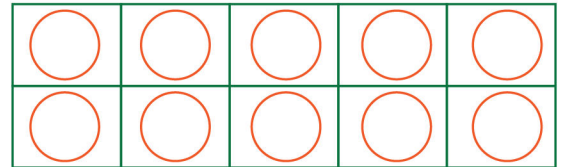
6 9 7

5 لَوِّنْ حَسَبَ الْعَدَدِ الْمَطْلُوبِ:

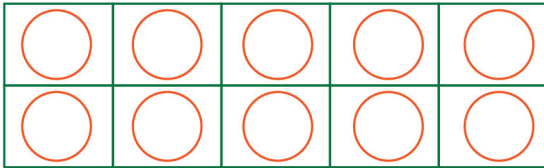
9



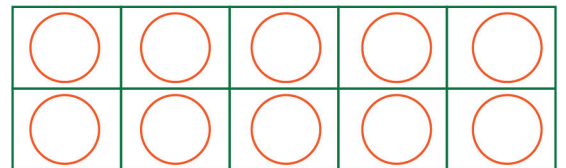
6



7



8



6 أَحْسَبْ ثُمَّ أَكْتُبِ الْعَدَدَ الْمُنَاسِبَ:

