



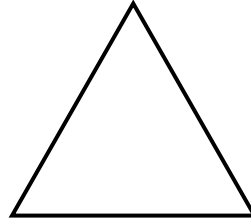





النشاط 1: لون ما يوجد أمام الأرنب بالأصفر ، و ما يوجد وراءه البرتقالي



النشاط 2: لون ما يوجد بين المثلث والدائرة بالأحمر




النشاط 3: ضع علامة X أمام الإجابة الصحيحة



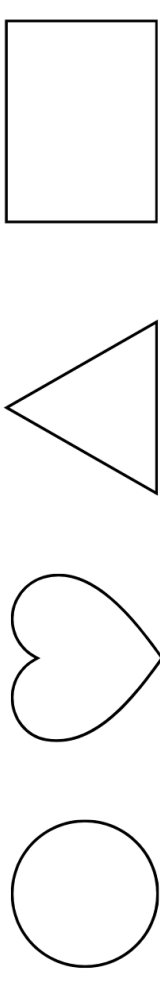
- ☐ • السَّيَّارَةُ مُقَابِلَ الْمَنْزِلِ.
- ☐ • الْكَلْبُ أَمَامَ الشَّجَرَةِ.
- ☐ • الشَّجَرَةُ وَرَاءَ الْمَنْزِلِ.
- ☐ • الْكَلْبُ بِجَانِبِ الْمَنْزِلِ.

السنة 1 ابتدائي	ورقة عمل	الأستاذة عرفى أمال
مدرسة:	تعيين موقع في الفضاء (1)	الاسم واللقب:


النشاط 1: لون ما يوجد أمام الأرنب بالأصفر ، و ما يوجد وراءه البرتقالي



النشاط 2: لون ما يوجد بين المثلث والدائرة بالأحمر




النشاط 3: ضع علامة X أمام الإجابة الصحيحة



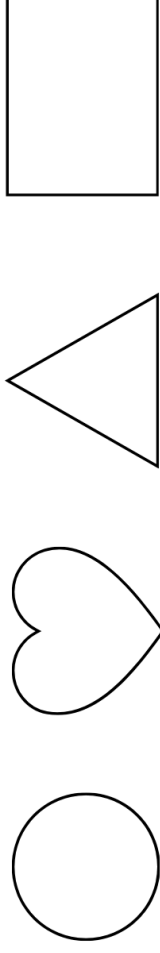
- ☐ السيارة مقابل المنزل.
- ☐ الكلب أمام الشجرة.
- ☐ الشجرة وراء المنزل.
- ☐ الكلب بجانب المنزل.

السنة 1 ابتدائي	ورقة عمل	الأستاذة عرفى أمال
مدرسة:	تعيين موقع في الفضاء (1)	الاسم واللقب:


النشاط 1: لون ما يوجد أمام الأرنب بالأصفر ، و ما يوجد وراءه البرتقالي



النشاط 2: لون ما يوجد بين المثلث والدائرة بالأحمر



النشاط 3: ضع علامة X أمام الإجابة الصحيحة



- ☐ السيارة مقابل المنزل.
- ☐ الكلب أمام الشجرة.
- ☐ الشجرة وراء المنزل.
- ☐ الكلب بجانب المنزل.