

المدرسة: اسم ولقب التلميذ:

الأدوات المدرسية	السعر
	25
	89
	35
	53

الوضعية 01:

بمناسبة الدخول المدرسي، توجهت إلى المكتبة لشراء ما تحتاجه من أدوات مدرسية. لاحظ الجدول الآتي وأكمل:


ما هو ثمن:



.....



.....



.....

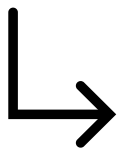


أكتب الأعداد الآتية بالحروف

			35			89
			53			25

أرتب الأعداد من الأصغر إلى الأكبر

35 89 53 25




.....

أحضر كل عدد بين عشرين متاليتين

	89	
	35	








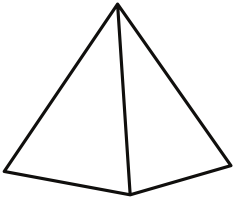
	25	
	53	

بَعْدَ الْعُودَةِ مِنَ الْمَكْتَبَةِ سَأَلَتْ أُمُّكَ عَنِ السَّاعَةِ فَقُلْتُ لَكَ أَنَّهَا السَّاعَةُ الْخَامِسَةُ مَسَاءً.  
لَوْنُ الْإِجَابَةِ الصَّحِيحَةِ



الوضعية 03:

أثناء المراجعة وجدت الأشكال الهندسية الآتية وطلبت منك أمك تسميتها



الوضعية الإدماجية

اشتريت من المكتبة قلمة بـ 53 ديناراً ومقصاص بـ 35 ديناراً.

★ ماهو ثمن المشتريات ؟

العملية

ثمن المشتريات هو :