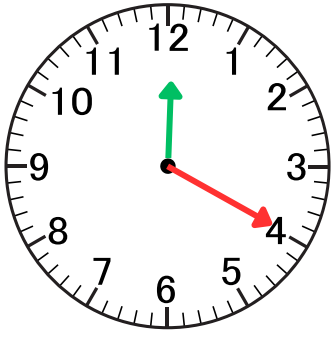
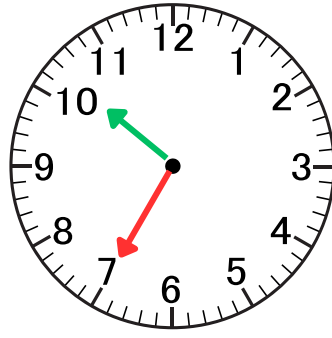


• اكتب التوقيت الذي تشير إليه كل ساعة:



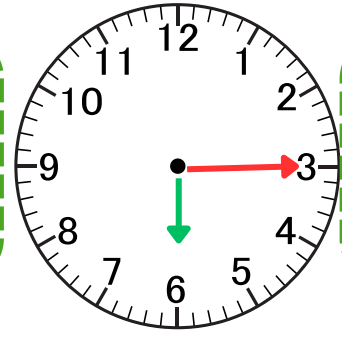
بعد الزوال

⋮



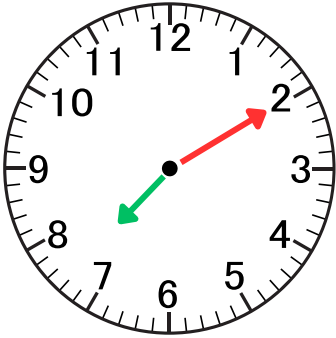
مساء

⋮



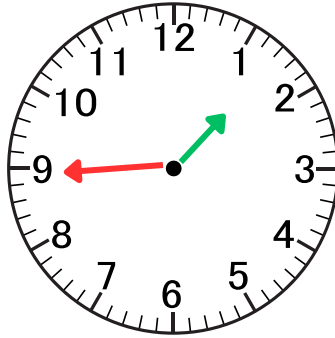
صباحا

⋮



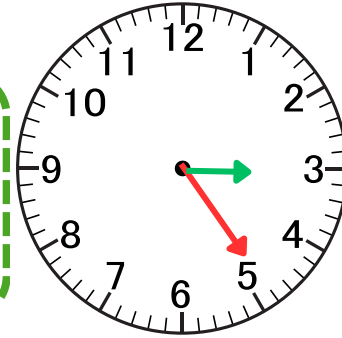
مساء

⋮



صباحا

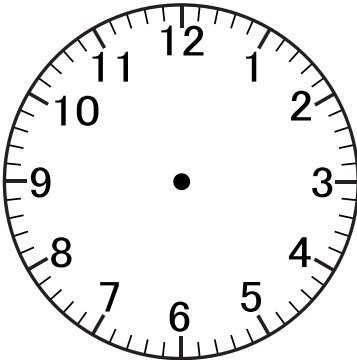
⋮



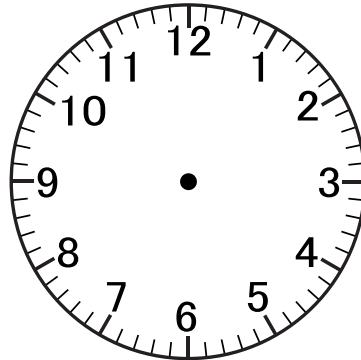
بعد الظهر

⋮

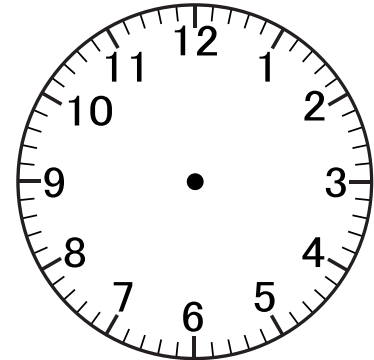
• ارسم عقربي الساعة:



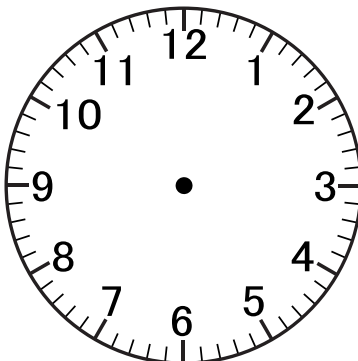
17 : 45



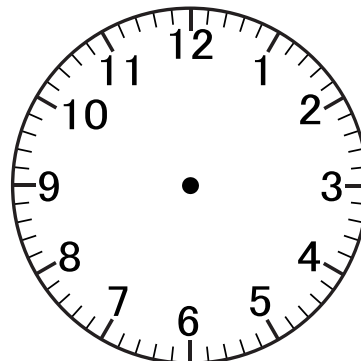
13 : 30



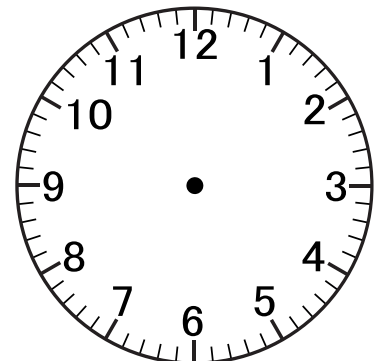
06 : 10



01 : 20

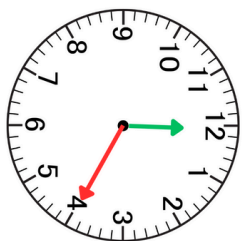


20 : 15

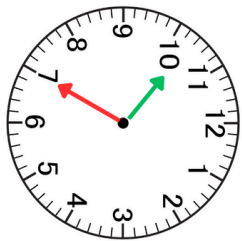


09 : 55

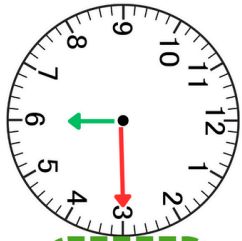
• اكتب التوقيت الذي تشير إليه كل ساعة:



بعد الزوال



مساء

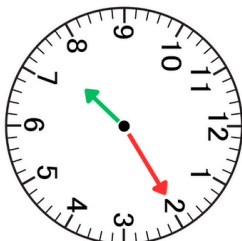


صباح

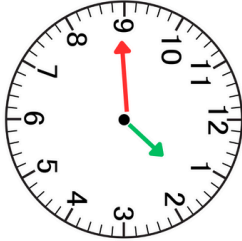
• •

• •

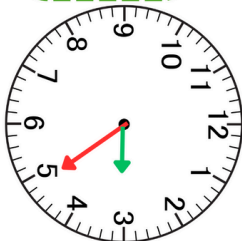
• •



مساء



صباح



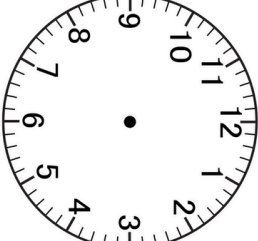
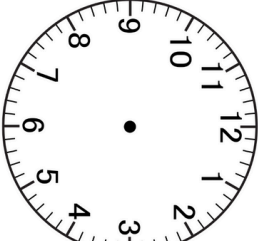
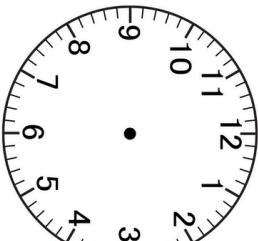
بعد الظهر

• •

• •

• •

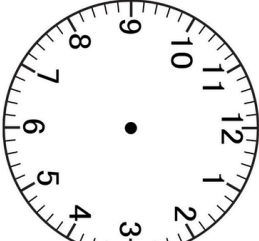
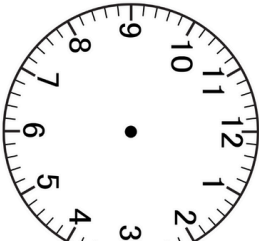
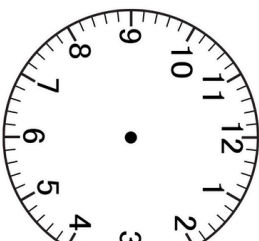
• ارسم عقري الساعة:



17 : 45

13 : 30

06 : 10



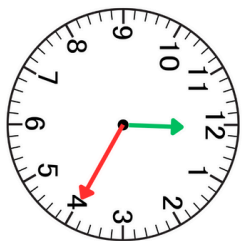
01 : 20

20 : 15

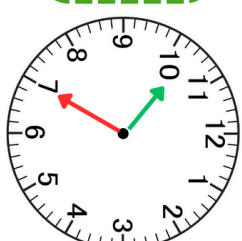
09 : 55

الاستاذ قدور هنشور

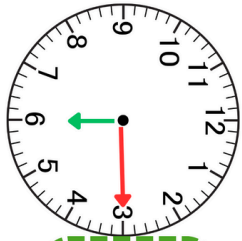
• اكتب التوقيت الذي تشير إليه كل ساعة:



بعد الزوال



مساء

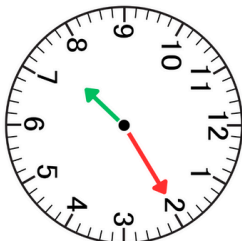


صباح

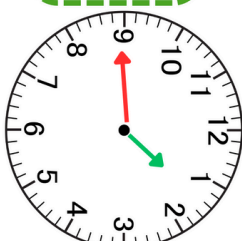
• •

• •

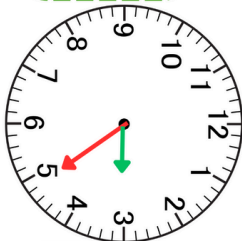
• •



مساء



صباح



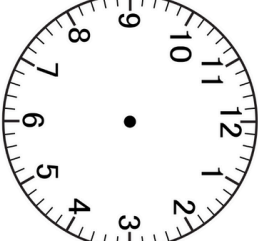
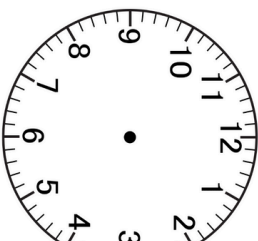
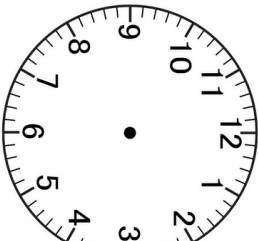
بعد الظهر

• •

• •

• •

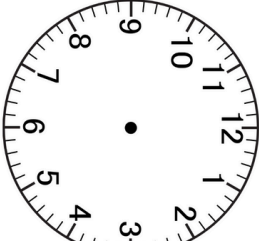
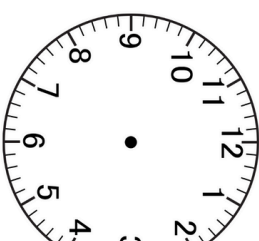
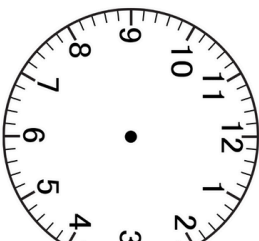
• ارسم عقري الساعة:



17 : 45

13 : 30

06 : 10




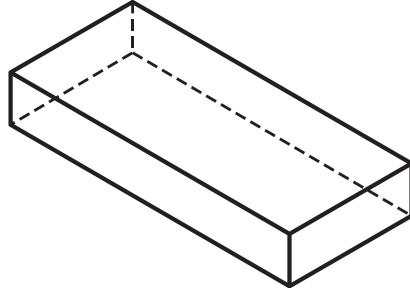

01 : 20

20 : 15

09 : 55

الاستاذ قدور هنشور

• سم المجسمات التالية:



.....

.....

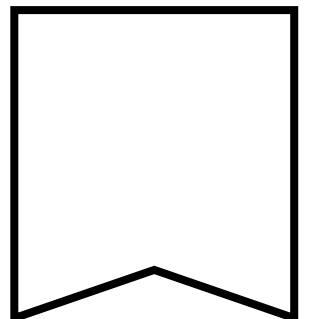
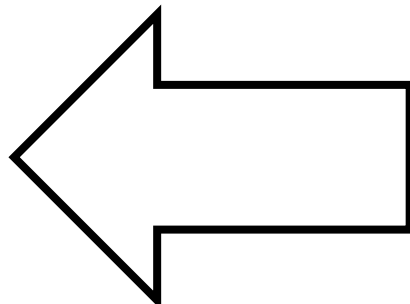

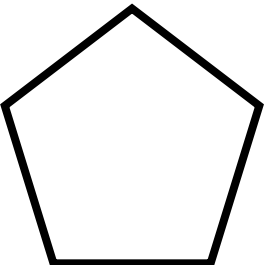
.....

.....


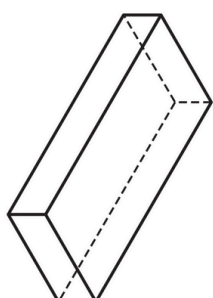


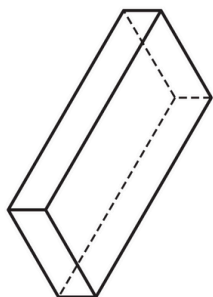

• أكمل الجدول

الشكل	عدد الواجهه	عدد الرؤوس	عدد الحروف
			
			
			

ارسم محور تناظر الأشكال وعين الزوايا القائمة إن وجدت



• سم الجسيمات التالية:



.....

.....

.....

.....




.....

.....

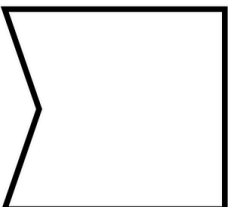

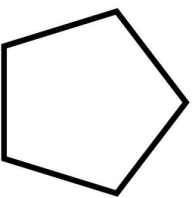
.....

.....


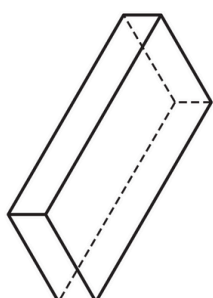

• أكمل الجدول

عدد الحروف	عدد الرؤوس	عدد الأوجه	الشكل
			
			
			

ارسم محور تناظر الأشكال وعين الرواي القائية إن وجدت



• سم الجسيمات التالية:






.....

.....

.....

.....

• أكمل الجدول

عدد الحروف	عدد الرؤوس	عدد الأوجه	الشكل
			
			
			

ارسم محور تناظر الأشكال وعين الرواي القائية إن وجدت

