



لَوْن الإِجَابَةِ الصَّحِيحَةِ


الوضعية 1



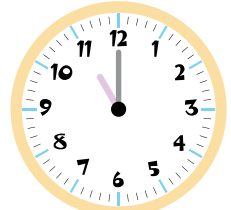
19 : 00 8 : 00



5 : 30 5 : 00



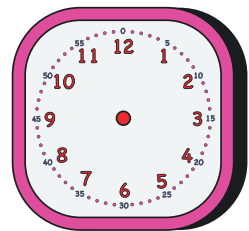
17 : 00 18 : 00



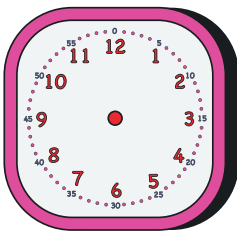
12 : 00 11 : 00

اكتب التوقيت المناسب او ارسم عقارب الساعة

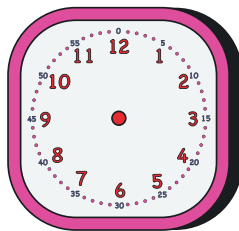
الوضعية 2



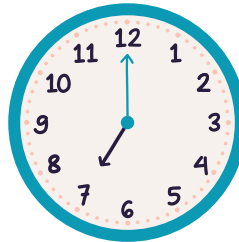
23 : 00



6 : 00

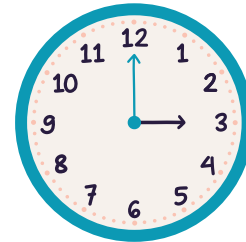


21 : 00



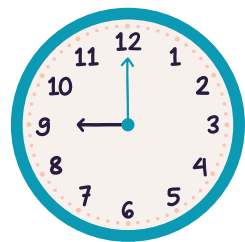
مَسَاءً

.... :



صَبَاحًا

.... :

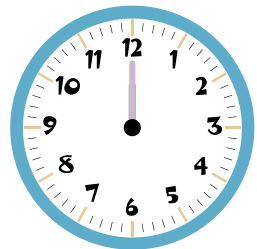


مَسَاءً

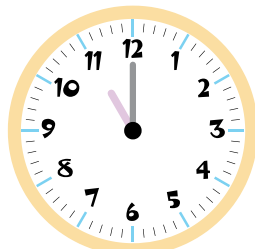
.... :

ضع علامة ✓ أمام الساعة التي تدل على التوقيت الصحيح و ✗ أمام التوقيت الخاطئ

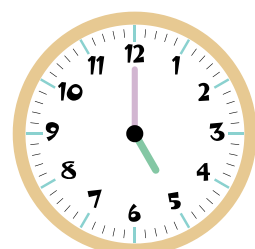
الوضعية 3




☐ 00:00



☐ 4:00



☐ 5:30



☐ 9:00

☐ 12:00

☐ 23:00

☐ 5:00

☐ 6:00

☐ 13:00

☐ 11:00

☐ 11:00

☐ 21:00

☐ 2:00

☐ 12:00

☐ 17:00

☐ 12:00