

تقويم تشخيصي رقم 01

التمرين الأول : 1- أكمل الجدول التالي بكتابة الأعداد العشرية في شكل كسور عشرية ، ثم رتب الكسور ترتيبا تنازليا .

2- أنقل و أنجز كل عملية من العمليات التالية عموديا :  $5,7 \times 54$  ;  $245,751 + 42,52$  ;  $958 - 73$

الترتيب التنازلي	8,2	8,15	15,28	15,279	العدد العشري
.....	.....	.....	$\frac{1528}{100}$	.....	كثابته الكسرية



$$\begin{array}{r} \times \\ \hline = \end{array} \quad \begin{array}{r} + \\ \hline = \end{array} \quad \begin{array}{r} - \\ \hline = \end{array}$$

التمرين الثاني : - أتمم التحويلات الآتية:

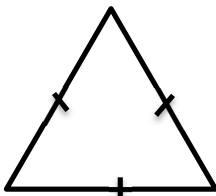
$$\begin{array}{l} 360 \text{ mm} = \dots\dots\dots \text{ cm} \quad ; \quad 5 \text{ kg} = \dots\dots\dots \text{ g} \\ 1.5 \text{ l} = \dots\dots\dots \text{ cl} \quad ; \quad 2\text{h}15\text{mn} = \dots\dots\dots \text{ mn} \end{array}$$

التمرين الثالث : أكتب الأعداد التالية بالحروف:

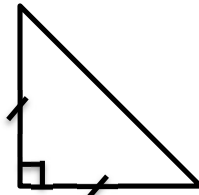
..... : 4786  
..... : 3805423  
..... : 236.2

التمرين الرابع : لاحظ هذه المثلثات التالية:

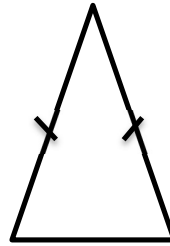
باستعمال الأدوات المناسبة أو بالاعتماد على التشفير، حدد نوع كل مثلث.



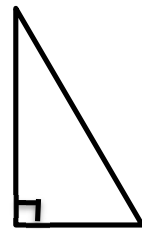
1



2



3



4

علم تلاميذ السنة الخامسة ابتدائي أن زميلهم محمد من عائلة فقيرة وهو في حاجة الى ملابس الشتاء.

تكفل 3 تلاميذ بجمع المبلغ من أوليائهم وكانت مساهمتهم كالآتي :

**مصطفى:** ضعف مادفع يوسف

**عائشة :** أقل من يوسف ب 400 DA

**يوسف:** 1 700 DA

1- أحسب مساهمة فارس .

2- أحسب مساهمة عائشة .

3- ماهو المبلغ الذي جمعه التلاميذ؟