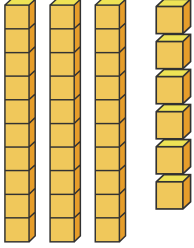
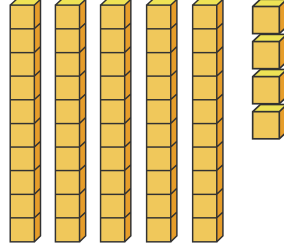


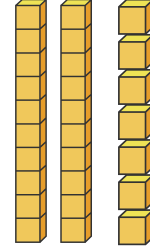
أحسب ثم لون العداد الصحيح



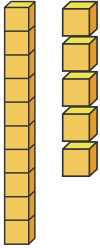
33 36 31



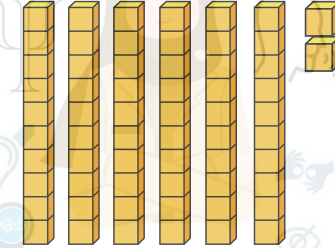
54 55 56



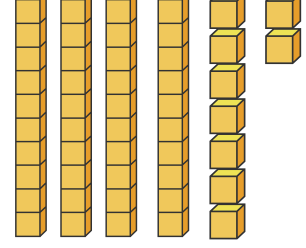
26 25 27



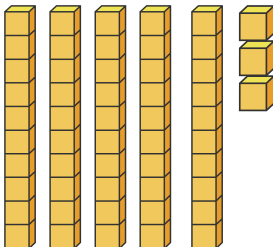
17 18 15



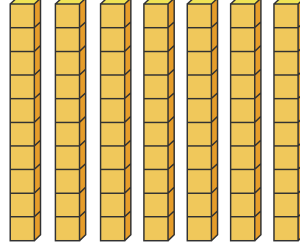
63 61 62



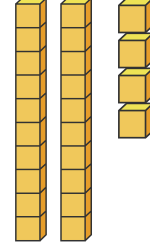
49 48 47



53 56 54



77 75 70



24 21 25


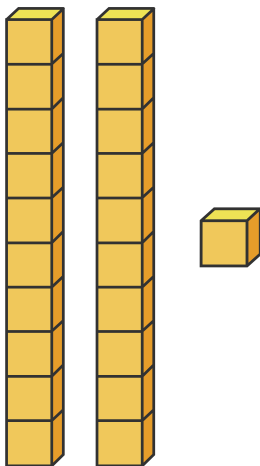

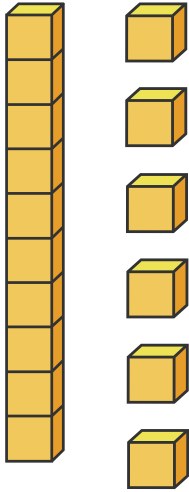
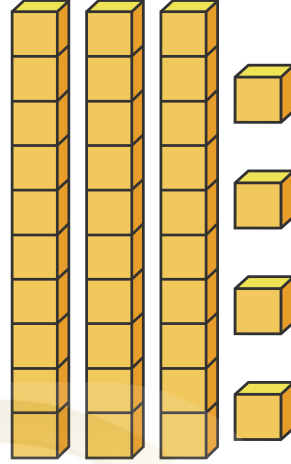
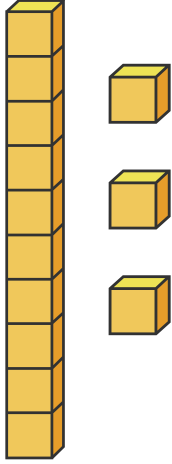
نقاز  
خديجة

المرحلة التمهيدية  
السنة الثانية



أحسب ثم اكتب العدد بالأرقام وبالحروف

2



أحسب ثم اكتب العدد بالأرقام وبالحروف

1 3 6 8 9

11 14 15 17 19 20

21 22 24 26 28 29

32 33 35 37 39 40

41 42 44 46 48 49

53 55 56 57 58 60

61 62 64 65 67 69 70

72 73 74 76 77 78

81 83 85 87 89

91 92 93 94 96 98 99




نقاز  
خديجة

المرحلة التمهيدية  
السنة الثانية

قارن بوضع إشارة أكبر أو أصغر أو تساوي

2



40 ○ 45      34 ○ 34

15 ○ 23      28 ○ 82

78 ○ 12      24 ○ 24

50 ○ 50      84 ○ 51

90 ○ 98      12 ○ 67





نقاز  
خديجة

المرحلة التمهيدية  
السنة الثانية

2

أجرِ العمليات لتصل إلى نقطة النهاية

