

الوضعية :

تعلم ادماج

من أبرز ما يميز القصر العثماني الفنون الخزفية النادرة التي تتكون من بلاطة من الخزف مرسوم عليها أشكال هندسية ، الى أن رميماء انتابتها الرغبة في إنشاء صورة الإفريزة المعطاة بالإنسحاب الذي يحول E الى F .

ساعد رميماء
في إنجاز صورة
الإفريزة موظفا
خواص الإنسحاب

الوضعية :

تعلم ادماج

من أبرز ما يميز القصر العثماني الفنون الخزفية النادرة التي تتكون من بلاطة من الخزف مرسوم عليها أشكال هندسية ، الى أن رميماء انتابتها الرغبة في إنشاء صورة الإفريزة المعطاة بالإنسحاب الذي يحول E الى F .

ساعد رميماء
في إنجاز صورة
الإفريزة موظفا
خواص الإنسحاب

الوضعية :

تعلم ادماج

من أبرز ما يميز القصر العثماني الفنون الخزفية النادرة التي تتكون من بلاطة من الخزف مرسوم عليها أشكال هندسية ، الى أن رميماء انتابتها الرغبة في إنشاء صورة الإفريزة المعطاة بالإنسحاب الذي يحول E الى F .

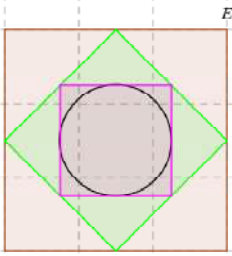
ساعد رميماء
في إنجاز صورة
الإفريزة موظفا
خواص الإنسحاب

الوضعية :

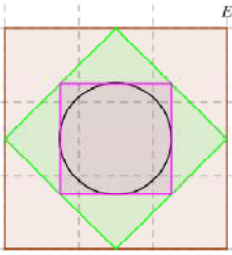
تعلم ادماج

من أبرز ما يميز القصر العثماني الفنون الخزفية النادرة التي تتكون من بلاطة من الخزف مرسوم عليها أشكال هندسية ، الى أن رميماء انتابتها الرغبة في إنشاء صورة الإفريزة المعطاة بالإنسحاب الذي يحول E الى F .

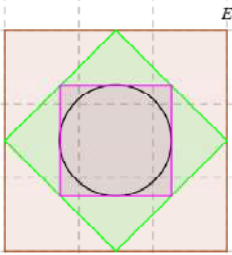
ساعد رميماء
في إنجاز صورة
الإفريزة موظفا
خواص الإنسحاب



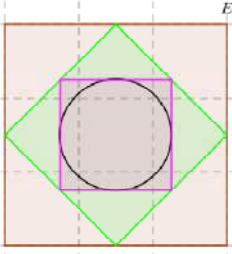
F



F



F

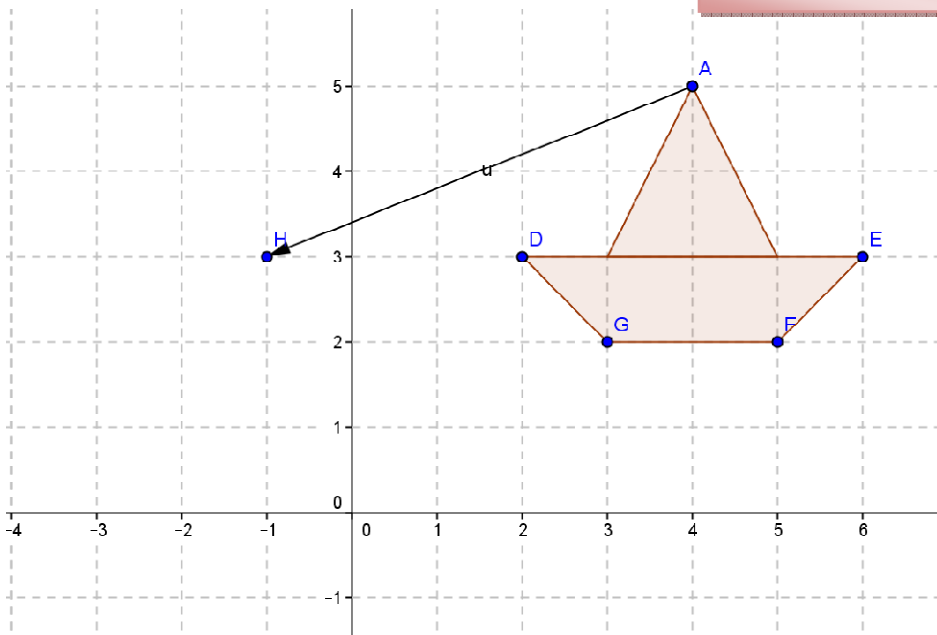


F

الوضعية :

معالجة بيداغوجية

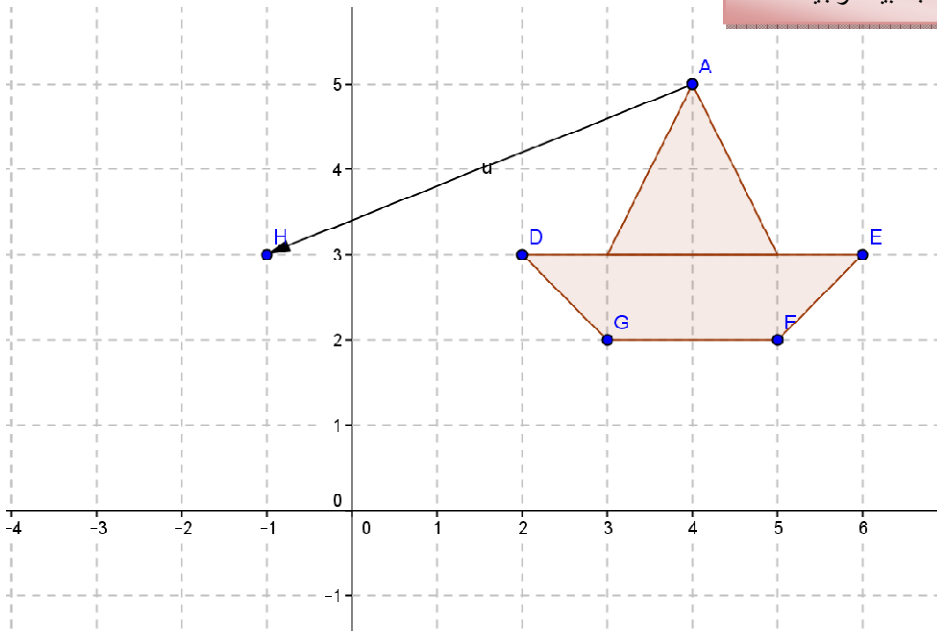
أنشئ صورة الشكل المقابل بالإنسحاب الذي يحول
A إلى H .
أعط إحداثيات كل من النقاط E ; D ; F ; H
وصورها .



الوضعية :

معالجة بيداغوجية

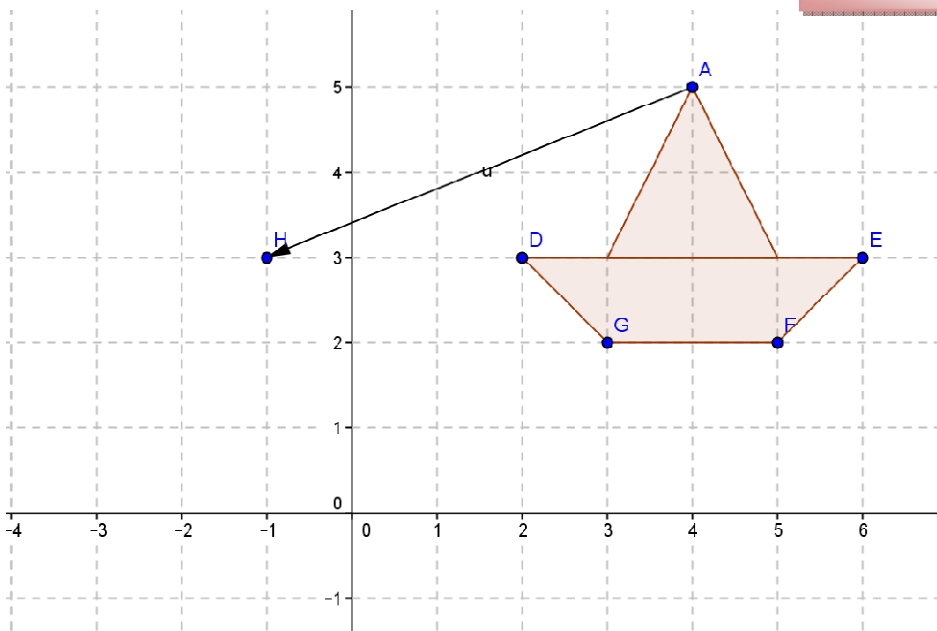
أنشئ صورة الشكل المقابل بالإنسحاب الذي يحول
A إلى H .
أعط إحداثيات كل من النقاط E ; D ; F ; H
وصورها .



الوضعية :

معالجة بيداغوجية

أنشئ صورة الشكل المقابل بالإنسحاب الذي يحول
A إلى H .
أعط إحداثيات كل من النقاط E ; D ; F ; H
وصورها .

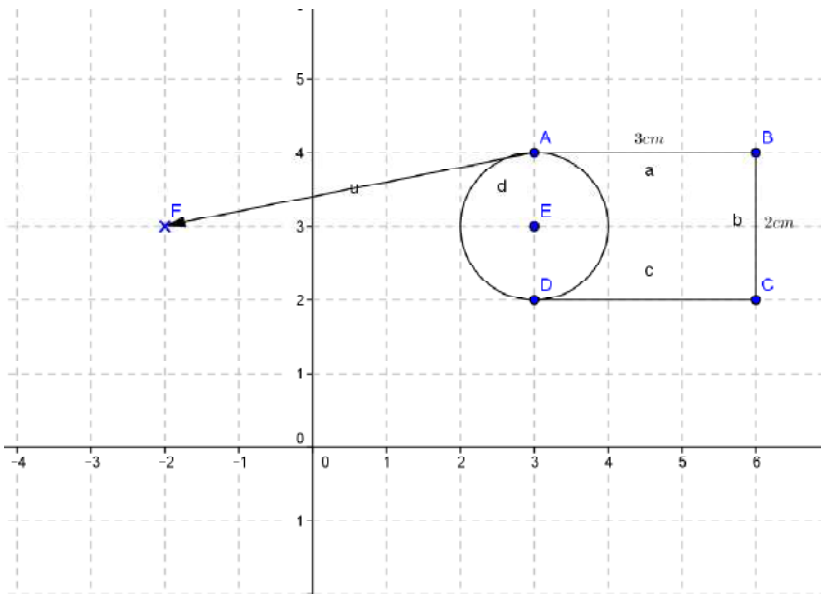


أعمال موجهة

الوضعية :

- 1/ أحسب مساحة الشكل الهندسي المقابل .
- 2/ أنشئ صورة الشكل المقابل بالإنسحاب الذي يحول A إلى F .
- 3/ أعط إحداثيات كل من النقاط A ; B ; C ; D ; E ; وصورها .
- 4/ استنتج مساحة الشكل الهندسي المتحصل عليه .

أستاذ المادة : شداد لحسن

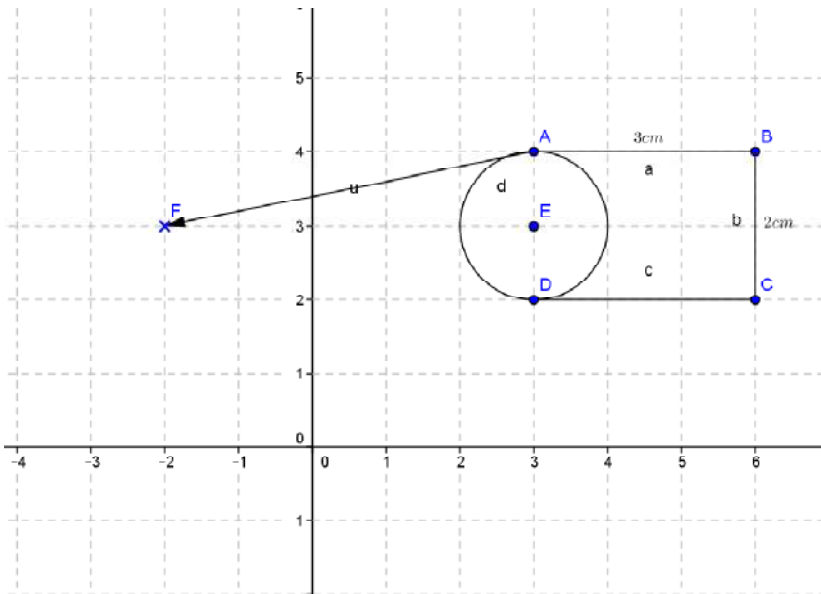


أعمال موجهة

الوضعية :

- 1/ أحسب مساحة الشكل الهندسي المقابل .
- 2/ أنشئ صورة الشكل المقابل بالإنسحاب الذي يحول A إلى F .
- 3/ أعط إحداثيات كل من النقاط A ; B ; C ; D ; E ; وصورها .
- 4/ استنتج مساحة الشكل الهندسي المتحصل عليه .

أستاذ المادة : شداد لحسن

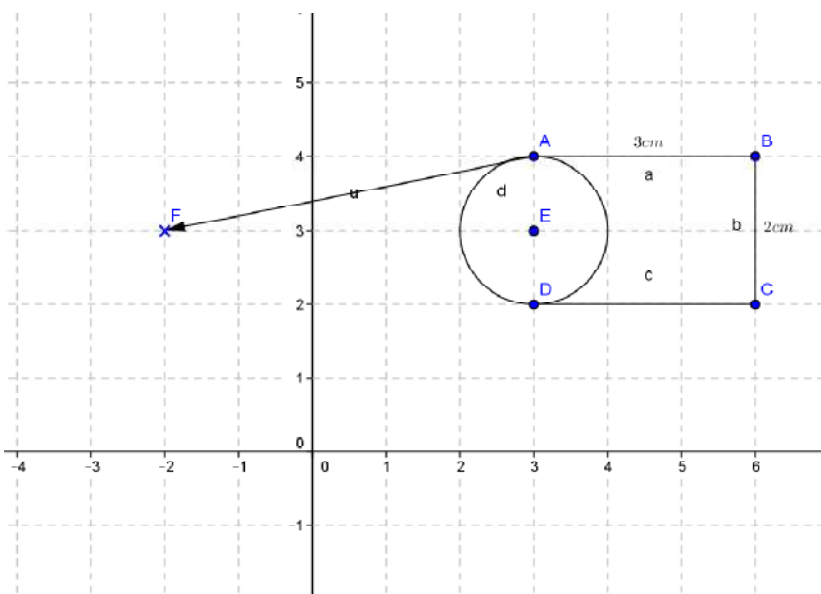


أعمال موجهة

الوضعية :

- 1/ أحسب مساحة الشكل الهندسي المقابل .
- 2/ أنشئ صورة الشكل المقابل بالإنسحاب الذي يحول A إلى F .
- 3/ أعط إحداثيات كل من النقاط A ; B ; C ; D ; E ; وصورها .
- 4/ استنتج مساحة الشكل الهندسي المتحصل عليه .

أستاذ المادة : شداد لحسن



Belhocine : <https://prof27math.weebly.com/>